

السلاطان

مذكرات

الدراسات الإجتهادية

الصف الثالث الإعدادي



إعداد
محمد مفتحي



012 000 28 345



EL.Sulttan

المذكرات السلطان

الدراسات الإجتماعية الصف الثالث الإعدادي

- شرح وافى ومبسط لجميع النقاط.
- أسئلة على أهم النقاط.
- مراجعة شاملة بعد كل درس.



مذكرات السلطان

www.facebook.com/EL.Sulttan



تابعنا على صفحتنا

قارات العالم

توزيع اليابس والماء

■ تبلغ مساحة الكرة الأرضية ٥١٠ مليون كم^٢.

• **الماء:** يشغل من مساحة الكرة الأرضية ٧٠,٧٪ وتشمل: (محيطات - بحار - بحيرات - أنهار - خلجان).

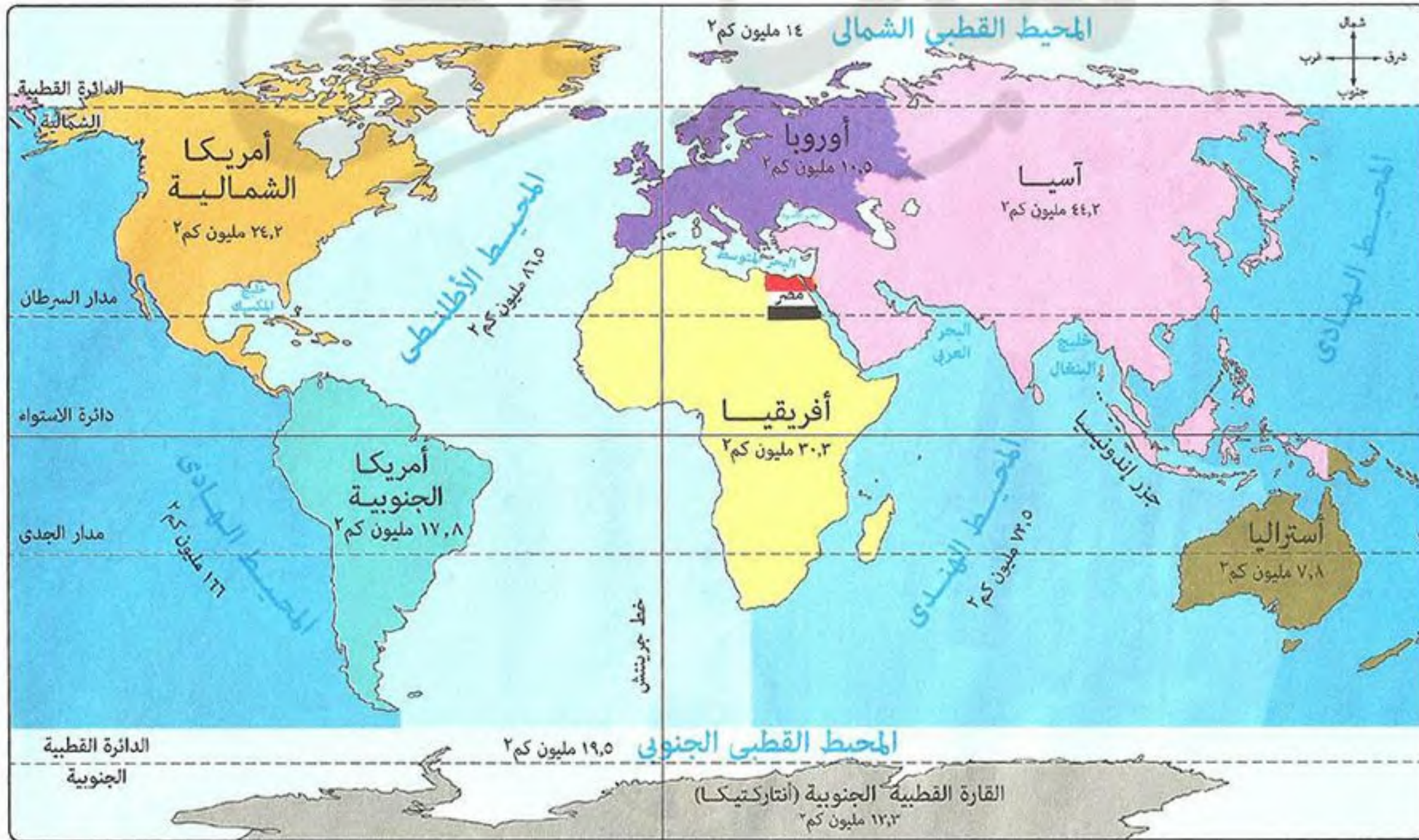
• **اليابس:** يشغل من مساحة الكرة الأرضية ٢٩,٣٪ ويشمل: (الجزر - القارات).

■ **المحيطات (عددتها خمسة وهي):**

- (١) المحيط الهادى (أكبر المحيطات).
- (٢) المحيط الأطلنطى.
- (٣) المحيط الهندى.
- (٤) المحيط القطبى الجنوبى.
- (٥) المحيط القطبى الشمالى (أصغر المحيطات).

■ **القارات (عددتها سبعة وهي):**

- (١) آسيا (أكبر القارات).
- (٢) أفريقيا.
- (٣) أوروبا. { قارات العالم القديم
- (٤) أمريكا الشمالية.
- (٥) أمريكا الجنوبية.
- (٦) القطبية الجنوبية / أنتاركتيكا.
- (٧) أستراليا / الأوقيانوسية (أصغر المحيطات). { قارات العالم الجديد



الموقع الجغرافى

هو موقع المكان بالنسبة للأماكن المجاورة من بحار ومحيطات أو دول وقارات.

الموقع الفلكى

هو موقع المكان بالنسبة لخطوط الطول ودوائر العرض.

* **يكثر اليابس في النصف الشمالى من الكرة الأرضية وتقل المياه.**

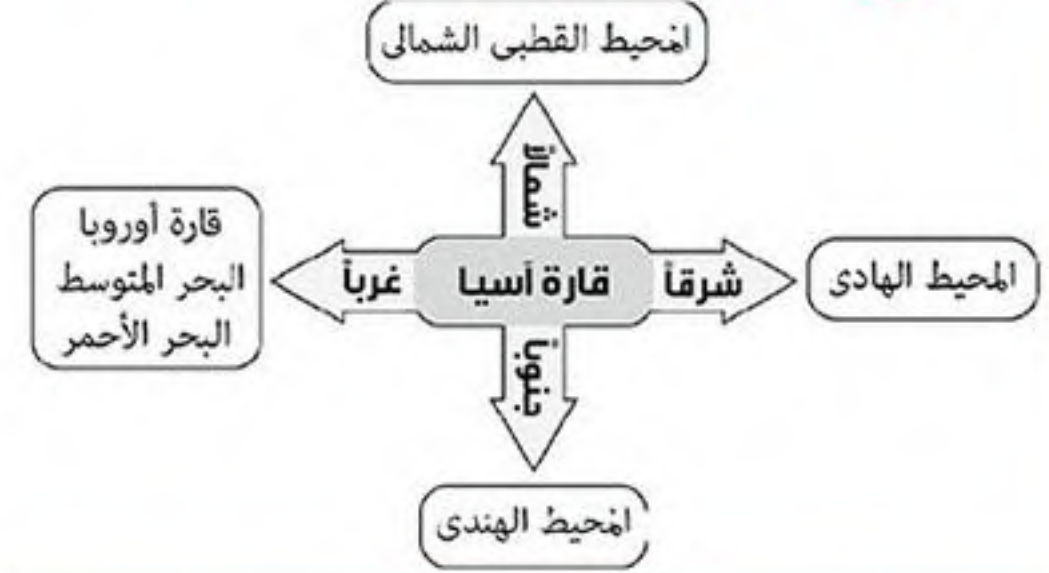
* **تكثر المياه في النصف الجنوبى من الكرة الأرضية ويقل اليابس.**

١ قارة آسيا

الموقع الفلكي:

- تمتد بين دائرتي عرض: ٨١° شمالاً: ١٠° جنوباً.
- تمتد بين خطي طول: ٢٦° شرقاً: ١٧٠° غرباً.

الموقع الجغرافي (يحد آسيا):



تتميز قارة آسيا بالآتي:

- يحيط بها المحيطات من ثلاث جهات الشمال - الجنوب - الشرق.
- يوجد بها أكبر بحر مغلق في العالم هو بحر قزوين.
- يقترب من سواحلها العديد من الجزر مثل: الجزر اليابان - جزر الفلبين.
- يوجد بها أشباه جزر مثل: شبه الجزيرة العربية - شبه جزيرة الملايو.

يفصل قارة آسيا عن:

- قارة أوروبا: جبال أورال.
- قارة أفريقيا: البحر الأحمر، وتتصل بها عند شبه جزيرة سيناء، وتقترب منها عند مضيق باب المندب.

٢ قارة أفريقيا

الموقع الفلكي:

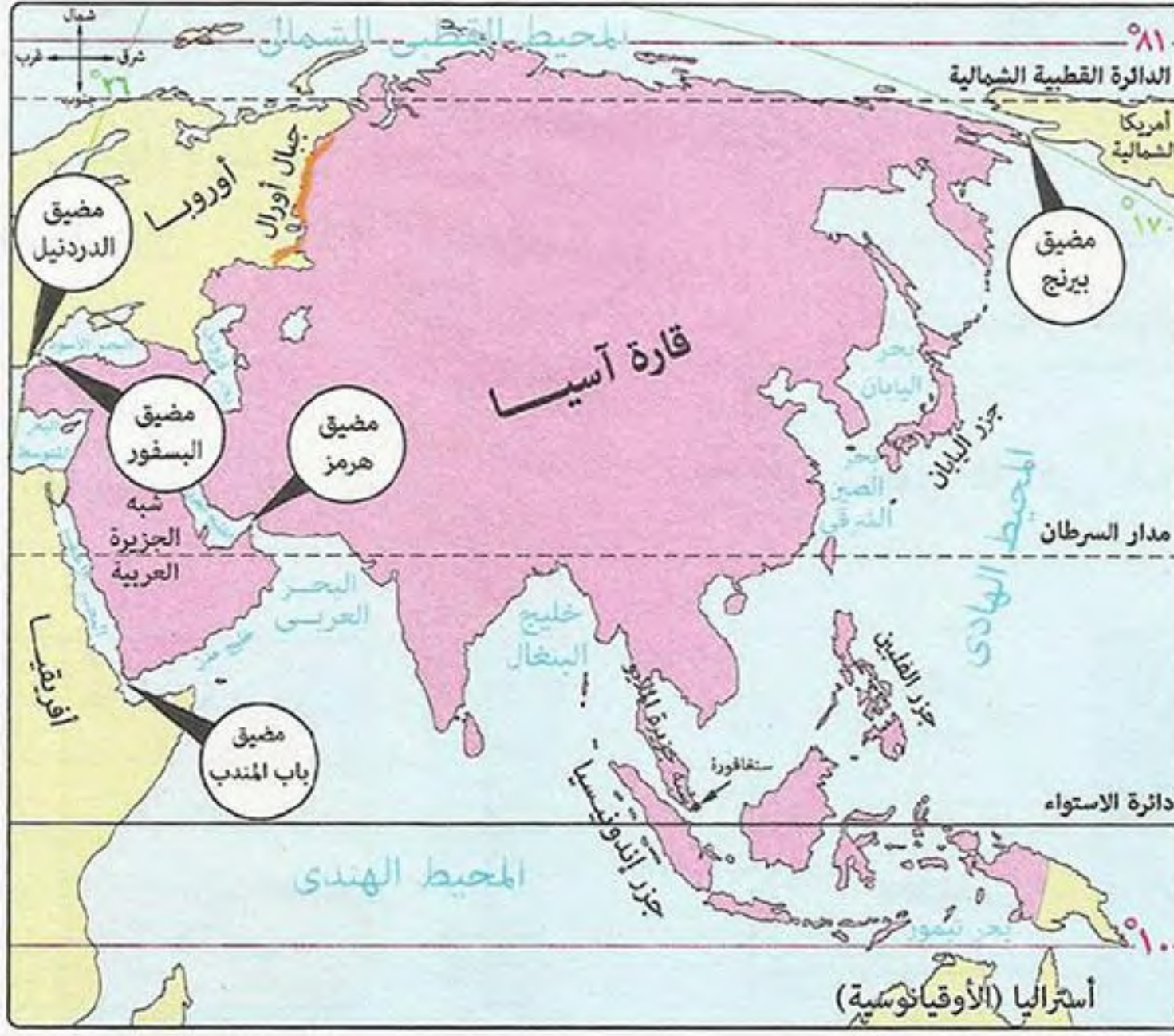
- تمتد بين دائرتي عرض: ٣٧.٣٠° شمالاً: ٣٤.٣٠° جنوباً.
- تمتد بين خطي طول: ٥١° شرقاً: ١٧° غرباً.

الموقع الجغرافي (يحد أفريقيا):



تتميز قارة أفريقيا بالآتي:

- قلة الجزر وأهمها جزيرة مدغشقر - جزر القمر.
- وقوع مصر: في الركن الشمالي الشرقي من قارة أفريقيا.



بحر مغلق

هو بحر يوجد داخل اليابس ولا يتصل ببحار أخرى أو محيطات.

دول جزرية

هي دول تتكون من جزيرة أو أكثر أو قد تكون جزء من جزيرة.

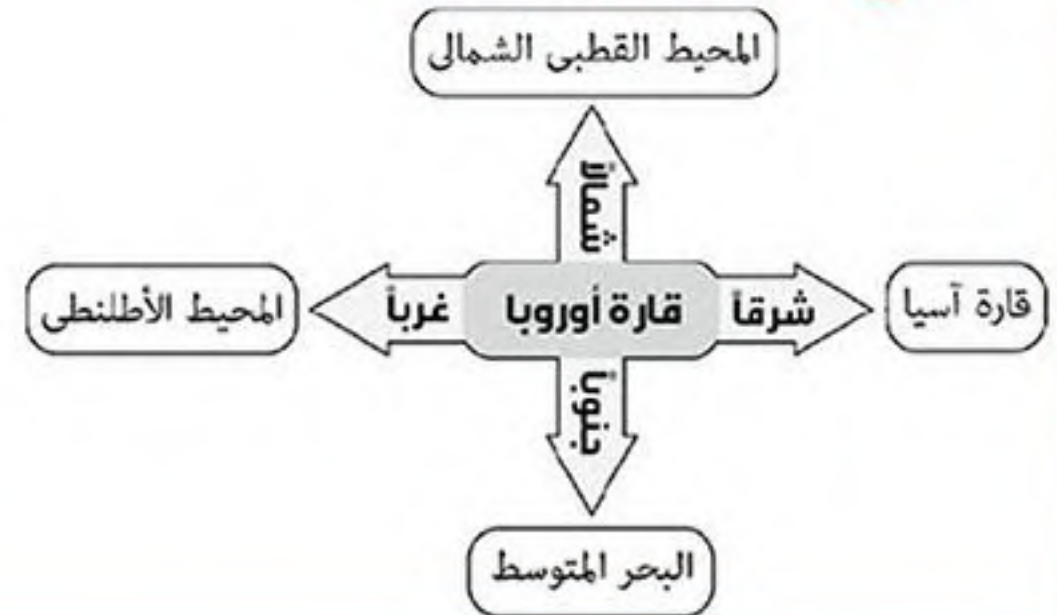


٣ قارة أوروبا

الموقع الفلكي:

- تمتد بين دائرتي عرض: ٣٦° شمالاً: ٧١° شمالاً.
- تمتد بين خطي طول: ٦٦° شرقاً: ٢٥° غرباً (غرب آيسلندا).

الموقع الجغرافي (يحد أوروبا):



تتميز قارة أوروبا بالآتي:

- تعرج السواحل وكثرة الجزر.

ما النتائج المترتبة على: تعرج السواحل وكثرة الجزر في قارة أوروبا؟
 كم ساعد ذلك على: إنشاء الموانئ الطبيعية.

تدريب سريع

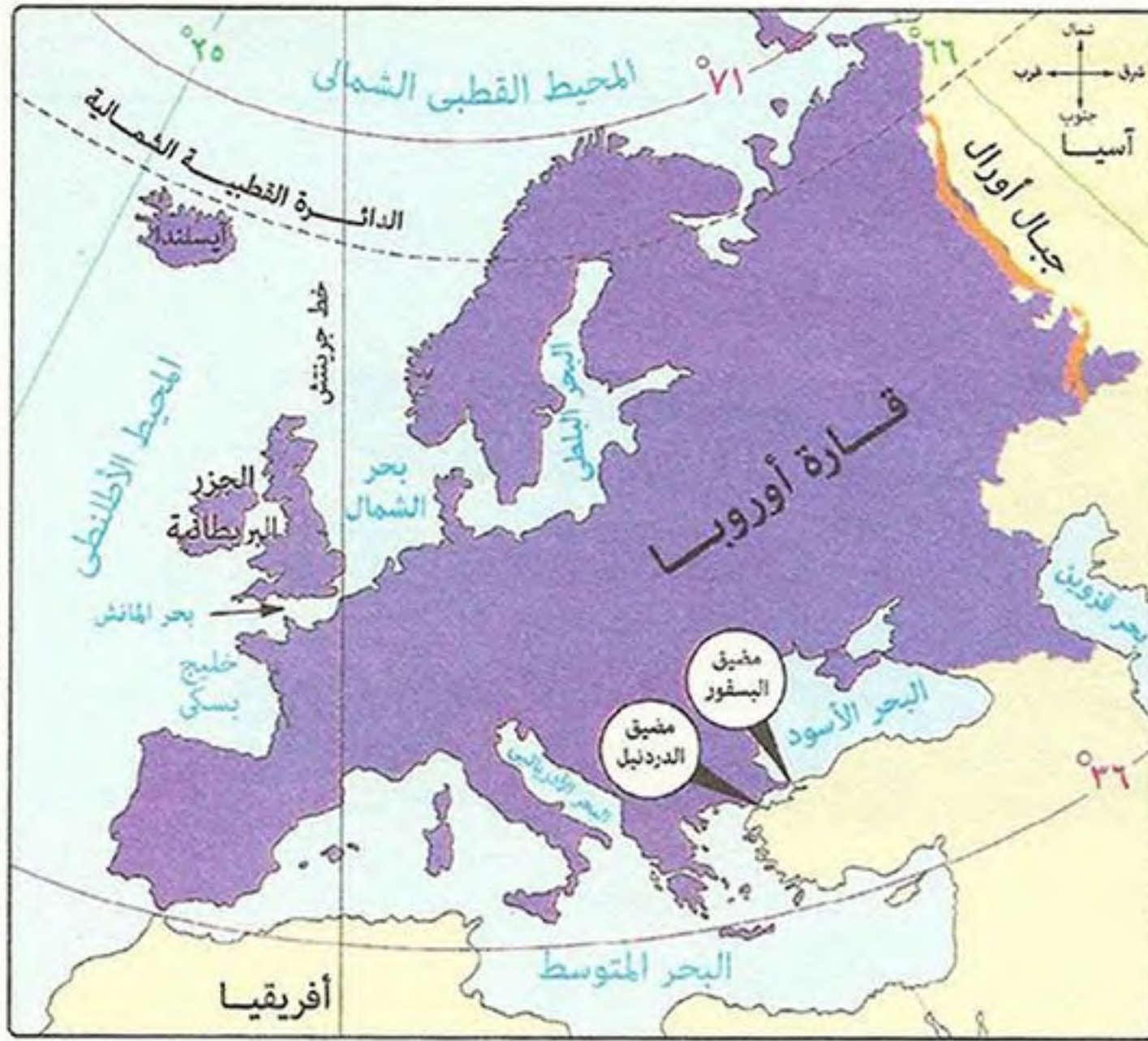


أكمل:

- ١- يفصل قارة آسيا عن قارة أوروبا
- ٢- يفصل قارة أوروبا عن قارة أفريقيا
- ٣- أكبر البحار المغلقة هو ويقع في قارة
- ٤- يوجد بقارة أفريقيا جزر مثل و
- ٥- يوجد بقارة آسيا دول جزرية مثل و و
- ٦- يحد قارة أوروبا شمالاً وغرباً
- ٧- يحد قارة آسيا شمالاً وجنوباً
- ٨- يفصل قارة آسيا عن قارة أفريقيا البحر
- ٩- من أشباه الجزر في قارة آسيا شبه جزيرة وشبه الجزيرة

ضع علامة (✓) أو (×):

١. تبلغ مساحة الكرة الأرضية نحو ٥١٠ مليون كم^٢. ()
٢. يمر خط الاستواء بقارة أفريقيا وقارة آسيا وأوروبا. ()
٣. يحد المحيط الهندي قارة أفريقيا من ناحية الشرق. ()
٤. من الدول الجزرية دولة اليابان والفلبين. ()

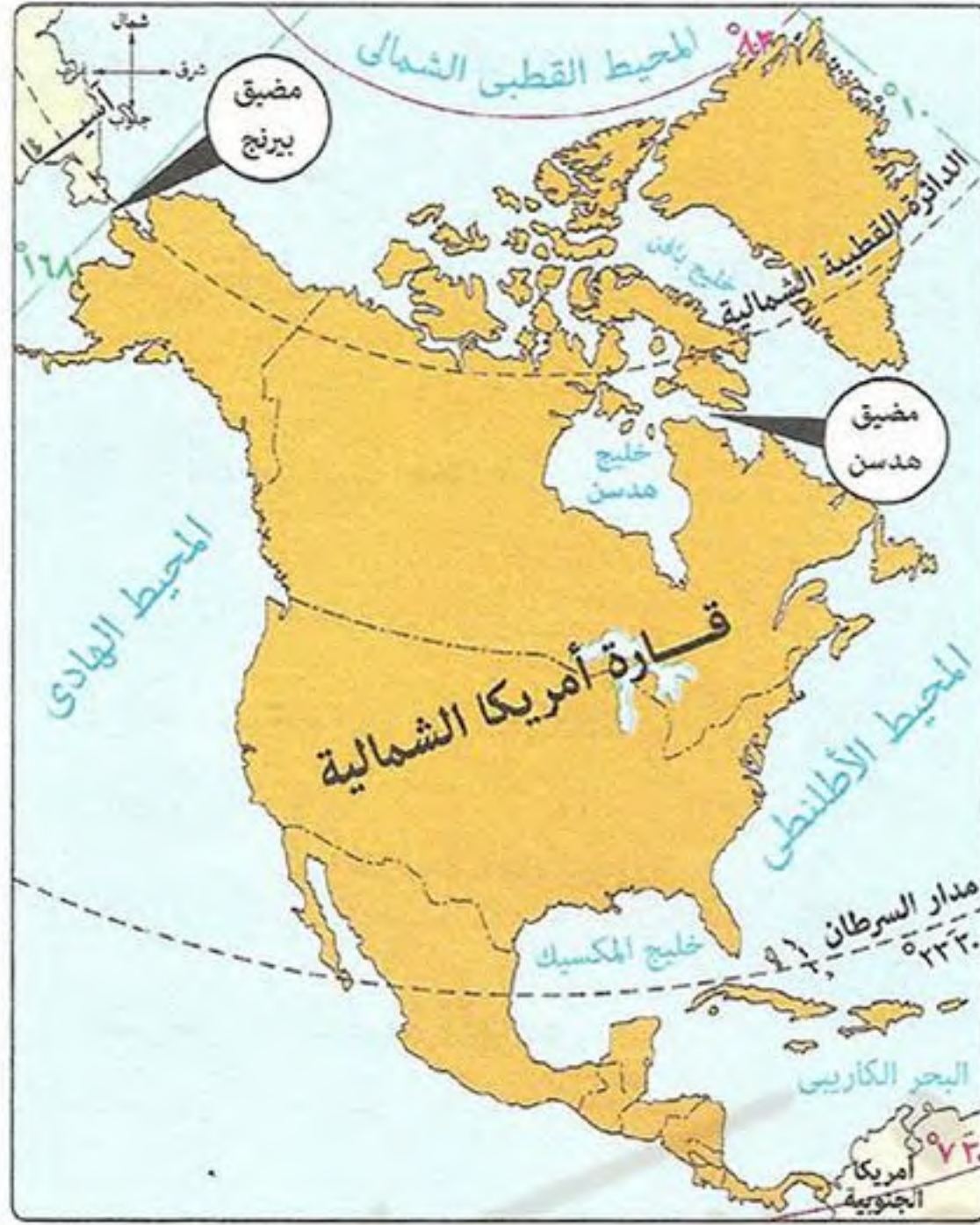
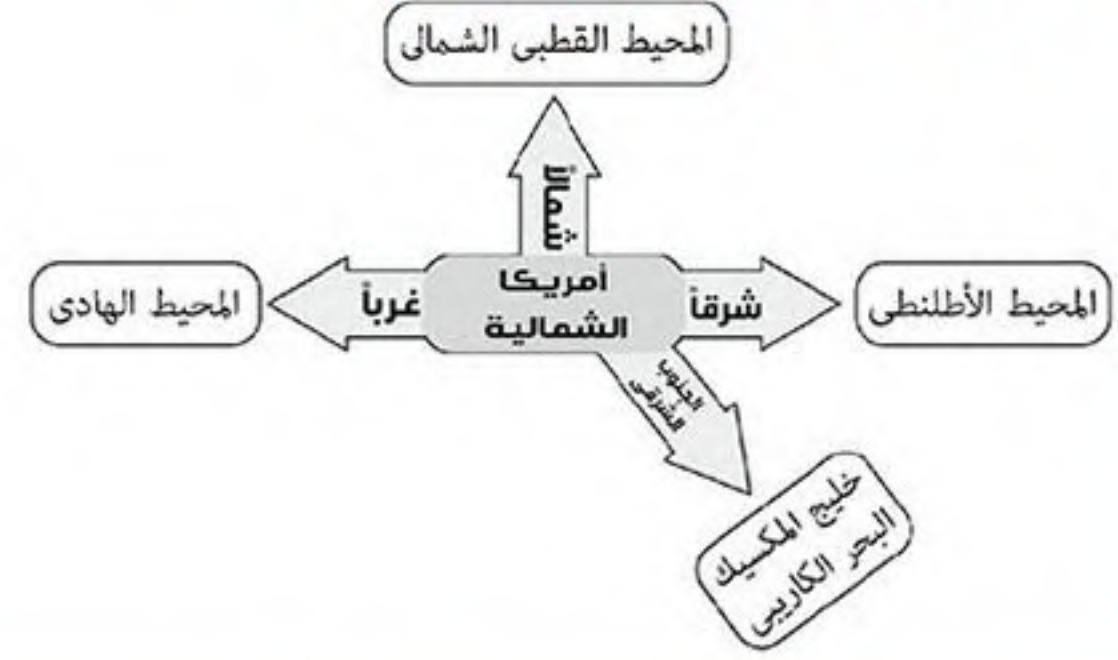


٤ قارة أمريكا الشمالية

الموقع الفلكي:

- تمتد بين دائرتي عرض: 30° شمالاً: 83° شمالاً.
- تمتد بين خطي طول: 10° غرباً: 168° غرباً.

الموقع الجغرافي (يحد أمريكا الشمالية):



٥ قارة أمريكا الجنوبية

الموقع الفلكي:

- تمتد بين دائرتي عرض: 12° شمالاً: 56° جنوباً.
- تمتد بين خطي طول: 35° غرباً: 81° غرباً.

الموقع الجغرافي (يحد أمريكا الجنوبية):



تتميز قارة أمريكا الجنوبية بالآتي:

- تبدو في شكل أقرب للمثلث.



مذكرات السلطان

www.facebook.com/EL.Sulttan



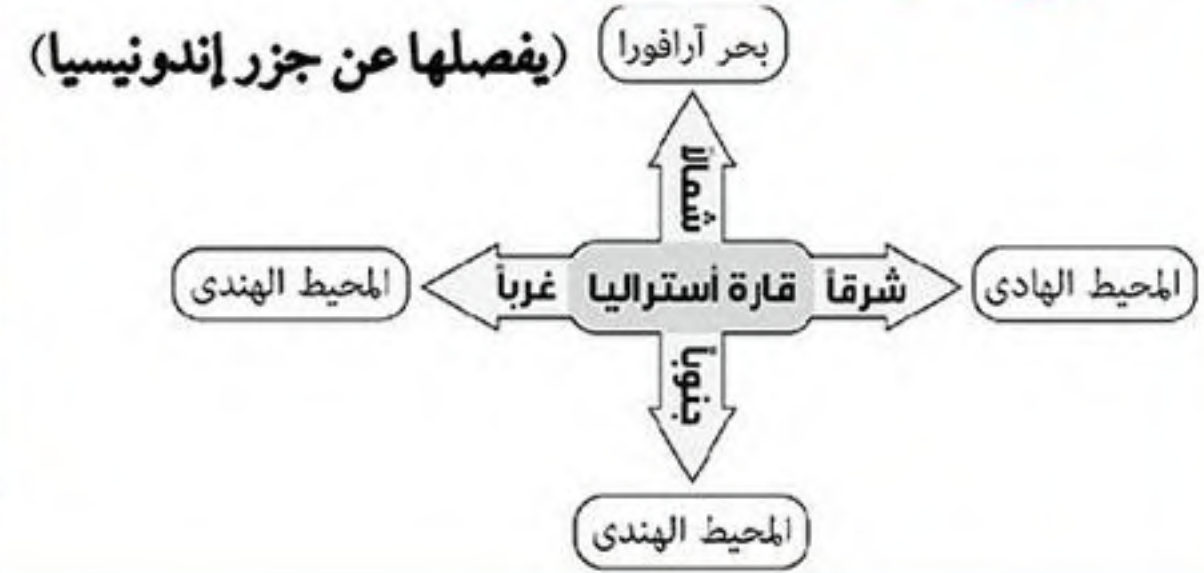
تابعنا على صفحتنا

٦ قارة أستراليا (الأوقيانوسية)

الموقع الفلكي:

- تمتد بين دائرتي عرض: ١٠° جنوباً: ٤٤° جنوباً.
- تمتد بين خطي طول: ١١٣° شرقاً: ١٧٨° شرقاً.

الموقع الجغرافي (يحد أستراليا):



تتميز قارة أستراليا بالآتي:

- تضم مجموعة من الجزر أهمها: نيوزيلندا الشمالية - نيوزيلندا الجنوبية - وتسمانيا ومجموعات من الجزر الصغيرة في المحيط الهادي.

٧ القارة القطبية الجنوبية (أنتاركتيكا)

موقع القارة القطبية الجنوبية (أنتاركتيكا):

- تقع أقصى جنوب الكرة الأرضية عند القطب الجنوبي.
- يحيط بها المحيط القطبي الجنوبي: من جميع الجهات.

ما النتائج المترتبة على: وقوع قارة أنتاركتيكا عند القطب الجنوبي؟
 كما ترتب على ذلك: أصبحت متجمدة طوال العام وغير مأهولة بالسكان.

تتميز القارة القطبية الجنوبية (أنتاركتيكا) بالآتي:

- يوجد بها بعض مراكز بحوث في مناطق مقسمة بين عدد من الدول لها مصالح بها مثل: روسيا. فرنسا. إنجلترا. الولايات المتحدة الأمريكية.



www.facebook.com/EL.Sulttan

انتظر المراجعة على صفحتنا

الاختبار الأول

أكمل:

١. يحيط بقارة آسيا محيطات.
٢. تتميز قارة أوروبا بـ وكثرة
٣. أكبر المحيطات هو المحيط بينما أكبر القارات هي قارة
٤. يفصل قارة آسيا عن قارة أفريقيا وتتصل بها عند
٥. تقع دولة شمال شرق أفريقيا.
٦. تقع شبه جزيرة الملايو في قارة
٧. تقل الجزر في قارة ومنها جزيرة و.....
٨. يكثر اليابس في نصف الكرة الأرضية

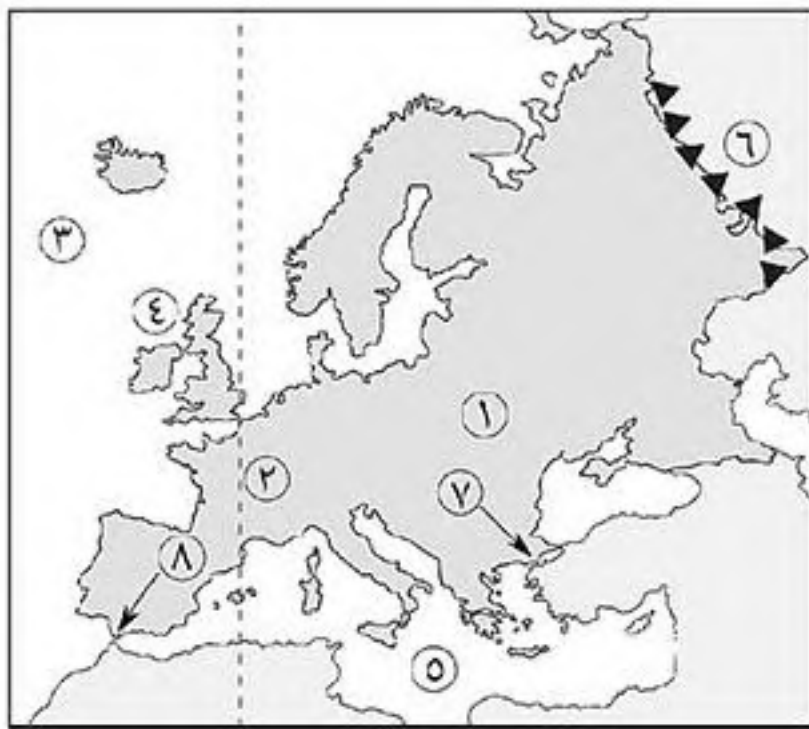
بم تفسر:

- (١) أهمية تعرج السواحل وكثرة الجزر في قارة أوروبا ؟

ضع علامة (✓) أو (×):

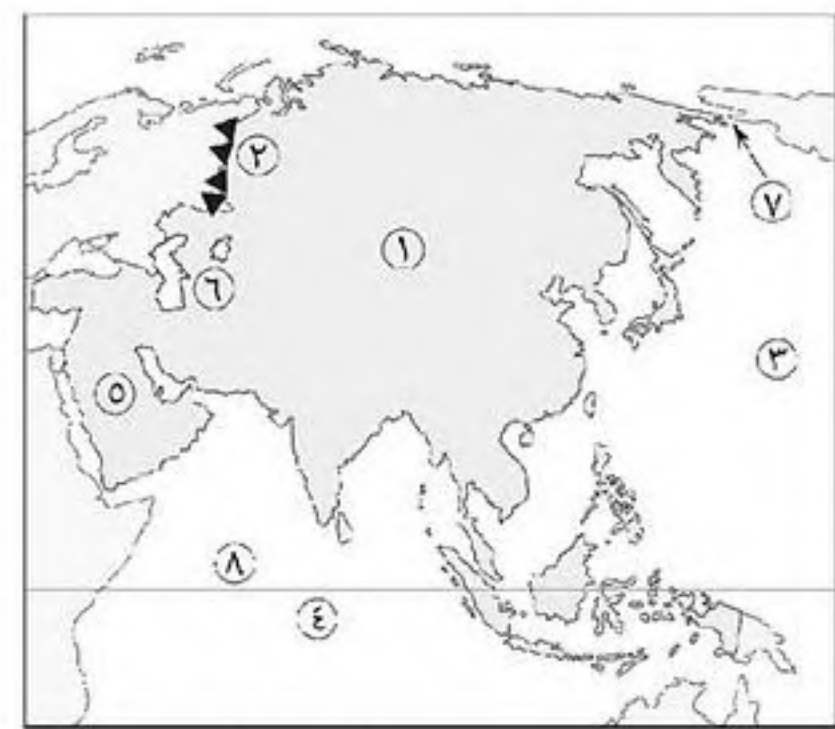
١. أصغر قارات العالم هي قارة أوروبا. ()
٢. يمر خط الاستواء بقارة أفريقيا وقارة آسيا وأوروبا. ()
٣. يمر بقارة آسيا ٣ دوائر عرض رئيسية. ()
٤. من الدول الجزرية في آسيا دولة اليابان والفلبين. ()
٥. يفصل قارة أوروبا عن قارة أفريقيا البحر الأحمر. ()

أكتب ما تشير إليه الأرقام الآتية:



(٢)

- | | |
|-----------------|-----------------|
| ١. قارة | ٢. خط طول |
| ٣. المحيط | ٤. الجزر |
| ٥. البحر | ٦. جبال |
| ٧. مضيق | ٨. مضيق |



(١)

- | | |
|----------------------|--------------------|
| ١. قارة | ٢. جبال |
| ٣. المحيط | ٤. المحيط |
| ٥. شبه الجزيرة | ٦. بحر |
| ٧. مضيق | ٨. دائرة عرض |



تطبيق مذكرات جاهزة للطباعة

تحميل عليه من

App Store

احصل عليه من

Google Play

حمل التطبيق على موبيلك الأندرويد أو الآيفون
موقع مذكرات جاهزة للطباعة - www.cryp2day.com

الاختبار الثاني

أكمل:

- ١- تبلغ مساحة الكرة الأرضية نحو
- ٢- تبلغ نسبة الماء في الكرة الأرضية نحو بينما تبلغ نسبة اليابس نحو
- ٣- يحد قارة أمريكا الشمالية من الجنوب الشرقي و.....
- ٤- تبدو قارة أمريكا الجنوبية في شكل أقرب
- ٥- يفصل قارة أستراليا عن جزر بحر
- ٦- أهم جزر قارة أفريقيا جزيرة بينما جزيرة تسمانيا أهم الجزر في قارة
- ٧- تقع قارة عند القطب الجنوبي للكرة الأرضية.

بم تفسر:

- ١- قارة أنتاركتيكا غير مأهولة بالسكان ؟

- ٢- سهولة إنشاء موانئ على سواحل قارة أوروبا ؟

إلى أي قارة ينتمي كل من:

- ١- جزيرة مدغشقر؟ ٤- دولة البرازيل ؟ ٧- جزيرة صقلية ؟
- ٢- شبه جزيرة الملايو؟ ٥- جزر إندونيسيا ؟ ٨- جزيرة آيسلندا ؟
- ٣- جزر نيوزيلندا ؟ ٦- الجزر البريطانية ؟ ٩- دولة كندا ؟

أكتب ما تشير إليه الأرقام الآتية:



(٢)

١. قارة ٢. المحيط
٣. المحيط ٤. بحر
٥. جزر ٦. جزر
٧. مدار ٨. جزيرة



(١)

١. قارة ٢. المحيط
٣. المحيط ٤. مضيق
٥. دولة ٦. جزر
٧. خليج ٨. دائرة عرض

ما المقصود بالمصطلحات الآتية:

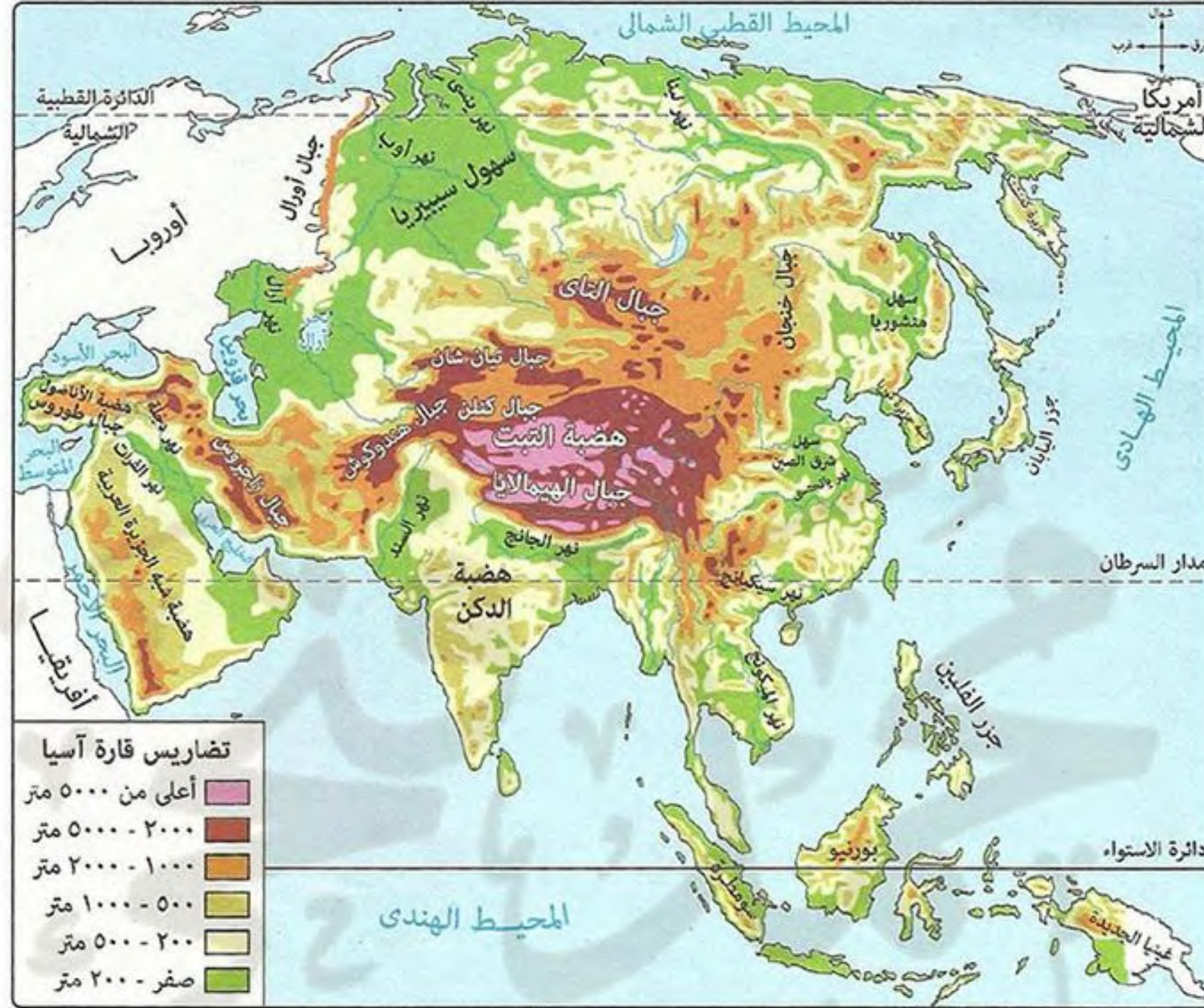
- ١- بحر مغلق ؟
- ٢- موقع فلكي ؟
- ٣- موقع جغرافي ؟
- ٤- دولة جزرية ؟



تضاريس العالم

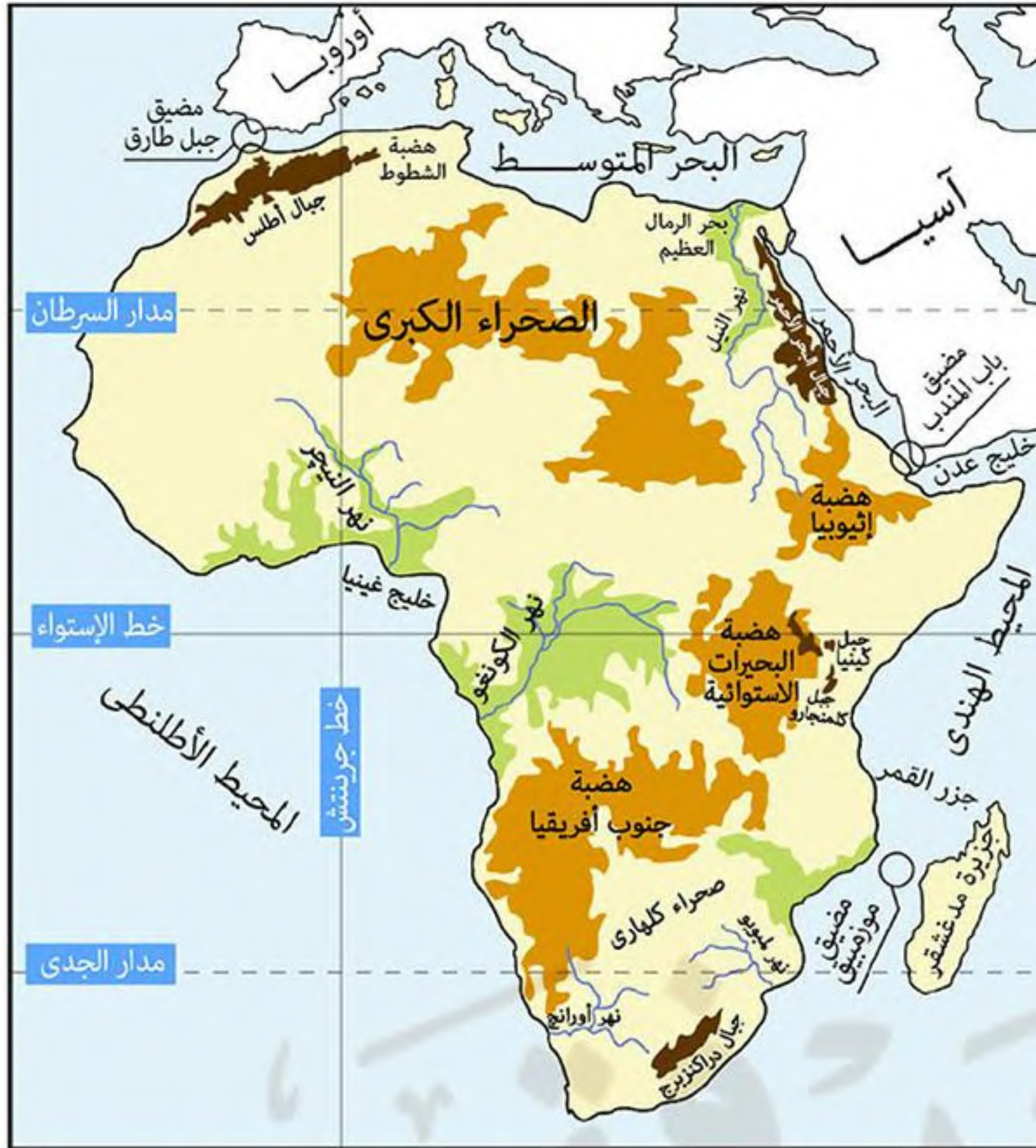
- * تنقسم التضاريس ثلاثة أقسام رئيسية: جبال - هضاب - سهول.
- * تختلف الأقسام التضاريسية في امتدادها ومساحتها وارتفاعها من قارة إلى أخرى.

١ تضاريس قارة آسيا



السف	السهول	سهول ساحلية:	<ul style="list-style-type: none"> • تمتد على طول سواحل البحار والمحيطات التي تحيط بقارة آسيا. • متفرقة داخل آسيا مثل سواحل بحر قزوين.
		شمالية	<ul style="list-style-type: none"> • سهول سيبيريا: يجرى بها أنهار (أوب - ينس - لينا) تنبع من الجنوب وتصب في المحيط القطبي الشمالي وتتجمد شتاءً (لذلك تفقد أهميتها شتاءً).
		شرقية	<ul style="list-style-type: none"> • سهول منشوريا. • سهل شرق الصين: يجرى بها العديد من الأنهار وأهمها نهر يانغتسي.
الهضاب	جنوب غرب آسيا	جنوب آسيا	<ul style="list-style-type: none"> • هضبة التبت أكبر هضاب آسيا وأعلى هضاب العالم. • بم تفسر: تعرف هضبة التبت بسقف العالم؟ • بم سبب: ارتفاعها عن قمم الجبال.
		جنوب غرب آسيا	<ul style="list-style-type: none"> • هضبة الدكن في وسط الهند. • هضبة شبه الجزيرة العربية.
		وسط آسيا	<ul style="list-style-type: none"> • تكون متشابهة
الجبال	غرب آسيا	وسط آسيا	<ul style="list-style-type: none"> • جبال طوروس: في تركيا. • جبال زاغروس: في إيران والعراق.
		شرق آسيا:	<ul style="list-style-type: none"> • جبال اليابان.
		غرب آسيا:	<ul style="list-style-type: none"> • جبال الهيمالايا (أعلى جبال العالم): بها أعلى قمة جبلية في العالم (أفرست) ٨٨٤٨ م.

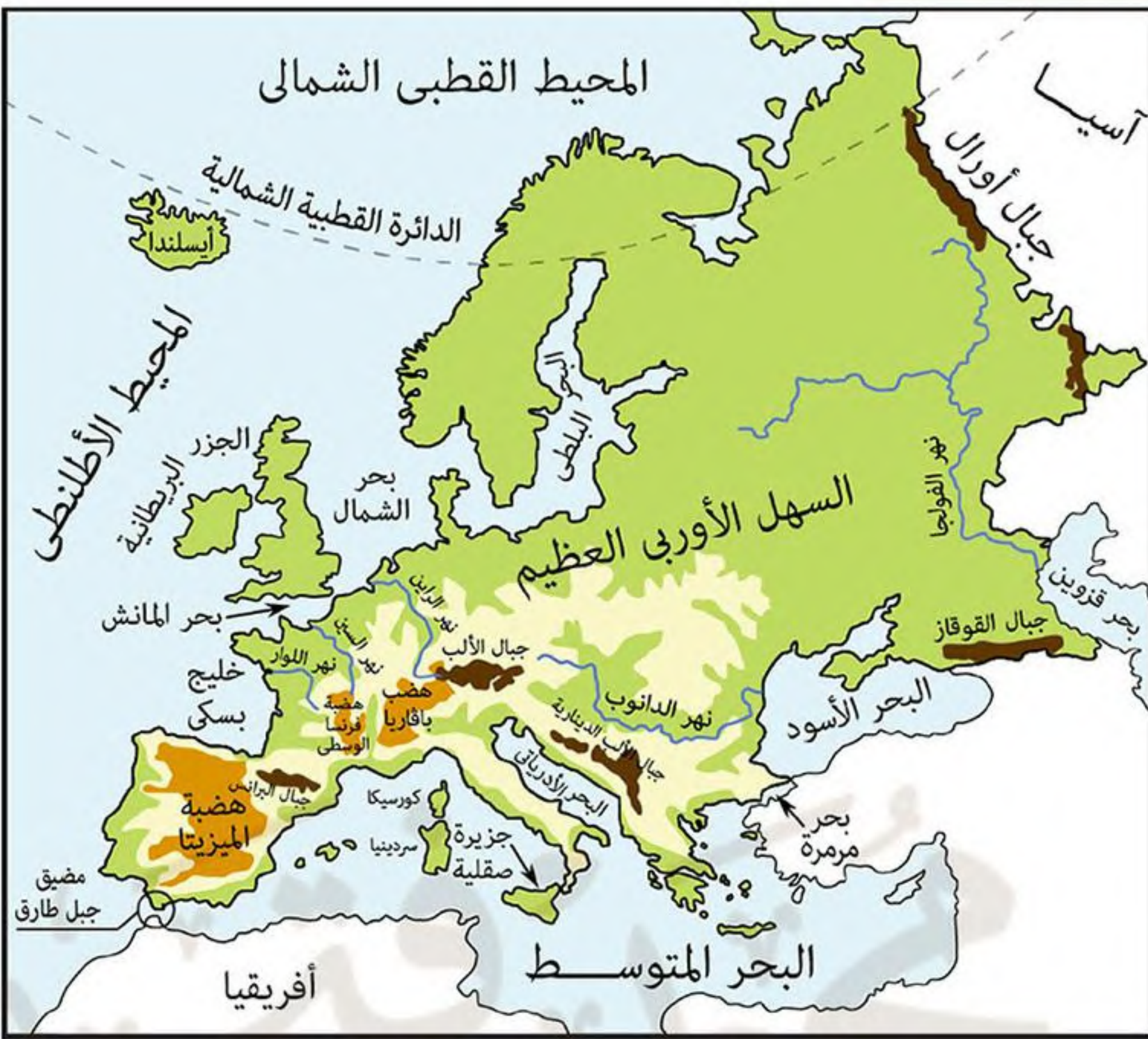
٢ تضاريس قارة أفريقيا



الجبال	أقصى شمال غرب أفريقيا	• جبال أطلس: وهي سلاسل تحصر بينها (هضبة الشطوط).
	شمال شرق أفريقيا	• جبال البحر الأحمر: تمتد في مصر والسودان وأريتريا.
	شرق أفريقيا	• جبل كينيا. • جبل كلمنجارو.
	أقصى جنوب شرق أفريقيا	• جبال دراكنزبرج.
الهضاب	يسود المظهر الهضبي سطح قارة أفريقيا حيث: تشغل الهضاب مساحات واسعة منها.	
	شمال أفريقيا	• هضبة الصحراء الكبرى: يوجد بها هضبة الصحراء الشرقية والغربية بمصر.
	جنوب أفريقيا	• هضبة جنوب أفريقيا: يجري بها نهري (أورانج - لمبوبو).
	وسط أفريقيا	• هضبة البحيرات الاستوائية. ينبع منهما
	شرق أفريقيا	• هضبة الحبشة (إثيوبيا). روافد نهر النيل.
السهول	ساحلية سهول	• تمتد على طول سواحل البحار (الأحمر والمتوسط) والمحيطات (الهندي والأطلسي) التي تحيط بأفريقيا. * تتميز بالضيق لاقترب الجبال والهضاب من الساحل وتتسع عند مصبات الأنهار.
	سهول فيضية	* تتميز بجودة التربة وصلاحياتها للزراعة مثل: • سهول نهر النيل: في مصر وجمهورية السودان وجمهورية جنوب السودان ويصب في البحر المتوسط. • سهول حوض نهر النيجر: يصب في خليج غينيا. • سهول حوض نهر الكونغو: يصب في المحيط الأطلسي.
	صحراوية سهول	* توجد في الصحراء الكبرى وتضم سهول رملية متسعة ومنها: • سهل كلنشو: في ليبيا ويمتد في مصر ويعرف بـ (بحر الرمال العظيم). • سهول صحراء كلهارى: جنوب قارة أفريقيا.

حوض النهر

هي الأرض التي يجري فيها النهر وروافده أو تتحد مياهه إليه.



الجبال	<p>★ تتميز جبال أوروبا بارتفاعها ويغطي قممها الجليد شتاءً ويفصل بينها أودية تجرى بها الأنهار مثل نهر الراين - نهر الدانوب.</p> <p>● سلاسل جبال الألب: تمتد في وسط أوروبا من الغرب إلى الشرق وتختلف مسمياتها من دولة لأخرى حيث تعرف بالآتي: جبال البرانس: في شمال إسبانيا. جبال الألب الدينازية: في شبه جزيرة البلقان.</p>
	<p>★ تمتد في وسط أوروبا من الشرق إلى الغرب وتقطعها أودية نهريّة وتجاورها الجبال.</p> <p>● هضبة الميزيتا: تشغل معظم مساحة دولة إسبانيا.</p> <p>● هضبة فرنسا الوسطى: تقطعها أنهار مثل: السين - اللوار.</p>
الهضاب	<p>★ تتميز باتساعها وتعرّجها مما ساعد على إنشاء الموانئ بها.</p> <p>● تمتد على: المحيط الأطلسي والبحر البلطي وبحر الشمال في الغرب والشمال الغربي. البحر المتوسط في الجنوب.</p>
	<p>● السهل الأوروبي العظيم:</p> <p>● يمتد من: المحيط الأطلسي غرباً حتى جبال الأورال شرقاً.</p> <p>● توجد به مدن رئيسية مثل: باريس - برلين.</p> <p>● يتكون معظمه من: رواسب طينية وهي تربة خصبة صالحة للزراعة كونتها الأنهار.</p> <p>● وأهم هذه الأنهار:</p> <p>■ نهر الفولجا: هو أطول أنهار أوروبا ويصب في بحر قزوين.</p> <p>■ نهر الراين: يصب في بحر الشمال.</p> <p>■ نهر الدانوب: يصب في البحر الأسود.</p>
السهول	<p>● سهول ساحلية</p> <p>● سهول فيضية</p>

اختبار

أكمل:

- (١) تقع هضبة..... غرب قارة آسيا.
- (٢) من السهول الفيضية شمال قارة آسيا
- (٣) توجد السهول الساحلية داخل قارة آسيا حول بحر
- (٤) تجري أنهار و..... في سهول سيبيريا.
- (٥) يصب نهر السند في بينما يصب نهرى دجلة والفرات في
- (٦) أكبر الدول الجزرية في قارة أمريكا الشمالية هي
- (٧) أكبر جزر قارة أفريقيا جزيرة
- (٨) تقع جبال في تركيا.
- (٩) تفقد سهول سيبيريا أهميتها في فصل
- (١٠) توجد السهول الساحلية داخل قارة آسيا حول بحر
- (١١) يجري نهر في سهول شرق الصين.
- (١٢) أعلى جبال العالم وآسيا هو بينما أعلى هضاب العالم وتعرف ب
- (١٣) تمتد جبال في مصر والسودان وإريتريا.
- (١٤) من الجبال التي تقع جنوب قارة أفريقيا جبل
- (١٥) تنبع روافد نهر النيل من هضبتى و
- (١٦) يمتد سهل في ليبيا ويعرف في مصر ب
- (١٧) تسمى جبال الألب في دولة إسبانيا ب وتسمى في شبه جزيرة البلقان ب

أكتب ما تشير إليه الأرقام الآتية:



- (١) هضبة
- (٢) هضبة
- (٣) مدار
- (٤) خليج
- (٥) نهر
- (٦) جبال
- (٧) سهول
- (٨) هضبة

أذكر مصبات الأنهار الآتية:

- | | | |
|-----------------|------------------------|------------------|
| (١) نهر النيل: | (٢) نهر الراين: | (٣) نهر يانغتسى: |
| (٤) نهر السند: | (٥) نهر الدانوب: | (٦) نهر الكونغو: |
| (٧) نهر الراين: | (٨) نهرى دجلة والفرات: | (٩) نهر الفولجا: |

بم تفسر:

- (١) تعرف هضبة التبت بسقف العالم ؟
- (٢) تفقد سهول سيبيريا أهميتها الاقتصادية شتاء ؟



٤ تضاريس قارة أمريكا الشمالية



الجبال	شرق أمريكا الشمالية	• سلاسل جبال الأبالاش.
	غرب أمريكا الشمالية	• جبال روكي: أعلى جبال أمريكا الشمالية ويغطي قممها الجليد شتاءً.
الهضاب	فئة الجنوب	• هضبة المكسيك.
	فئة الشمال شرقية	• هضبة لبرادور.
سهول	سهول ساحلية	<p>* تمتد على:</p> <ul style="list-style-type: none"> • ساحل المحيط الأطلسي في الشرق. • ساحل خليج المكسيك في الجنوب الشرقي. • ساحل خليج هدسن في الشمال الشرقي. • ساحل المحيط الهادئ في الغرب وهي سهول ضيقة.
	سهول فيضية	<p>* السهول الوسطية: تتعدد خصائصها حيث:</p> <ul style="list-style-type: none"> • تمتد من: المحيط القطبي الشمالي شمالاً إلى خليج المكسيك جنوباً. • تتسع في الوسط إلى الشرق من جبال روكي. • يغطي الجليد أطرافها الشمالية. • يوجد بها البحيرات العظمى في كندا والولايات المتحدة الأمريكية. <p>أهمها:</p> <ul style="list-style-type: none"> ■ سهول نهر نلسن: يصب في خليج هدسن. { في شمال شرق أمريكا الشمالية ■ سهول نهر سانت لورانس: يصب في خليج سانت لورانس. ■ سهول نهر المسيسيبي: تمتد في الجنوب وبه أراضي زراعية ويصب في خليج المكسيك.

٥ تضاريس قارة أمريكا الجنوبية



الجبال		• جبال الأنديز: - هي سلاسل جبلية مرتفعة تقع في الغرب قرب سواحل المحيط الهادى. - تمتد من الشمال حتى الأطراف الجنوبية للقارة.
الهضاب		• تكثر الهضاب شرق جبال الأنديز.
السهول	سهول ساحلية	• هضبة البرازيل: - هي أكبر هضاب أمريكا الجنوبية وأكثرها ارتفاعاً. • هضبة جيانا.
	سهول فيضية	• هضبة باتاجونيا: تعد أصغر هضاب أمريكا الجنوبية مساحة.
	سهول	• تمتد علوه: • ساحل المحيط الهادى في الغرب وتتميز بالضيق بسبب: اقتراب جبال الأنديز من ساحل المحيط الهادى. • ساحل المحيط الأطلسي في شرق وشمال أمريكا الجنوبية وهي سهول متسعة.
السهول	سهول ساحلية	• تتمثل فوه: • سهول نهر الأورينوكو: في الشمال ويصب في البحر الكاريبي بالمحيط الأطلسي. • سهول حوض نهر الأمازون: - أوسع سهول فيضية في العالم. - يجري فيها نهر الأمازون بروافده ويصب في المحيط الأطلسي.
	سهول فيضية	• سهول لابلاتا: - تمتد من الشمال إلى الجنوب في دولتي (أورجواى - الأرجنتين). - تجري بها أنهار (بارانا - باراجواى - لابلاتا) وتصب في المحيط الأطلسي.
	سهول	



تطبيق مذكرات جاهزة للطباعة

احصل عليه من

App Store Google Play

حمل التطبيق على موبيلك الأندرويد أو الأيفون

موقع مذكرات جاهزة للطباعة - www.cryp2day.com



٦ تضاريس قارة أستراليا (الأوقيانوسية)



الجبال	● جبال الحاجز الكبير (الألب الأسترالية): <ul style="list-style-type: none">- تمتد على طول الساحل الشرقى لقارة أستراليا فى شكل قوس وتنقسم لمجموعتين (الجنوب) و (الشمال الشرقى).- تتميز بارتفاعها وتقطعها بعض الأنهار.	
	★ تشبه تضاريس قارة أستراليا تضاريس قارة أفريقيا حيث يسودها المظهر الهضبي.	
الهضاب	● الهضبة الغربية: - تشغل نصف مساحة أستراليا. - يتميز معظم سطحها بالاستواء.	
	السهول	● تتسع فى الشمال والجنوب والغرب.
		● تضيق فى الشرق بسبب: اقتراب جبال الحاجز الكبير من ساحل المحيط الهادى.
		● هى سهول متسعة يجرى فيها نهري (مرى - دارلنج) ويصبان فى الخليج الأسترالى الكبير.
السهول	فيضية	● هى سهول زراعية يوجد بها الكثير من المدن المهمة.
		● توجد داخل وغرب أستراليا.
	صحراوية	● عبارة عن صحارى رملية تقل بها موارد المياه.

الاختبار الأول

أكمل:

- (١) تقع جبال غرب قارة آسيا.
- (٢) توجد هضبة الصحراء الكبرى بقارة
- (٣) تعرضت الدولة المملوكية لأزمة اقتصادية بسبب اكتشاف البرتغاليين عام ١٤٩٨م.
- (٤) من أهم الجبال فى قارة أوروبا سلاسل جبال
- (٥) شهد العالم الإسلامى أوائل القرن ١٦م صراعاً بين الدولة والدولة والدولة الصفوية.



- (٦) يحد قارة أفريقيا شمالاً وغرباً
 (٧) أكبر الدول الجزرية في البحر الكاريبي هي دولة

بم تفسر:

- (١) تسمى هضبة التبت بسقف العالم ؟
 (٢) تعرض دولة الممالك لأزمات سياسية ؟
 (٣) كساد التجارة الداخلية في مصر أثناء الحكم العثماني ؟
 (٤) الأهمية الاقتصادية للسهل الأوروبي العظيم ؟

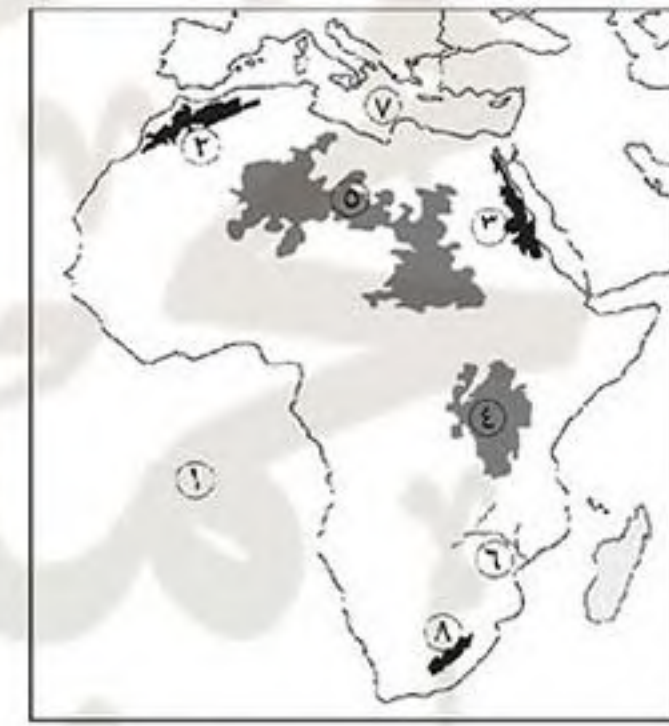
ضع علامة (✓) أو (×) مع التصويب:

- () (١) يعتبر سهل كلنشو من السهول الساحلية بقارة أفريقيا.
 () (٢) أعلى قمم العالم هو قمة جبل مونت بلان بأوروبا.
 () (٣) تشغل هضبة الميزيتا معظم مساحة دولة فرنسا.
 () (٤) أكبر أنهار أوروبا هو نهر الدانوب الذي يصب في البحر الأسود.
 () (٥) من أنهار قارة آسيا التي تتجمد شتاءً السند والجانب وتوجد في سهل منشوريا.

أكتب ما تشير إليه الأرقام الآتية:

(٢)

١. المحيط
 ٢. جبال
 ٣. الدائرة
 ٤. السهل
 ٥. نهر
 ٦. جبال
 ٧. بحر
 ٨. هضبة



(١)

١. المحيط
 ٢. جبال
 ٣. جبال
 ٤. هضبة
 ٥. هضبة
 ٦. نهر
 ٧. البحر
 ٨. جبال

اختر الإجابة الصحيحة:

- (١) تصب أنهار سيبيريا في المحيط
 (٢) تمتد سهول بحر الرمال العظيم غرب دولة
 (٣) توجد هضبة الميزيتا في دولة
 (٤) يوجد نهر في قارة أوروبا ويصب في البحر الأسود.
 (٥) تقع جبال في دولة إيران والعراق.
 (٦) تمتد جبال أقصى جنوب شرق أفريقيا.
 (الهادي - الهندي - الأطلنطي - القطبي الشمالي)
 (ليبيا - مصر - السودان - أريتريا)
 (فرنسا - إسبانيا - الهند - الصين)
 (السين - اللوار - الدانوب - الفولجا)
 (طوروس - اليابان - الهيمالايا - زاغروس)
 (البحر الأحمر - أطلس - دراكنزبرج - كينيا)

قارن بين:

- (١) الهضاب في قارة آسيا وقارة أفريقيا.
 (٢) السهول الفيضية لقارة أوروبا وقارة آسيا.

الاختبار الثاني

أكمل:

- (١) أعلى جبال أمريكا الشمالية هي وتقع في الغرب بينما تقع جبال في الشرق.
- (٢) كانت الدولة الصفوية عاصمتها ومركزها
- (٣) أعلى جبال أمريكا الجنوبية جبال وتقع ناحية
- (٤) يجري نهرى و في أستراليا ويصبان في
- (٥) يحد قارة أستراليا شرقاً وغرباً
- (٦) طبق العثمانيون في الزراعة نظام الذى يجعل الأرض الزراعية ملك للدولة العثمانية ويكلف بزراعتها.
- (٧) أوسع سهول فيضية في العالم هي سهول ويصب في

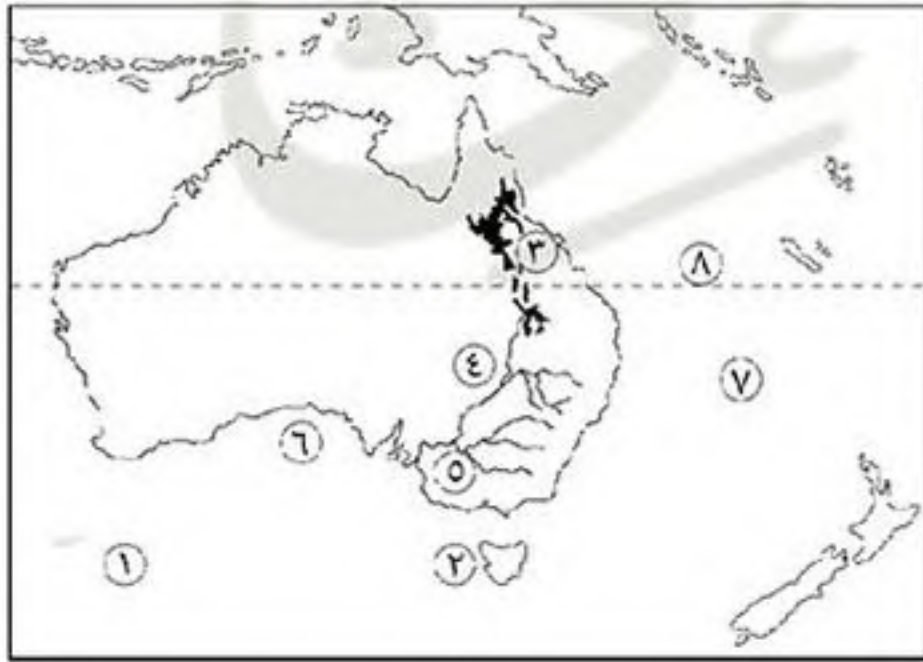
بم تفسر :

- (١) ضيق السهل الساحلى غرب أمريكا الجنوبية ؟
- (٢) حمل نظام الحكم العثمانى فى ثناياه عوامل ضعفه ؟
- (٣) اتسمت الحياة الفكرية فى مصر أثناء الحكم العثمانى بالجمود والتخلف ؟
- (٤) تتميز السهول الساحلية لقارة أفريقيا بشكل عام بالضيق ؟

أذكر مصبات الأنهار الآتية:

١. ينسى؟ ٢. دجلة؟ ٣. يانجتسى؟ ٤. السند؟
٥. نهر النيل؟ ٦. نهر الكونغو؟ ٧. نهر الراين؟ ٨. الفولجا؟
٩. نهر نلسن؟ ١٠. الميسيسيبى؟ ١١. الأورينوكو؟ ١٢. مرى؟

أكتب ما تشير إليه الأرقام الآتية:



(٢)

١. المحيط ٢. جزيرة ٣. جبال ٤. نهر ٥. نهر ٦. الخليج ٧. المحيط ٨. مدار



(١)

١. جبال ٢. المحيط ٣. مدار ٤. نهر ٥. هضبة ٦. هضبة ٧. خليج ٨. نهر

فى أى قارة تقع التضاريس الآتية:

١. جبال الهيمالايا؟ ٢. هضبة إثيوبيا؟ ٣. نهر أورانج؟ ٤. سهل كلنشو؟ ٥. جبل البرانس؟ ٦. نهر بارانا؟

دلى: تشبه تضاريس قارة أستراليا تضاريس قارة أفريقيا ؟



المناخ والنبات الطبيعي في العالم

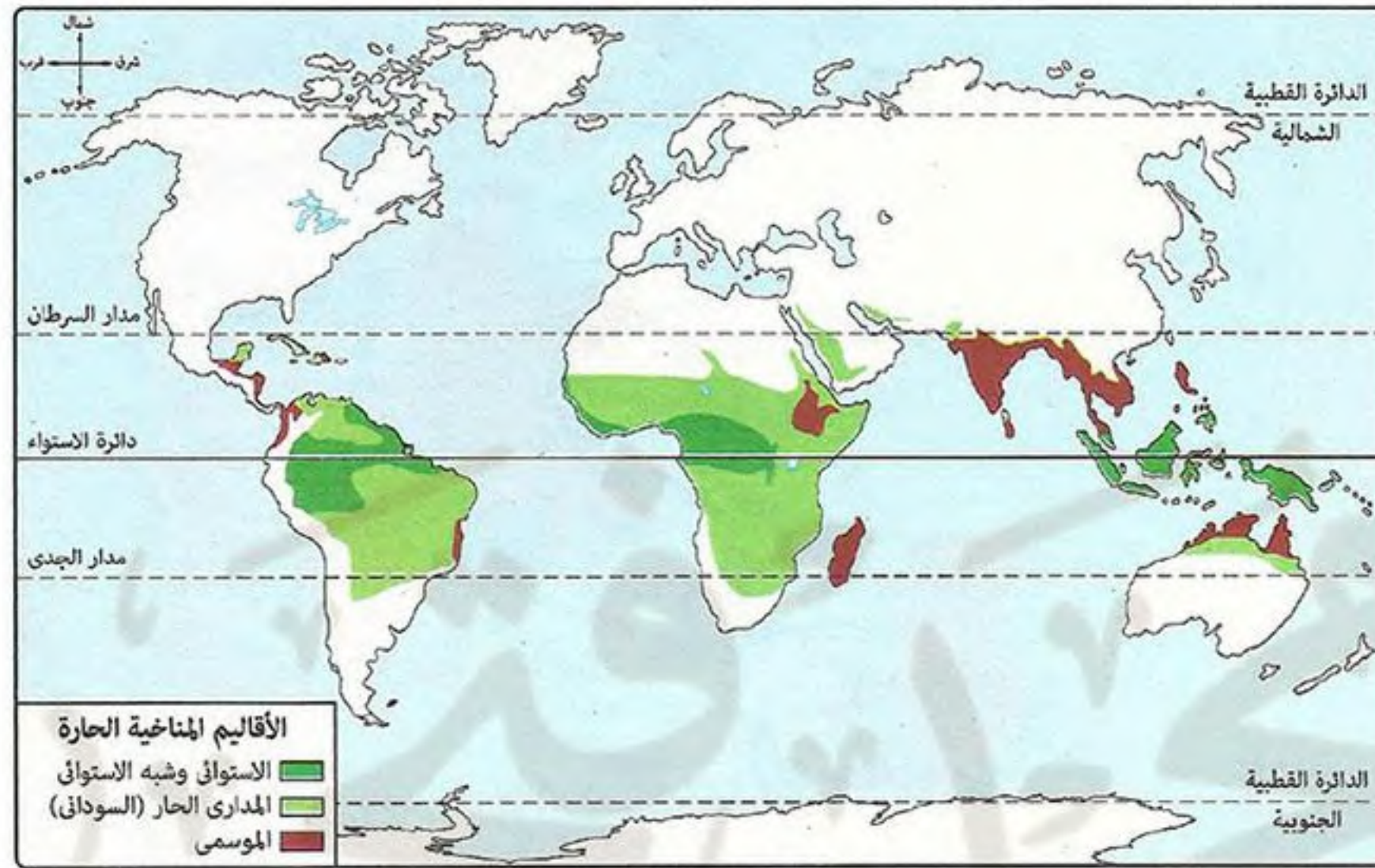
الأقاليم المناخية في العالم

إقليم مناخه

هو منطقة محددة على سطح الأرض لها خصائص مناخية معينة من حيث (حرارة - رياح - أمطار) وغيرها.

* يختلف المناخ داخل القارة الواحدة ومن منطقة لأخرى وفقاً لعدة عوامل هي:
الموقع الفلكي - الموقع الجغرافي - التضاريس.

١ الأقاليم المناخية الحارة (تمتد بين دائرتي عرض ٣٠° شمالاً : ٣٠° جنوباً)

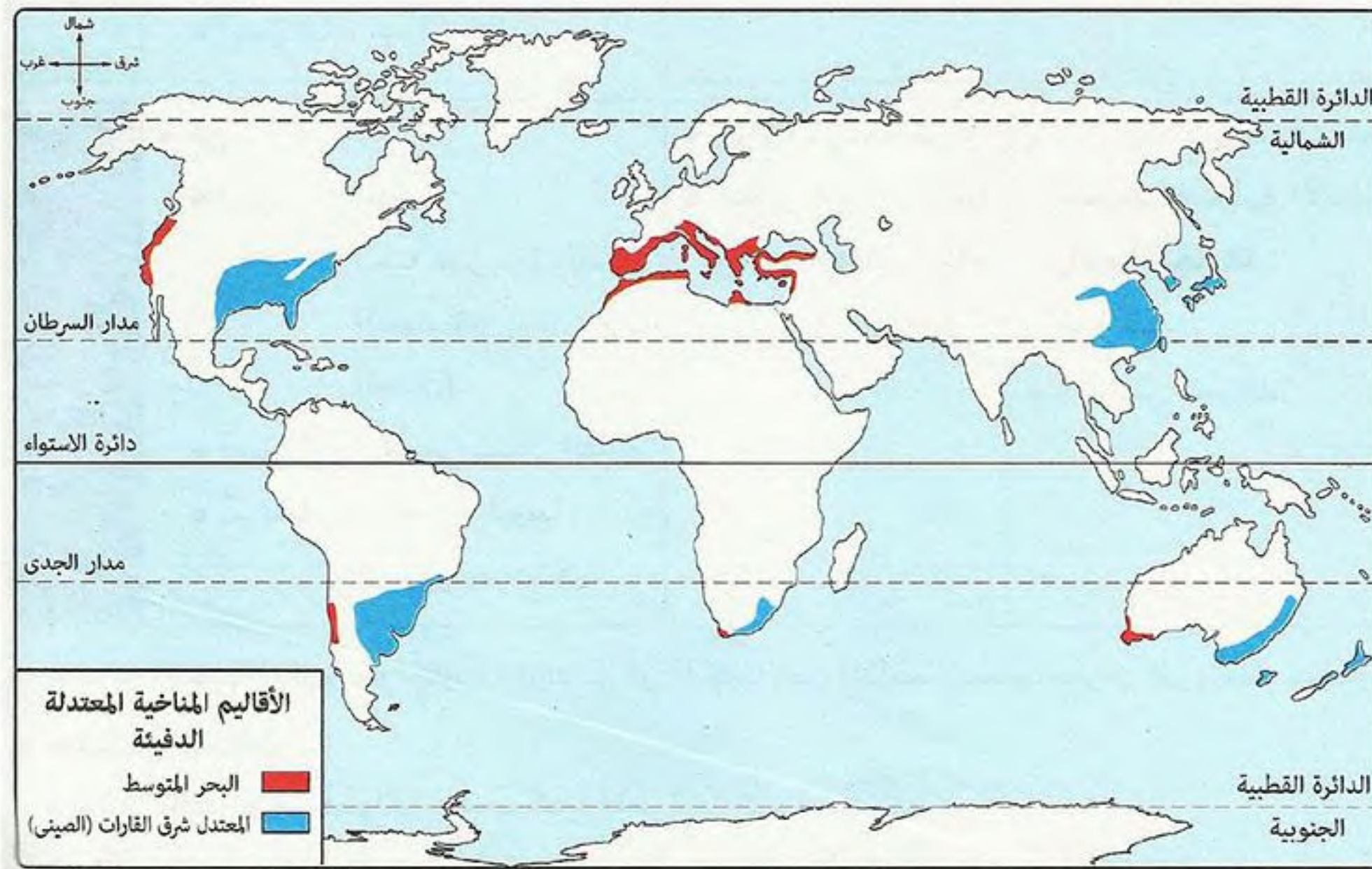


الموقع	الخصائص المناخية	النبات الطبيعي والحيوان البري
شمال وجنوب دائرة الاستواء من (صفر° : ١٠°) شمالاً وجنوباً في: • آسيا: جزر إندونيسيا. • أفريقيا: حوض الكونغو. • أمريكا الجنوبية: حوض الأمازون.	• حرارة مرتفعة طوال العام. • سقوط أمطار طوال العام.	• غابات استوائية: أشجارها كثيفة ومتشابكة أهمها أشجار المطاط - الماهوجني. • يعيش بها: طيور - زواحف - حيوانات متسلقة.
من دائرة عرض (١٠° : ١٨°) شمالاً وجنوباً في: • أستراليا: في الشمال. • آسيا: الجنوب الغربي. • أفريقيا: شمال وجنوب الإقليم الاستوائي. • أمريكا الجنوبية: شمال وجنوب الإقليم الاستوائي. • أمريكا الشمالية: بعض الأجزاء في الجنوب.	• حرارة مرتفعة صيفاً. • تسقط الأمطار صيفاً. • يسود الجفاف شتاءً.	• أشجار أقل كثافة وتشابك من أشجار الغابات الاستوائية. • حشائش السافانا: - تتدرج أطوالها حسب كمية الأمطار. - تعتبر حديقة حيوان طبيعية حيث: يعيش بها حيوانات آكلة عشب وحيوانات آكلة لحوم.
أستراليا: في أقصى الشمال. • آسيا: الهند وشبه جزيرة الهند الصينية (جنوب الصين). • أفريقيا: هضبة إثيوبيا - جزيرة مدغشقر.	• حرارة مرتفعة صيفاً. • تسقط أمطار غزيرة صيفاً. • يسود الجفاف شتاءً.	• غابات موسمية: تنمو بسبب غزارة الأمطار مثل جوز الهند. • حشائش السافانا.

يتشابه الإقليم المداري والإقليم الموسمي في الخصائص المناخية:
(حرارة مرتفعة صيفاً - أمطار صيفاً - جفاف شتاءً).

لاحظ !

٢ الأقاليم المعتدلة الدفيئة (تمتد بين دائرتي عرض ٣٠° : ٤٥° شمالاً وجنوباً)



إقليم المعتدل شرق القارات (الصين)	إقليم البحر المتوسط
<p>في العروض المعتدلة (من ٣٠° : ٤٥°) شمالاً وجنوباً</p> <p>شرق القارات في:</p> <ul style="list-style-type: none"> • آسيا: شرق الصين. • أستراليا • أفريقيا • أمريكا شمالية • أمريكا جنوبية <p>في الجنوب الشرقي</p>	<p>في العروض المعتدلة (من ٣٠° : ٤٥°) شمالاً وجنوباً</p> <p>غرب معظم القارات في:</p> <ul style="list-style-type: none"> • أستراليا: في الجنوب الغربي. • آسيا: سواحل الشام وتركيا. • أفريقيا: سواحل دول المغرب العربي. • أوروبا: السواحل المطلة على البحر المتوسط. • أمريكا شمالية: في الغرب بولاية كاليفورنيا. • أمريكا جنوبية: الساحل الأوسط في شيلي.
<p>الحرارة مرتفعة صيفاً ومنخفضة شتاءً.</p> <p>الأمطار طوال العام وتزداد صيفاً.</p> <p>يتعرض أحياناً لعواصف مدارية مثل (عواصف التيفون).</p>	<p>• حار صيفاً ودافئ شتاءً.</p> <p>• تسقط الأمطار شتاءً ويسود الجفاف صيفاً.</p>
<p>• غابات الإقليم الصيني: أشجارها دائمة الخضرة مثل: (الصفصاف - البلوط).</p> <p>• حشائش الامتبس: تنمو قرب غابات الإقليم الصيني.</p>	<p>• غابات البحر المتوسط: دائمة الخضرة وأهم أشجارها (الزيتون).</p> <p>• حشائش الامتبس: - تنمو قرب غابات البحر المتوسط وتستغل كمراعى طبيعية.</p> <p>- تسمى في أمريكا الشمالية (حشائش البراري).</p>

أسئلة

أكمل:

- ١) تسقط الأمطار في الإقليم الصيني بينما تسقط الأمطار في إقليم البحر المتوسط
- ٢) تنمو أشجار و ضمن غابات الإقليم الصيني.
- ٣) تنمو حشائش بالقرب من غابات البحر المتوسط وتسمى في أمريكا الشمالية بحشائش
- ٤) تنتمي سواحل تركيا والشام ضمن إقليم مناخ

- (٥) تقع جزيرة مدغشقر ضمن إقليم مناخ
- (٦) يوجد الإقليم الاستوائي في قارة أمريكا الجنوبية في
- (٧) يقع حوض الكونغو في قارة أفريقيا ضمن إقليم مناخ
- (٨) أهم أشجار الغابات الاستوائية و
- (٩) تنمو أشجار جوز الهند ضمن إقليم المناخ
- (١٠) تنمو حشائش في إقليم المناخ المداري الحار والموسمي.
- (١١) يتشابه إقليم مناخ مع الإقليم في الصيف الممطر والجفاف شتاءً.
- (١٢) تقع سواحل المغرب العربي ضمن إقليم مناخ
- (١٣) تنمو أشجار الزيتون ضمن إقليم المناخ
- (١٤) من أهم أشجار غابات الإقليم الصيني و

بم تفسر:

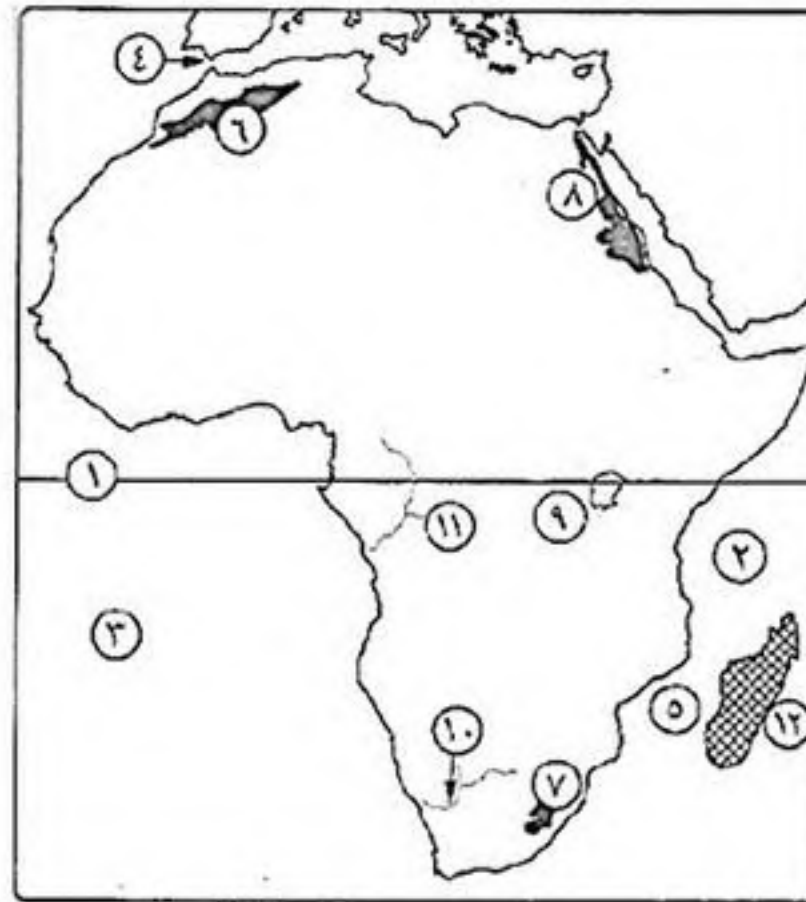
- (١) تعتبر حشائش السافانا حديقة حيوان طبيعية ؟
- (٢) تتدرج حشائش السافانا في الطول كلما اتجهنا شمالاً أو جنوباً ؟
- (٣) الأهمية الاقتصادية لحشائش الاستبس ؟
- (٤) ارتفاع الحرارة وسقوط الأمطار طوال العام في حوض الكونغو ؟

ضع علامة (✓) أو (×) مع التصويب:

- () (١) تسقط الأمطار في إقليم مناخ البحر المتوسط شتاءً ويسود الجفاف صيفاً.
- () (٢) يتعرض أحياناً إقليم المناخ المداري لعواصف مدارية مثل التيفون.
- () (٣) تسقط الأمطار طوال العام على جزر إندونيسيا.
- () (٤) تنمو الغابات الاستوائية الكثيفة في حوض الأمازون.
- () (٥) تسقط الأمطار طوال العام وتزداد صيفاً في شرق الصين.

أكتب ما تشير إليه الأرقام الآتية:

- (١١) نهر
- (١٢) إقليم مناخي



- (١) دائرة
- (٢) المحيط
- (٣) المحيط
- (٤) مضيق
- (٥) مضيق
- (٦) جبال
- (٧) جبال
- (٨) جبال
- (٩) هضبة
- (١٠) نهر

وضح: أوجه الشبه والاختلاف بين إقليم مناخ البحر المتوسط وإقليم مناخ المعتدل شرق القارات ؟

اختبار

أختر الإجابة الصحيحة:

- (١) تفصل جبال بين آسيا وأوروبا.
- (٢) توجد هضبة البرازيل بقارة
- (٣) أعلى جبال قارة أمريكا الشمالية جبال
- (٤) تمتد جبال في شبه جزيرة البلقان.
- (٥) تتبع جزر إندونيسيا قارة
- (٦) يسود هضبة إثيوبيا إقليم مناخ
- (٧) قام بقتل القائد الفرنسي كليبر.
- (٨) وجهت الحملة الفرنسية أنظار الدول الأوروبية إلى أهمية
- (٩) تكونت طبقة الحكام في مصر أثناء الحكم العثماني من الأتراك و.....
- (الهمالايا - زاجروس - اليابان - أورال)
- (أمريكا الشمالية - آسيا - أستراليا - أمريكا الجنوبية)
- (الأبلش - الألب - الهمالايا - روكي)
- (البرانس - دراكنزبرج - الألب الدينارية - الهمالايا)
- (أستراليا - أفريقيا - آسيا - أوروبا)
- (الاستوائي - المداري الحار - الموسمي - الصحراوي)
- (محمد كريم - عمر مكرم - محمد أبو الذهب - سليمان الحلبي)
- (آثار مصر - وادي النيل - موقع مصر الاستراتيجي)
- (الفلاحين - علماء الأزهر - المماليك - الحرفيين)

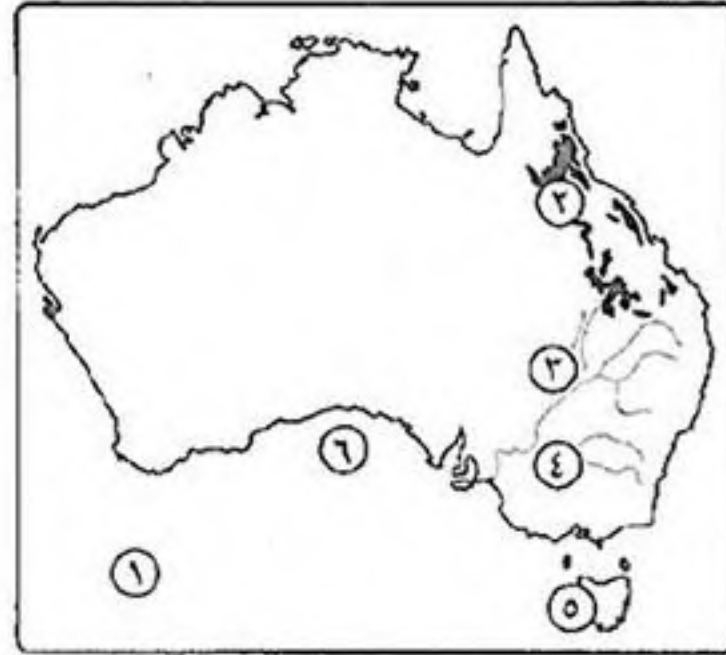
بم تفسر:

- (١) هزيمة المماليك أمام الفرنسيين ؟
- (٢) اصطحب نابليون معه في الحملة على مصر مطبعتين ؟
- (٣) قارة أنتاركتيكا متجمدة طول العام ؟
- (٤) سقوط الأمطار طوال العام على جزر إندونيسيا ؟

ضع علامة (✓) أو (×) مع التصويب:

- () (١) يحد قارة أستراليا من الجنوب والشرق المحيط الهندي.
- () (٢) من أهم أشجار إقليم البحر المتوسط الزيتون والصفصاف.
- () (٣) أكبر هضاب أمريكا الجنوبية هي هضبة البرازيل.
- () (٤) كان مركز ثورة القاهرة الأولى هو الجامع الأزهر.
- () (٥) يصب نهر السند في الخليج العربي.

أكتب ما تشير إليه الأرقام الآتية:



١. المحيط
٢. جبال
٣. نهر
٤. نهر
٥. جزيرة
٦. الخليج

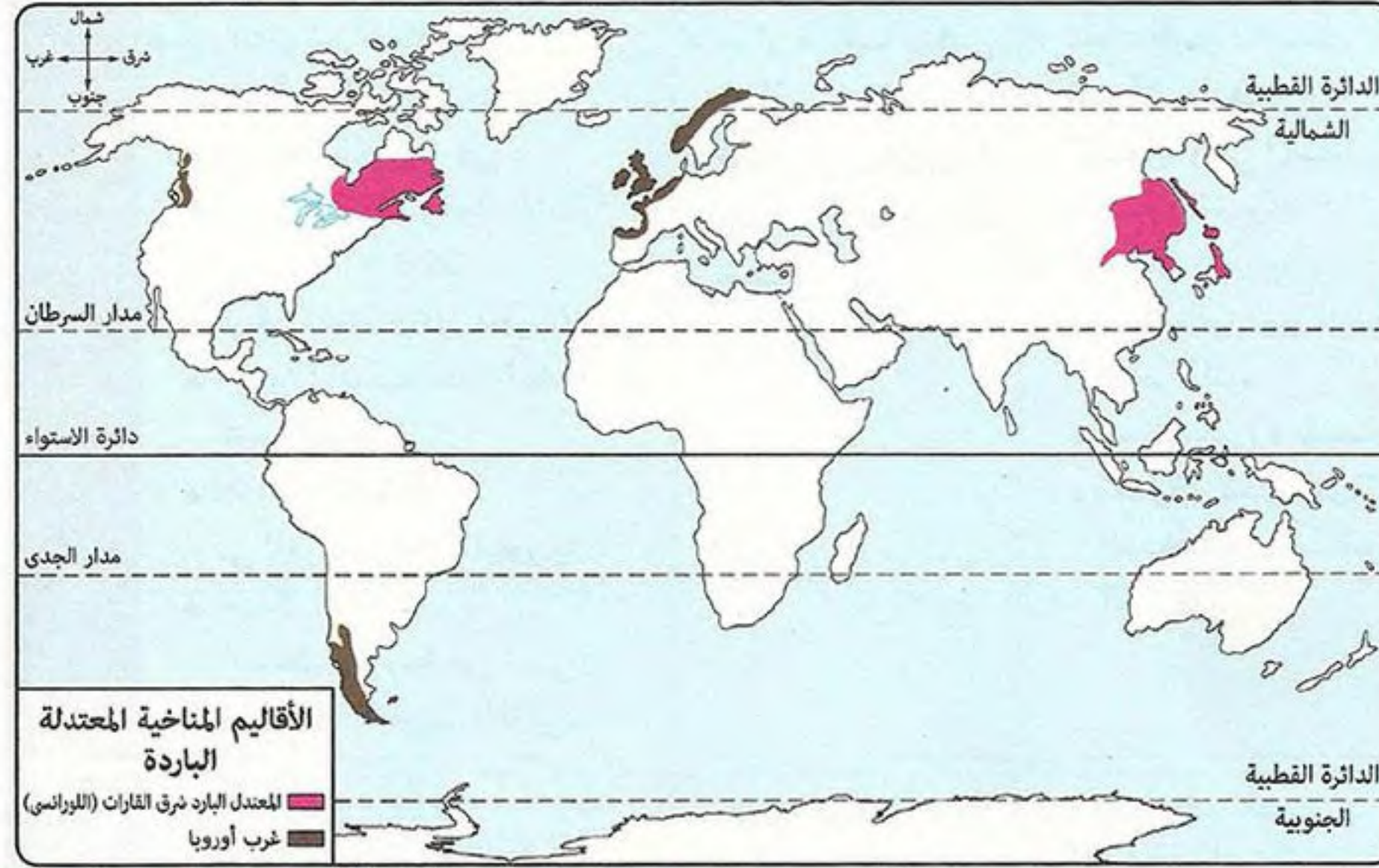
ما النتائج المترتبة على:

- (١) ارتفاع الحرارة وسقوط الأمطار طوال العام في جزر إندونيسيا ؟
- (٢) معركة الريدانية ١٥١٧م ؟

دل تاريخياً على صحة العبارات الآتية:

- (١) عانى الفلاح المصري أثناء الحكم العثماني من عدة مشكلات ؟
- (٢) تولى كليبر قيادة الحملة الفرنسية والأخطار تهددها من كل جانب ؟

٣ الأقاليم المعتدلة الباردة (تمتد بين دائرتي عرض ٤٥° : ٦٠° شمالاً وجنوباً)



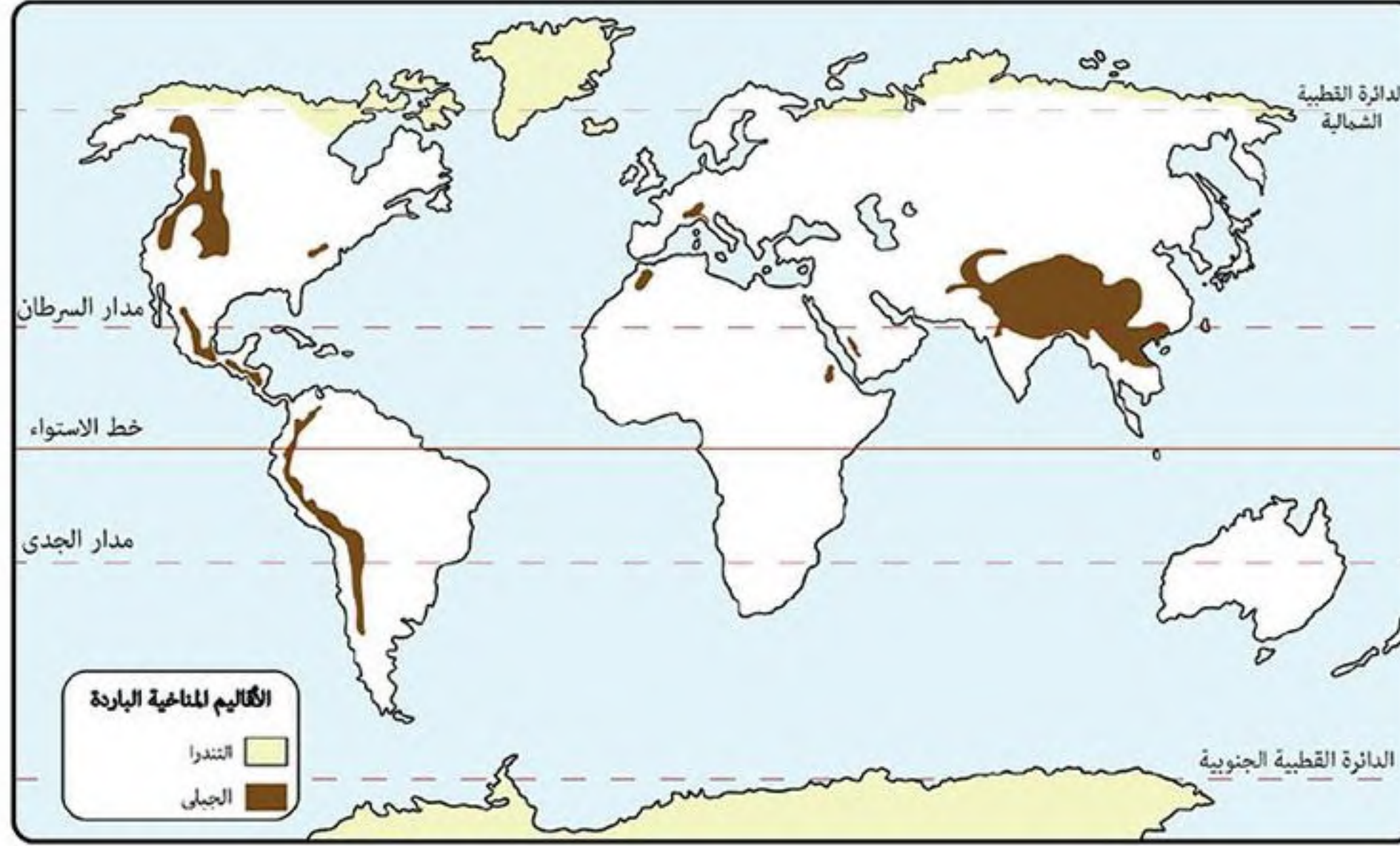
الإقليم المعتدل البارد (شرق القارات اللورنسي)	إقليم غرب أوروبا
الموقع من دائرة عرض (٤٥° : ٦٠°) شمالاً شرق القارات في: • آسيا: شمال شرق الصين وشمال اليابان. • أمريكا الشمالية: الشمال الشرقي.	دائرة عرض (٤٥° : ٦٠°) شمالاً وجنوباً غرب القارات في: • أوروبا: في الشمال الغربي. • أمريكا الشمالية: في الشمال الغربي. • أمريكا الجنوبية: في أقصى الجنوب الغربي.
المناخية الخصائص • معتدل صيفاً وبارد شتاءً. • تسقط الأمطار طوال العام وتزداد صيفاً.	• دافئ صيفاً بارد شتاءً. • تسقط الأمطار طوال العام وتزداد في الشتاء والخريف.
النبات الطبيعي • الغابات المخروطية: أهم أشجارها (الصنوبر - الشربين). • توجد به حيوانات ذات فراء كثيف مثل: الدب القطبي.	• الغابات النفضية: أهم أشجارها الزان. • سميت بذلك لأن أشجارها تنفض أوراقها شتاءً لشدة البرودة.

تدريب سريع

أكمل:

- أهم أشجار الغابات المخروطية
- تنمو أشجار و ضمن الغابات الصنوبرية.
- تسقط الأمطار في الإقليم اللورنسي وتزداد في فصل
- سميت الغابات النفضية بهذا الاسم لأنها أوراقها في فصل بسبب شدة البرودة.
- تعيش الحيوانات ذات الفراء الكثيف في الإقليم المناخي مثل حيوان
- يوجد إقليم شمال شرق الصين وشمال اليابان.
- يوجد الإقليم المعتدل البارد في قارة أوروبا في
- يوجد الإقليم المعتدل البارد في أمريكا الجنوبية في

٤ الأقاليم الباردة



الإقليم الجبلية	إقليم التندرا	
يشغل القمم والمنحدرات العليا للمناطق الجبلية في قارات العالم.	وراء دائرة عرض ٦٠° شمالاً وجنوباً في المناطق القطبية المتجمدة في: • آسيا: في الأجزاء القطبية وشمال سيبيريا. • أوروبا: في الشمال. • أمريكا الشمالية: شمال كندا. • أمريكا الجنوبية: بعض جزر المحيط المتجمد الجنوبي. • أنتاركتيكا: يسود كل القارة.	الخصائص المناخية
• شديد البرودة ويغطي الجليد قمم الجبال طوال العام مثل جبال الهيمالايا في قارة آسيا.	• صيف قصير وشتاء طويل شديد البرودة. • أمطار قليلة صيفاً وتسقط الثلوج شتاءً.	النبات الطبيعي
• تنوع الحياة النباتية طبقاً لارتفاع السطح وكمية الأمطار.	• طحالب: تنمو سريعاً في فصل ذوبان الجليد. • يعيش بها: حيوان الرنة.	

لاحظ! = قارة آسيا: هي أكثر القارات تنوعاً في المناخ.
لأنه يوجد بها جميع الأقاليم المناخية بسبب مساحتها الكبيرة وامتدادها في عدد كبير من دوائر العرض.



www.facebook.com/EL.Sulttan

انتظر مذاكرة المراجعة
على صفحتنا

أسئلة

أكمل:

- (١) تسقط الأمطار في الإقليم اللورنسي خاصة في فصل
- (٢) من أهم أشجار الغابات المخروطية و
- (٣) تسقط الأمطار طوال العام في إقليم غرب أوروبا وتزداد و
- (٤) من أهم أشجار الغابات النفضية
- (٥) تقع سهول سيبيريا ضمن إقليم مناخ
- (٦) يسود كل قارة إقليم مناخ التندرا.
- (٧) يسود جبال الهيمالايا الإقليم المناخي

بم تفسر:

- (١) تمتد جميع الأقاليم المناخية في قارة آسيا ؟
- (٢) تسمية الغابات النفضية بهذا الاسم ؟

ضع علامة (✓) أو (×) مع التصويب:

- (١) تعرف السافانا في أمريكا الجنوبية بحشائش البراري. ()
- (٢) تنمو أشجار الصنوبر في إقليم المعتدل الدافئ شرق القارات. ()
- (٣) تسقط أمطار قليلة في إقليم التندرا في الصيف القصير البارد. ()
- (٤) يقع إقليم غرب أوروبا في نفس العروض التي يقع فيها الإقليم المعتدل البارد شرق القارات. ()
- (٥) تنمو الطحالب في إقليم مناخ التندرا في فصل الصيف. ()

قارن بين:

إقليم غرب أوروبا	الإقليم المعتدل البارد (اللورنسي)	
		القارات التي يوجد بها
		الخصائص المناخية
		النبات الطبيعي والحيوان البري

أنسب الأشجار الآتية إلى الإقليم المناخي الذي توجد به:

- (١) الصفصاف:
- (٢) الصنوبر:
- (٣) المطاط:
- (٤) جوز الهند:
- (٥) الزيتون:
- (٦) الزان:
- (٧) الصنوبر:

ما النتائج المترتبة على:

- (١) وقوع شمال غرب أوروبا ضمن إقليم مناخ غرب أوروبا ؟
- (٢) وقوع قارة أنتاركتيكا أقصى جنوب الكرة الأرضية ؟

اختبار



أكتب ما تشير إليه الأرقام الآتية:

١. المحيط
 ٢. جبال
 ٣. هضبة
 ٤. هضبة
 ٥. نهر
 ٦. نهر
 ٧. نهر
 ٨. سهول

أكمل:

- (١) أوسع سهول نهرية في العالم هي وتوجد بقارة
 (٢) تقع هضبة في شمال قارة أمريكا الجنوبية.
 (٣) تنمو حشائش الاستبس ضمن إقليمى و.....
 (٤) أصبح هو الحاكم الفعلى لمصر عام ١٧٦٨ م.
 (٥) فر مراد بك بعد هزيمته في معركة إمبابة إلى
 (٦) قام علماء الحملة الفرنسية بتأليف كتاب
 (٧) سعت بريطانيا إلى تولية والياً على مصر بدلاً من

بم تفسر:

- (١) يتشابه إقليم المناخ المدارى والموسمى ؟
 (٢) لا يوجد إقليم المناخ الاستوائى في قارتى أوروبا وأستراليا ؟
 (٣) ثورة الشعب المصرى في مارس ١٨٠٤ م ؟

قارن بين:

دول المغرب العربى	شرق الصين	
		الإقليم المناخى
		موسم المطر
		نوع النبات الطبيعى

ضع علامة (✓) أو (×) مع التصويب:

- () (١) كانت تزرع الأرض في العصر العثمانى عن طريق تكليف الفلاحين بزراعتها فيما عرف بنظام الالتزام.
 () (٢) أغرق الأسطول الإنجليزى بقيادة نلسون الأسطول الفرنسى في معركة أبوقير البرية.
 () (٣) تمتد جبال زاغروس في غرب آسيا.
 () (٤) يعتبر البلوط من أهم أشجار الغابات الاستوائية.

ما النتائج المترتبة على:

- (١) اكتشاف طريق رأس الرجاء الصالح ١٤٩٨ م ؟
 (٢) انحياز محمد بك أبو الذهب للسلطان العثمانى ضد على بك الكبير ؟

دلى:

- (١) هناك تشابه بين الإقليم المناخى الموسمى والمدارى ؟
 (٢) تدهورت الصناعة في مصر أثناء الحكم العثمانى ؟

السلالات البشرية في العالم

نشأة السلالات البشرية:

سلالة بشرية

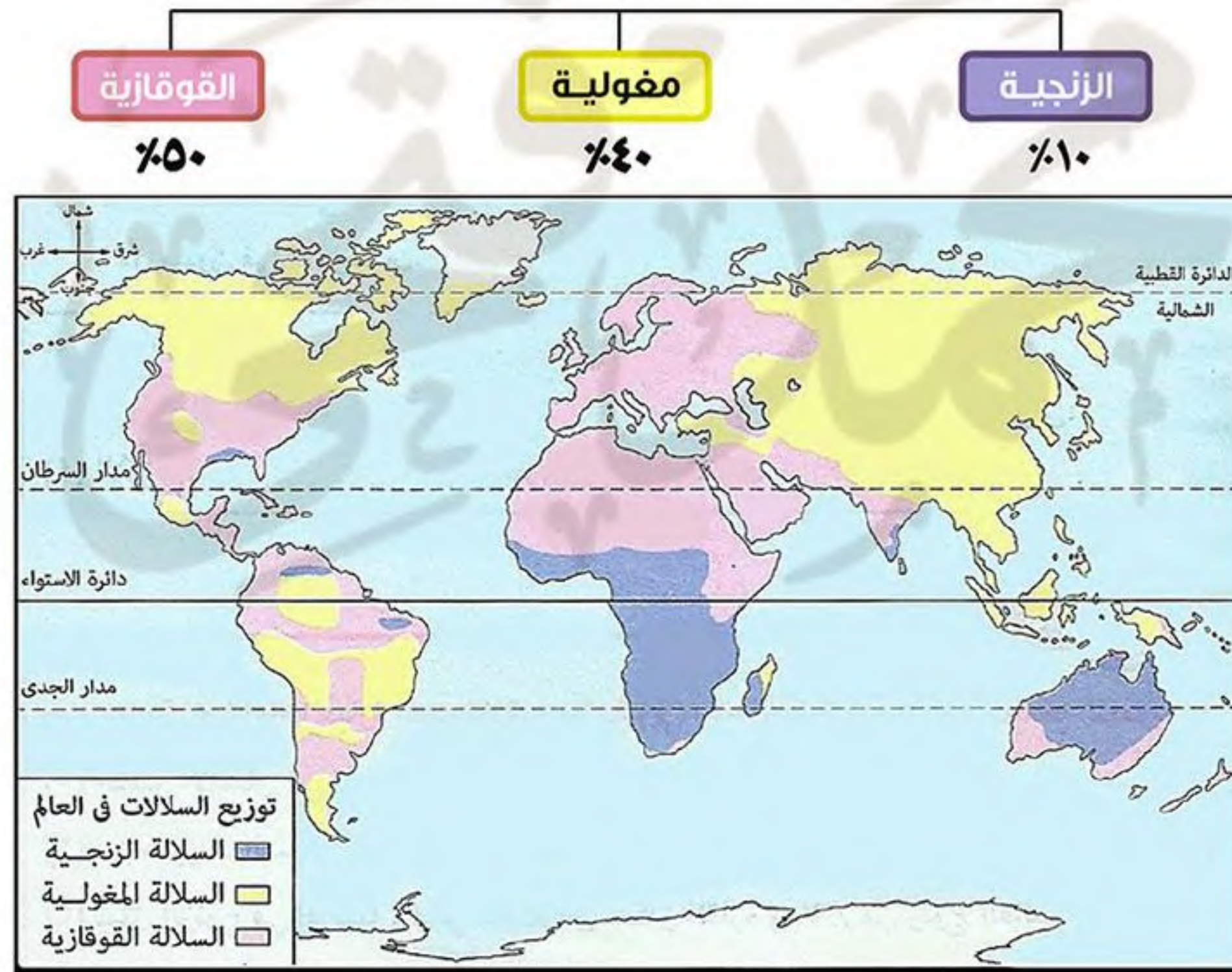
مجموعة بشرية تتشابه في صفاتها الجسمية الخارجية (الشكل الخارجي).

بم تفسر: نشأة السلالات البشرية في العالم؟

في أواخر عصر البليستوسين انتشر الإنسان في قارات العالم واستقر الإنسان في البيئات المختلفة وبدأ يتأثر بها ويؤثر فيها وظهرت اختلافات في المظهر الخارجي: ميزت كل مجموعة من البشر من حيث (طول القامة - لون البشرة - حجم الرأس - شكل العيون والأنف) ومن هنا نشأت السلالات البشرية.

أولاً السلالات الرئيسية في العالم

* تنقسم السلالات البشرية في العالم إلى ثلاث سلالات رئيسية وتختلف نسبة توزيعهم في العالم كالتالي:



السلالات البشرية:

لاحظ !

* أصلها واحد وتم تقسيمها على أسس ظاهرية حسب الشكل الخارجي وليست جوهريّة.
فلا توجد سلالة أكثر ذكاء من سلالة أخرى أو أكثر قدرة على العمل والأبداع من سلالة أخرى.

السلالة القوقازية (البيضاء)	السلالة المغولية (الصفراء)	السلالة الزنجية	
 <ul style="list-style-type: none"> الشعر: متموج. البشرة: بيضاء وردية. الشفاه: رفيعة. 	 <ul style="list-style-type: none"> الشعر: أسود مسترسل. البشرة: صفراء. العيون: منحرفة. 	 <ul style="list-style-type: none"> الشعر: أجعد. البشرة: داكنة. الأنف: عريض. الشفاه: غليظة. 	مميزاتها
تمثل ٥٠٪ من سكان العالم.	تمثل أكثر من ٤٠٪ من سكان العالم. لأن: سكان الصين ودول شرق وجنوب شرق آسيا ينتمون للسلالة المغولية وهي من أكثر دول العالم سكاناً.	تمثل ١٠٪ من سكان العالم.	نسبتها
<p>* تنتشر في كل قارات العالم:</p> <ul style="list-style-type: none"> أستراليا. آسيا. أفريقيا: يتركزون شمال الصحراء الكبرى في الدول العربية كما في: مصر وليبيا وتونس والجزائر والمغرب. أوروبا. أمريكا الشمالية. أمريكا الجنوبية. 	<ul style="list-style-type: none"> آسيا: في الصين واليابان وكوريا ومنغوليا وسيبيريا ودول جنوب شرق آسيا. بعض المناطق في الأمريكتين. 	<ul style="list-style-type: none"> أستراليا. آسيا: جنوب شرق الهند. أفريقيا: تتركز بالقرب من خط الاستواء ويمثلون: - ٧٠٪ من سكان أفريقيا. - ٧٥٪ من زنوج العالم. أوروبا: أصبحوا يمثلون نسبة كبيرة من سكان أوروبا وحصلوا على جنسية العديد من دول أوروبا. الأمريكتين: أتوا من أفريقيا حيث تعرضوا للهجرات الإجبارية ضمن تجارة الرقيق التي كانت في الماضي للعمل في مزارع القطن والتبغ وقصب السكر التي أنشأها الأوروبيون في الأمريكتين. 	توزعها / تتركز فيه
<p>(١) مجموعة سكان حوض البحر المتوسط: ينتمي لها العرب وعدد كبير من سكان جنوب أوروبا.</p> <p>(٢) المجموعة الآلية: هم سكان غرب ووسط أوروبا.</p> <p>(٣) المجموعة النوردية الشمالية: ينتمي لها معظم سكان دول شمال أوروبا.</p>	<p>(١) الإسكيمو: في شمال كندا وألاسكا.</p> <p>(٢) الهنود الحمر: يعيشون في الأمريكتين.</p> <p>(٣) جماعة التجوس: يعيشون في سيبيريا.</p>	<p>(١) الزوج السودانيون.</p> <p>(٢) النيليون الحاميون.</p> <p>(٣) البانتو.</p> <p>(٤) الأفزام.</p> <p>(٥) البوشمن والهوتتوت.</p>	أقسامها

ثانياً السلالات في الوقت الحاضر

بم تفسر: عدم وجود سلالات نقية إلا في المجتمعات البدائية؟
كـ بسبب: انصهار السلالات واختلاط الصفات الطبيعية التي تميز كل سلالة عن الأخرى.

■ السلالات النقية الموجودة في الوقت الحاضر:

- (١) سكان غابات حوض الكونغو وصحراء كلهاري بأفريقيا: وهم سلالة زنجية قصيرة القامة لم تختلط بغيرها من السكان وفي طريقها للانقراض.
- (٢) الإسكيمو: وهم سلالة مغولية تعيش في صحارى التندرا الباردة شمال كندا.
- (٣) الهنود الحمر: وهم سلالة مغولية تعيش في الأمريكتين خاصة في غابات وجبال أمريكا الجنوبية.
- (٤) الأستريون الأصليون: وهم سلالة زنجية.



دلل: لا توجد دولة في العالم يتكون شعبها من سلالة واحدة؟

كـ حيث: (١) الولايات المتحدة الأمريكية يضم شعبها سلالات مختلفة:

- **السلالة القوقازية (البياض):** هم السكان البيض القادمون من أوروبا.

- **السلالة المغولية (الصفراء):** هم الهنود الحمر وهم السكان الأصليون.

- **السلالة الزنجية (السوداء):** وهم السود الذين تعرضوا للهجرة الإجبارية ضمن تجارة العبيد.

(٢) الدول العربية: ليس العرب من سلالة واحدة حيث أغلبية العرب من السلالة القوقازية، ولكن مع حدوث الفتوحات والهجرات على مر التاريخ حدث اختلاط مع السلالات الأخرى.

أسئلة



أكتب ما تشير إليه الأرقام الآتية:

- (١) المحيط
- (٢) هضبة
- (٣) إقليم مناخي
- (٤) السلالة
- (٥) السلالة

أكمل:

- (١) انتشر الإنسان في قارات العالم المختلفة أواخر عصر
- (٢) أغلبية العرب من السلالة وتوجد في الدول العربية شمال أفريقيا مثل و
- (٣) السلالة تمثل نصف سكان العالم.
- (٤) من السلالات النقية في أفريقيا سكان غابات وسكان صحراء
- (٥) من أقسام السلالة المغولية الذين يعيشون في سيبيريا جماعة
- (٦) من أقسام السلالة القوقازية المجموعة الذين يعيشون في غرب ووسط أوروبا.
- (٧) يعتبر الإسكيمو في شمال كندا وألاسكا من السلالة

بم تفسر:

- (١) وجود عدد كبير من الزوج في الأمريكتين؟
- (٢) زيادة نسبة الجنس المغولي في العالم؟
- (٣) لا يوجد شعب كامل من سلالة واحدة؟

دلل:

- (١) تقسيم السلالات أمر ظاهري وليس جوهري؟

ضع علامة (✓) أو (×):

- () (١) يبلغ عدد الزوج في قارة أفريقيا نحو ٧٠٪ من سكانها.
- () (٢) تنتمي جماعة الإسكيمو إلى السلالة القوقازية.
- () (٣) ينتمي معظم سكان الصين للسلالة القوقازية.
- () (٤) المجموعة النوردية الشمالية ينتمون إلى السلالة المغولية.

اختبار

أكمل:

- (١) يفصل قارة آسيا عن قارة أفريقيا وتقرب منها عند وتتصل بها عند
- (٢) تمتد سهول نهر الكونغو في قارة ويصب في
- (٣) توجد الغابات في الإقليم اللورنسي وأشهر أشجارها و.....
- (٤) تتركز السلالة الصفراء في قارة
- (٥) كانت عاصمة الدولة الصفوية بينما كانت عاصمة الدولة العثمانية
- (٦) أرسل في مصر تقارير لحكومته يحثها على إرسال حملة عسكرية إلى مصر.

بم تفسر:

- (١) حملة فريزر على مصر؟
- (٢) تشابه إقليم المناخ المداري والموسمي؟
- (٣) امتداد جميع الأقاليم المناخية في قارة آسيا؟
- (٤) كثرة الموانئ الطبيعية في قارة أوروبا؟
- (٥) مجيء الحملة الفرنسية إلى مصر؟
- (٦) تنفيذ محمد علي مذبحه القلعة مارس ١٨١١ م؟

ضع علامة (✓) أو (×):

- (١) يحد قارة أفريقيا من الغرب المحيط الهندي. ()
- (٢) تمتد السلاسل الجبلية في قارة أوروبا باتجاه عام من الشرق للغرب. ()
- (٣) من العوامل المؤثرة في المناخ الموقع الفلكي والتضاريس. ()
- (٤) هُزمت جيوش طومان باي في معركة مرج دابق ١٥١٦ م. ()
- (٥) طبق العثمانيون نظام الالتزام في مصر والذي جعل الأرض ملكاً للدولة ممثلة في السلطان العثماني. ()

قارن بين:

الصفات الجسمية	الزنجية	القوقازية
الأقسام		

ما النتائج المترتبة على:

- (١) ارتفاع درجة الحرارة وسقوط الأمطار طوال العام في المنطقة الاستوائية؟
- (٢) سياسة نابليون بونابرت تجاه الشعب المصري؟

اختر الإجابة الصحيحة:

- (١) انتصر العثمانيون على المماليك عام ١٥١٦ م في معركة
 - (٢) قاوم أهالي الإسكندرية الحملة الفرنسية بزعامة
 - (٣) ينتمي إلى السلالة المغولية الصفراء.
 - (٤) تقع جبال روكي في قارة
- (التل الكبير - مرج دابق - الريدانية - شبراخيت)
(عمر مكرم - الشيخ السادات - محمد كريم - مراد بك)
(العرب - الإسكيمي - النيلون الحاميون - البانتو)
(آسيا - أوروبا - أستراليا - أمريكا الشمالية)

توزيع السكان في العالم

* بلغ عدد سكان العالم نحو ٧.٢ مليار نسمة عام ٢٠١٤م ويختلف توزيع السكان في قارات العالم حيث:

- آسيا: هي أكبر قارات العالم سكاناً.
- أستراليا: هي أقل قارات العالم سكاناً.
- أنتاركتيكا: خالية من السكان.

* تهتم دول العالم بالقيام بـ (التعداد السكاني) وهو إجراء دوري يتم كل خمس أو عشر سنوات في كل دولة.

* يتركز سكان العالم في المناطق الآتية:

- السهول الفيضية بسبب: وفرة المياه وخصوبة التربة.
- السهول الساحلية بسبب: (١) المناخ المعتدل.
- المدن الكبرى بسبب: (١) وفرة فرص العمل.
- (٢) العمل بالنشاط السياحي.
- (٢) وفرة الخدمات والمناطق الصناعية.

توزيع السكان في قارات العالم

١ قارة آسيا

عدد سكانها: ٤٣٥١ مليون نسمة.

بم تفسر: آسيا هي أكبر قارات العالم سكاناً؟

لأنه: (١) يسكنها نحو ٦٠٪ من سكان العالم.

(٢) يوجد بها أكبر دولتين في العالم من حيث عدد السكان (الصين والهند).

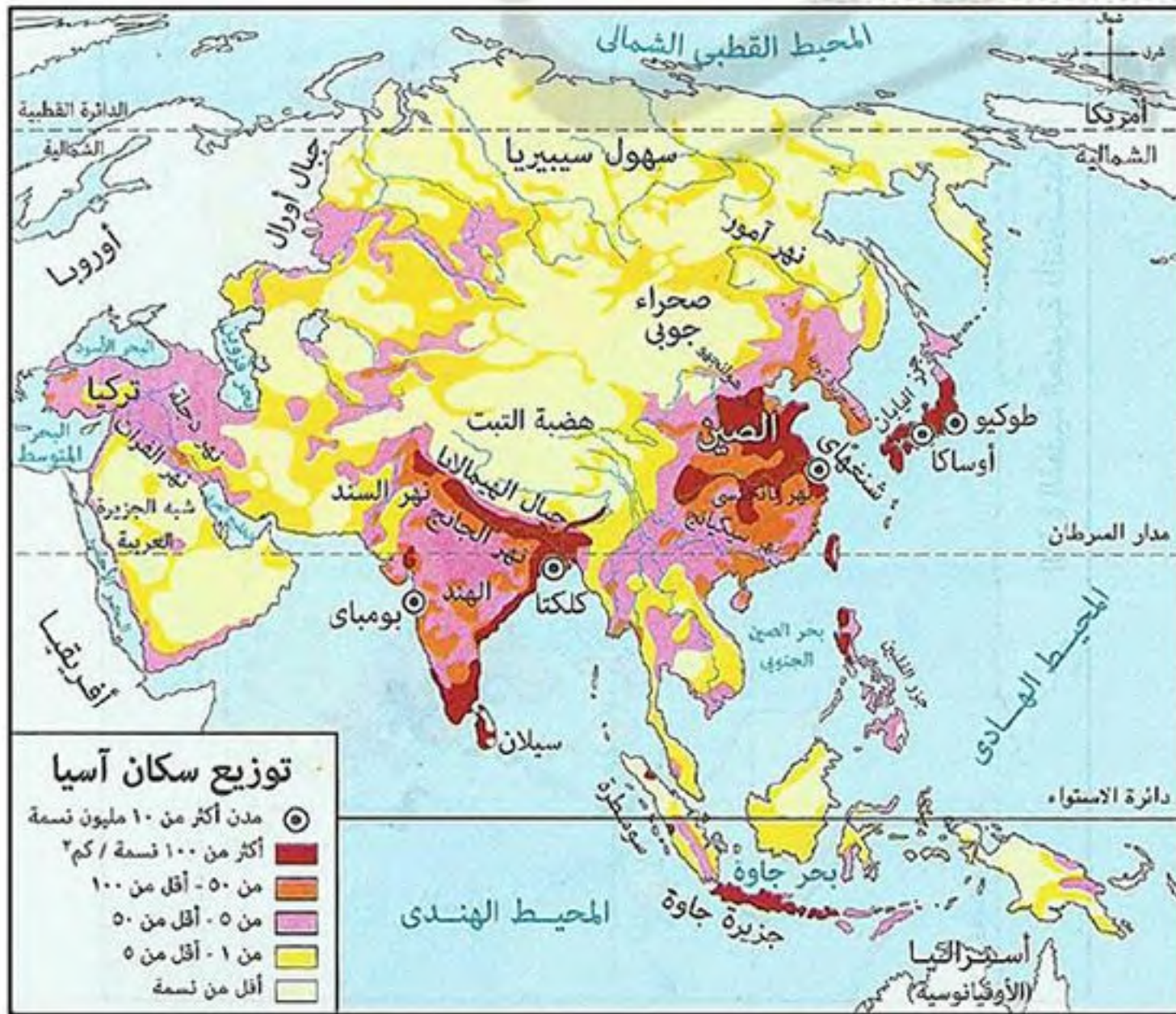
■ توزيع السكان في قارة آسيا:

يتركز السكان في:

- السهول الفيضية الخصبة:
- سهول نهر يانغتسي في الصين.
- سهول نهر الجانج في الهند.
- الجزر ذات التربة الجيدة:
- جزيرة جاوة (هي أكثر مناطق العالم ازدحاماً بالسكان).
- جزر اليابان وجزر الفلبين.

يقل السكان في:

- المناطق الشمالية: مثل سهول سيبيريا بسبب برودة الجو.
- المناطق الصحراوية: مثل شبه الجزيرة العربية.
- المناطق الجبلية والهضبية وسط القارة: بسبب وعورة السطح.



هجرات غير شرعية

هي الهجرات الخارجية التي تتم من خلال وسائل غير قانونية والهروب من سلطات الحدود والإقامة غير الشرعية بالبلاد.

ما النتائج المترتبة على: زيادة السكان في معظم دول قارة آسيا ؟

كما ترتب على ذلك عدة مشكلات هي:

- (١) نقص الغذاء.
- (٢) قلة نصيب الفرد من الدخل القومي.
- (٣) انخفاض مستوى المعيشة.
- (٤) وجود هجرات غير شرعية تتجه في معظمها إلى الدول المتقدمة مثل دول أوروبا.

★ من أمثلة الهجرات غير الشرعية: هجرة أعداد كبيرة من سكان أفريقيا في مراكب والوصول إلى سواحل أوروبا (خاصة إسبانيا وإيطاليا).

٢ قارة أفريقيا عدد سكانها: ١,١ مليار نسمة.

■ توزيع السكان في قارة أفريقيا:

يتركز السكان في:

- السهول الفيضية الخصبة: مثل سهول نهر النيل في مصر والسودان.
- السهول الساحلية المعتدلة الخصبة:
- سواحل البحر المتوسط في مصر ودول المغرب العربي.
- سواحل دولة جنوب أفريقيا.
- المناطق مرتفعة السطح في الدول المدارية:
- مثل أوغندا وكينيا وذلك لاعتدال المناخ بسبب ارتفاع السطح.

يقل السكان في:

- المناطق الاستوائية: بسبب نمو الغابات الاستوائية الكثيفة والبيئة الطبيعية القاسية وانتشار الأمراض.
- المناطق الصحراوية الفقيرة: ■ الصحراء الكبرى.
- صحراء كلهاري.
- بعض المناطق الجبلية الوعرة: جبال البحر الأحمر.



دلل: يؤثر المناخ في توزيع السكان في قارة أفريقيا ؟

كما حيث: (١) ترتفع كثافة السكان في المناطق ذات المناخ المعتدل كما في السواحل والمناطق مرتفعة السطح.

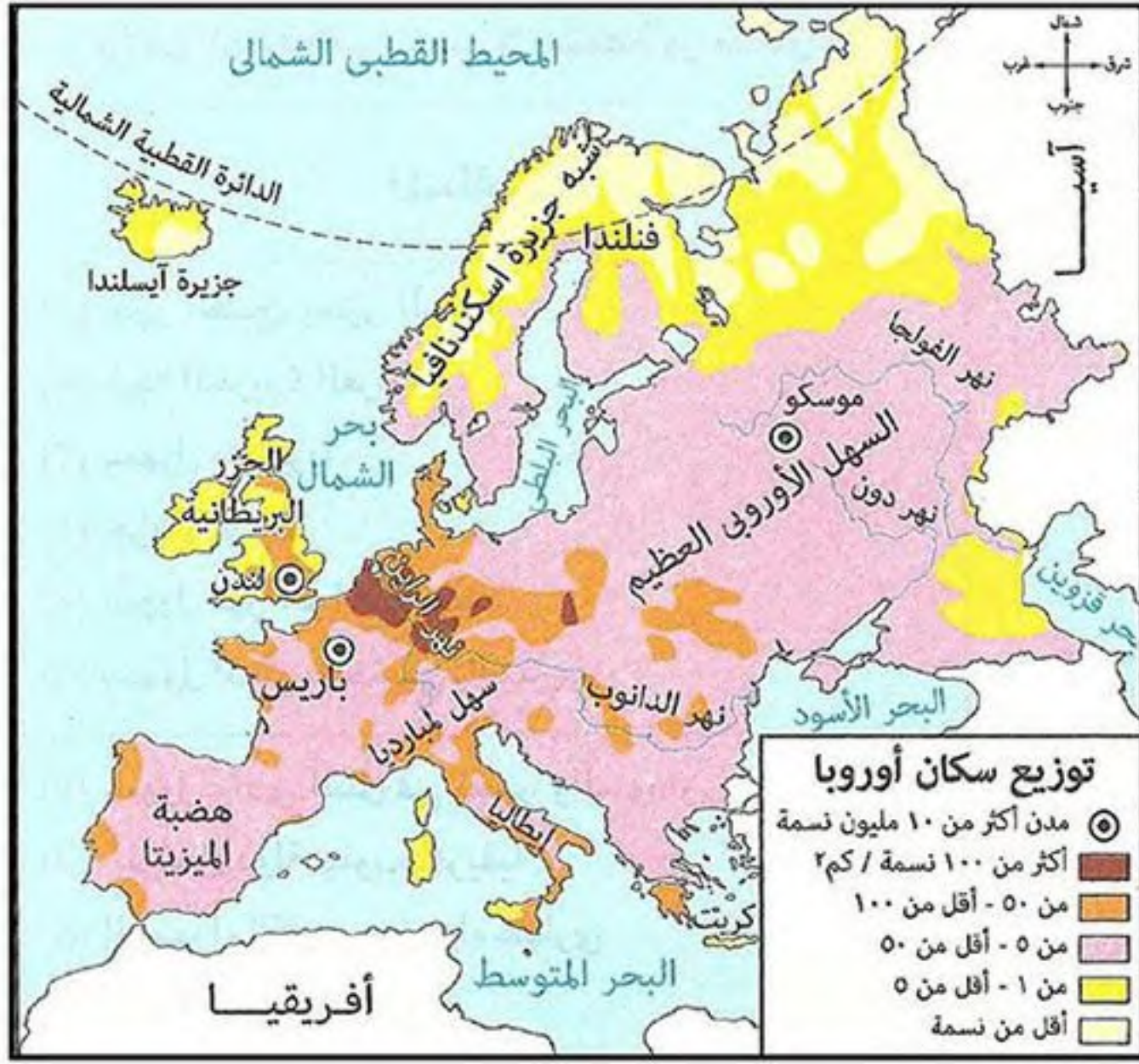
(٢) تقل كثافة السكان في المناطق الاستوائية الحارة والمناطق الصحراوية.



www.facebook.com/EL.Sulttan

للإجابة على أي سؤال
تابعنا على صفحتنا

٣ قارة أوروبا عدد سكانها: ٧٤١ مليون نسمة.



يتركز السكان فيه:

- دول غرب ووسط أوروبا: بريطانيا - فرنسا، ألمانيا - هولندا، إسبانيا
- يتركزون في: لندن - باريس، السهول الزراعية الخصبة مثل: السهل الأوروبي العظيم.
- دول شرق أوروبا: يتركز بها السكان بدرجة أقل حيث يقل درجة تقدمها عن دول غرب ووسط أوروبا.

يقل السكان فيه:

- المناطق الشمالية: مثل فنلندا والنرويج بسبب: شدة البرودة.
- المناطق الجبلية الوعرة: مثل جبال الألب.

٤ قارة أمريكا الشمالية عدد سكانها: ٥٦٢ مليون نسمة.



تضم دول قارة أمريكا الشمالية سكان كما يلي:

- الولايات المتحدة الأمريكية بها ٥٧٪ من سكان القارة. (أكبر دول القارة سكاناً)

المكسيك ٢١٪ من سكان القارة فيه:

- كندا
- دول أمريكا الوسطى (دول البرزخ)
- جزر البحر الكاريبي

يتوزع سكان قارة أمريكا الشمالية كما يلي:

الولايات المتحدة الأمريكية: يتركز السكان في:

- الساحل الشمالي الشرقي بسبب وجود الموارد الاقتصادية الضخمة والمدن الكبرى مثل نيويورك.
- ولايات الوسط بسبب وجود الأقاليم الزراعية (سهول نهر المسيسيبي).
- منطقة البحيرات العظمى لأنها منطقة ذات موارد اقتصادية ضخمة.

المكسيك: يتركز السكان في:

- المدن الكبرى: مثل مدينة مكسيكو («العاصمة»).

كندا: يتركز السكان في:

- المدن الكبرى: مثل مدينة مونتريال.

يقل السكان فيه:

- دول البرزخ: مثل هندوراس وكوستاريكا.
- بعض الجزر الصغيرة.

٥ قارة أمريكا الجنوبية عدد سكانها: ٤١٠ مليون نسمة.

* البرازيل: هي أكبر دول أمريكا الجنوبية سكاناً بها ٥٠٪ من سكان القارة.

* يوجد بأمريكا الجنوبية:

- دول يزيد عدد سكانها عن ٤٠ مليون نسمة مثل: الأرجنتين.
- دول يقل عدد سكانها عن مليون نسمة مثل: جويانا.

يتركز السكان في:

- السهول الفيضية: سهول نهر الأورينوكو في فنزويلا.
- سهول لابلاتا وتعرف في الأرجنتين بسهول البمباس.
- السهول الساحلية.
- هضبة البرازيل وسواحلها: حيث يوجد بها المدن الكبرى.

يقل السكان في:

- سهول الأمازون: بسبب نمو الغابات الاستوائية الكثيفة.
- قمم جبال الأنديز.
- هضبة بتاجونيا: في جنوب أمريكا الجنوبية.



٦ قارة أستراليا (الأوقيانوسية) عدد سكانها: ٣٩ مليون نسمة.

■ يتوزع سكان قارة أستراليا كما يلي:

- دولة أستراليا بها ٦٠٪ من سكان القارة (أكبر دول القارة سكاناً).
- دولة نيوزيلندا بها ١١٪ من سكان القارة.
- النسبة الباقية في الجزر المتناثرة في المحيط الهادى مثل جزر سولومون.

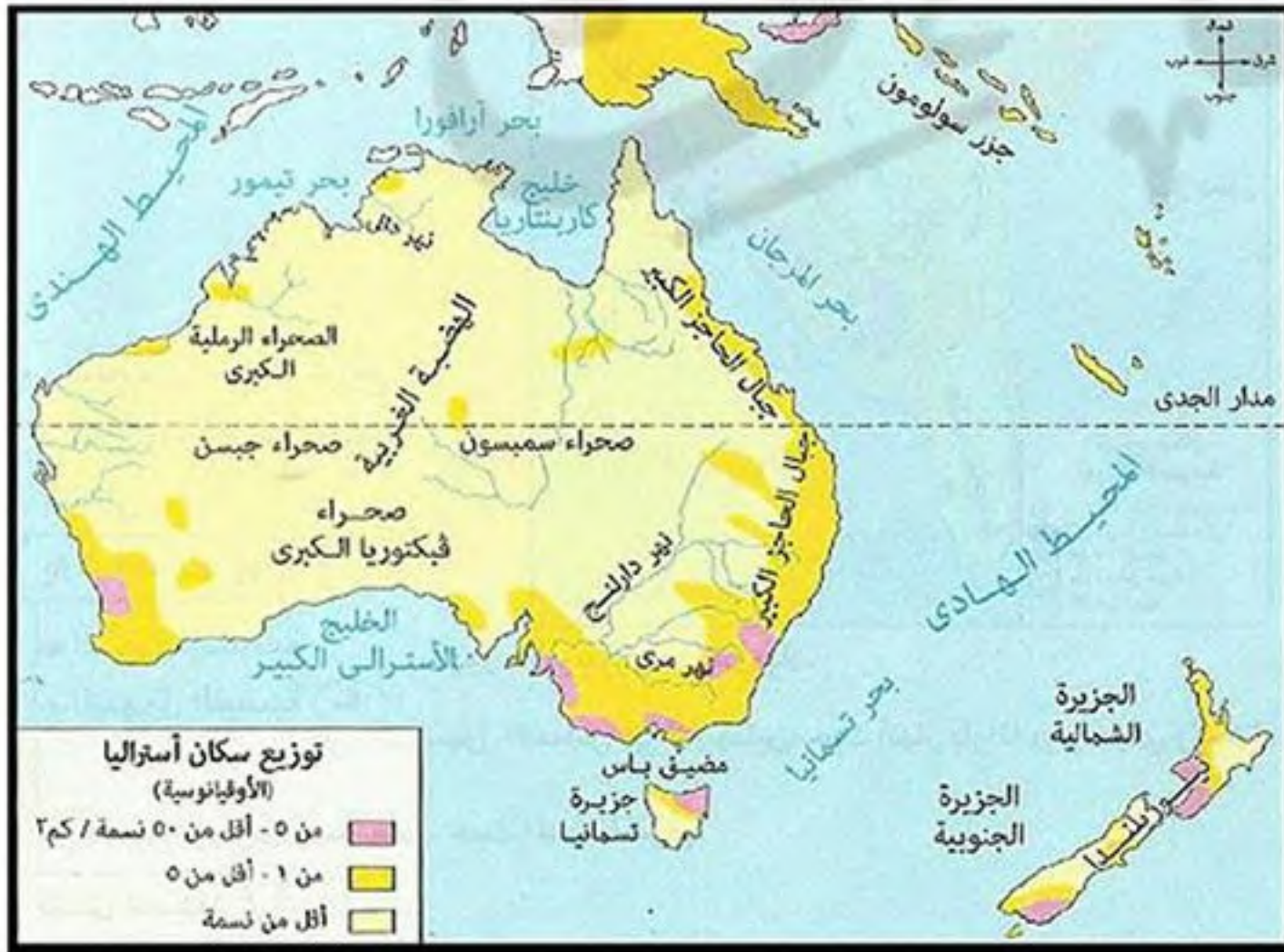
■ توزيع السكان في قارة أستراليا في:

يتركز السكان في:

- السواحل الشرقية: بسبب وجود المدن الكبرى و المناطق الصناعية مثل مدينة سيدنى.
- جنوب شرق القارة: بسبب وجود الأراضي الزراعية و سهول نهرى مري و دارلينج.

يقل السكان في:

- شمال القارة: بسبب وجود الغابات الموسمية وحشائش السافانا.
- داخل (وسط) وغرب القارة: بسبب سيادة الظروف الصحراوية.



تطبيق مذكرات جاهزة للطباعة

احصل عليه من
App Store Google Play

حمل التطبيق على موبايلك الأندرويد أو الآيفون

موقع مذكرات جاهزة للطباعة - www.cryp2day.com



أ / محمد فتحى

اختبار (١)

أكمل:

- (١) يتركز السكان في آسيا في سهول نهر بالهند.
- (٢) يقل السكان في الصحارى بآسيا مثل صحراء
- (٣) يزيد أعداد السكان في أفريقيا في سهول نهر
- (٤) من المدن الكبرى في غرب أوروبا والتي يتركز بها السكان و.....
- (٥) من السهول الساحلية المعتدلة الخصبة في أفريقيا سواحل دول ودولة
- (٦) أكبر دول العالم سكاناً هي يليها
- (٧) من صحارى أفريقيا التي يقل بها السكان صحراء وصحراء
- (٨) يزداد السكان في دول أوروبا بينما يقل السكان في دول

بم تفسر:

- (١) يقل السكان في دول شرق أوروبا ؟
- (٢) تركز معظم سكان العالم في السهول الفيضية ؟
- (٣) قارة آسيا هي أكبر قارات العالم من حيث عدد السكان ؟
- (٤) قلة السكان في سهول سيبيريا ؟
- (٥) تركز السكان في دولتي أوغندا وكينيا في أفريقيا ؟
- (٦) أهمية هضبتى الحبشة والبحيرات الاستوائية ؟

ضع علامة (✓) أو (×) مع التصويب :

- () (١) يقل السكان في المناطق الاستوائية بأفريقيا.
- () (٢) جبال البحر الأحمر من المناطق مزدحمة السكان في أفريقيا.
- () (٣) تعتبر دولتي فنلندا والنرويج من الدول التي يتركز بها السكان في أوروبا.
- () (٤) سهول نهر يانجتسى بالصين من مناطق تركز السكان في أفريقيا.
- () (٥) يزداد تركز السكان على سواحل دول المغرب العربى بأفريقيا.

صنف المدن والمناطق الآتية حسب تركز السكان بها:

- | | | |
|------------------------------|----------------------------|-------------------|
| (١) سهول سيبيريا. | (٢) السهل الأوروبي العظيم. | (٣) صحراء كلهارى. |
| (٤) سواحل دول المغرب العربى. | (٥) سهول نهر الجانج. | (٦) فنلندا. |
| (٧) جبال الألب. | (٨) صحراء كلهارى. | (٩) فرنسا. |

ما النتائج المترتبة على:

- (١) امتداد آسيا الفلكى ؟
- (٢) زيادة السكان في قارة آسيا ؟
- (٣) تطاحن الممالك المستمر فيما بينهم ؟
- (٤) تحطيم الأسطول الفرنسى في معركة أبو قير البحرية ١٧٩٨ م ؟

ماذا يحدث إذا:

- (١) لم يتخلص محمد على من الممالك ؟
- (٢) كان الحد الشرقى لأوروبا بحرياً ؟



تطبيق مذكرات جاهزة للطباعة

احصل عليه من

App Store

Google Play

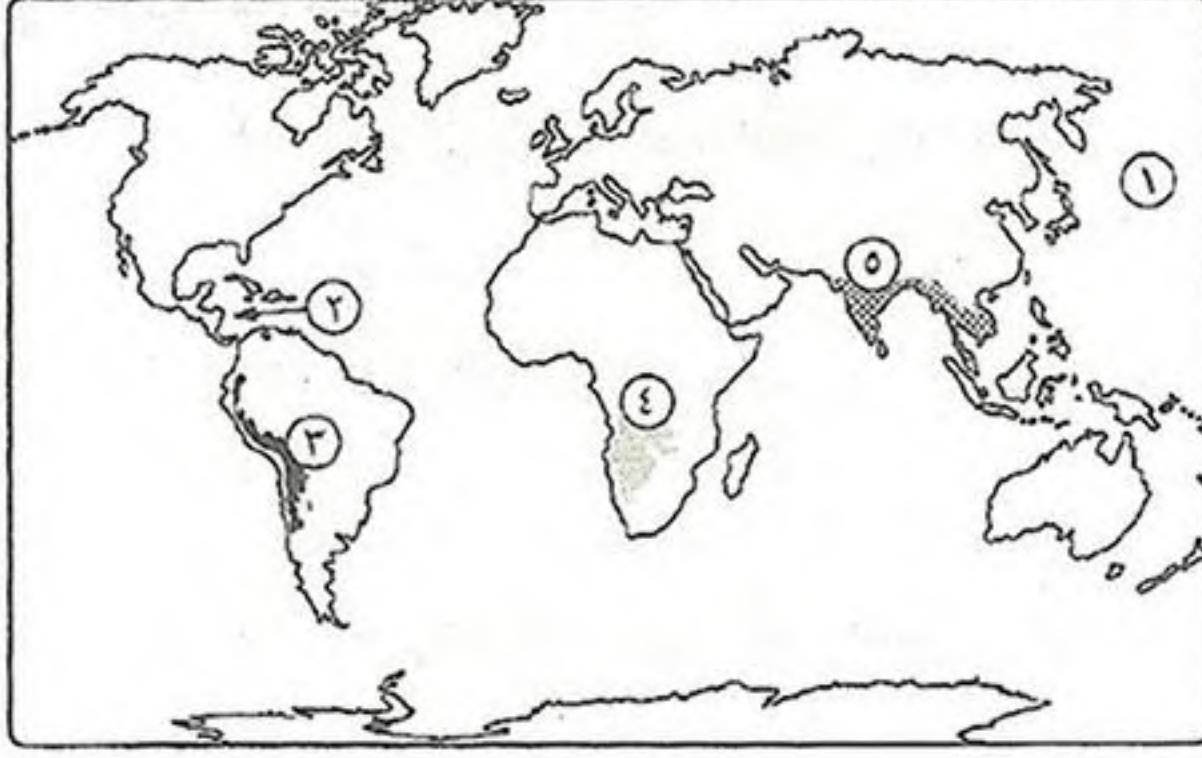
حمل التطبيق على موبائلك الأندرويد أو الأيفون

موقع مذكرات جاهزة للطباعة - www.cryp2day.com



أ / محمد فتحي

اختبار (٢)



أكتب ما تشير إليه الأرقام الآتية:

- (١) المحيط
- (٢) البحر
- (٣) جبال
- (٤) هضبة
- (٥) إقليم مناخى

أكمل:

- (١) يعد دولتى و هم أكثر دول قارة آسيا سكاناً.
- (٢) تتميز السلالة الزنجية بالبشرة والأنف والشعر
- (٣) قامت ثورة القاهرة الأولى عقب موقعة
- (٤) أكبر قارات العالم سكاناً هى بينما أقل قارات العالم سكاناً هى
- (٥) قامت ثورة القاهرة الثانية أثناء قيادة للحملة الفرنسية فى مصر.
- (٦) من المدن الكبرى التى يتركز بها السكان فى أستراليا
- (٧) يقل السكان فى أمريكا الشمالية فى دول البرزخ مثل و
- (٨) أكثر دول أمريكا الشمالية سكاناً هى

بم تفسر:

- (١) يتركز سكان العالم فى المدن الكبرى ؟
- (٢) تركز السكان فى جزيرة جاوة ؟
- (٣) قلة عدد السكان فى جبال الأمازون ؟
- (٤) قلة السكان شمال أستراليا ؟
- (٥) اعتبار معركة أبو قير البحرية بداية النهاية للحملة الفرنسية ؟

صنف المناطق الآتية من حيث تركز السكان بها:

- | | | |
|------------------|-----------------------|---------------------------|
| (١) جزيرة جاوة ؟ | (٢) سهول النيچر ؟ | (٣) سهول سيبيريا ؟ |
| (٤) باريس ؟ | (٥) فنلندا والنرويج ؟ | (٦) سواحل المغرب العربى ؟ |

ما النتائج المترتبة على:

- (١) زيادة عدد السكان فى معظم دول آسيا ؟
- (٢) إهمال التعليم فى مصر أثناء الحكم العثمانى ؟

ما المقصود بالمصطلحات الآتية:

- (١) الهجرة غير الشرعية ؟
- (٢) حوض النهر ؟

دل:

- (١) كانت النتائج النهائية لحروب اليونان فى صالح مصر ؟
- (٢) اهتم الخديو إسماعيل بالتعليم ؟



تطبيق مذكرات جاهزة للطباعة

احصل عليه من

App Store Google Play

حمل التطبيق على موبائلك الأندرويد أو الأيفون

موقع مذكرات جاهزة للطباعة - www.cryp2day.com



أ/ محمد فتحى

خصائص سكان العالم

أولاً

خصائص السكان الديموجرافية

ديموجرافية

هي علم دراسة السكان من حيث النمو والتوزيع والتركيب السكاني.



١ معدل المواليد

* يختلف معدل المواليد من قارة إلى أخرى ومن دولة إلى أخرى حيث:

• أعلى القارات في معدل المواليد هي قارة أفريقيا.

• أقل القارات في معدل المواليد هي قارة أوروبا.

بم تفسر: ارتفاع معدل المواليد في قارة أفريقيا ؟

كـ بسبب: (١) الاعتماد على الرعي و الزراعة البدائية.

(٢) انتشار الفقر و الأمية في معظم دول أفريقيا.

(٣) انتشار العادات والتقاليد السلبية مثل (انجاب أكبر عدد من الأبناء - الزواج المبكر للإناث).

٢ معدل الوفيات

* يقل معدل الوفيات في الدول المتقدمة ويزيد في الدول النامية والفقيرة.

• أعلى القارات في معدل الوفيات هي قارة أوروبا بسبب زيادة عدد كبار السن.

• أقل القارات في معدل الوفيات هي قارة أمريكا الجنوبية.

دلل: هناك عوامل تؤثر في معدل الوفيات في العالم ؟

كـ (١) مستوى السكن والتغذية والخدمات الصحية العامة حيث:

• الدول التي تراعى الوقاية الصحية وحماية البيئة من التلوث يقل بها معدل الوفيات.

• الدول التي يقل فيها الرعاية الصحية و ينتشر بها الأمراض يزداد فيها معدل الوفيات.

(٢) الحروب والكوارث الطبيعية مثل الجفاف والزلازل تؤدي إلى زيادة معدل الوفيات.



الزيادة الطبيعية: هي ناتج الفرق بين معدل المواليد ومعدل الوفيات.

القارة	معدل الزيادة الطبيعية	السبب
قارة أفريقيا	مرتفع	زيادة عدد المواليد وقلة عدد الوفيات نسبياً.
قارة أمريكا الشمالية	منخفض	قلة عدد المواليد وقلة عدد الوفيات.
قارة أوروبا	صفر (أي عدد السكان ثابت)	تساوى عدد المواليد مع عدد الوفيات.

بم تفسر: يقل معدل الزيادة الطبيعية في الدول المتقدمة ؟

كـ بسبب: قلة معدل المواليد وقلة معدل الوفيات.

* عام ٢٠١٤م:

لاحظ!

- ارتفع في مصر معدل المواليد مثل باقي الدول النامية.
- انخفض في مصر معدل الوفيات بسبب الاهتمام بالرعاية الصحية وصحة الأطفال.
- لذلك معدل الزيادة الطبيعية في مصر مرتفع.

٣ التركيب العمري

هو دراسة عدد ونسبة كل مجموعة من سكان المنطقة وفقاً لفئات عمرية محددة.

* تنقسم الفئات العمرية إلى:

أ فئة صغار السن «غير منتجة»

- تضم الرضع والأطفال والمراهقين الذين تقل أعمارهم عن ١٥ عاماً.
- نسبتهم في العالم: • منخفضة في الدول المتقدمة مثل السويد.
- مرتفعة في الدول النامية مثل مصر.



ما النتائج المترتبة: ارتفاع نسبة فئة صغار السن في الدول النامية ؟
 كما يترتب على ذلك: تحمل الدولة ميزانية ضخمة من أجل توفير الغذاء والملبس والرعاية الصحية والتعليم وغيرها من الخدمات.

ب الفئة المتوسطة «فئة سن العمل»

- تضم البالغين الذين تتراوح أعمارهم من ١٥ إلى ٦٤ عام.
- نسبتهم في العالم: متقاربة بين دول العالم المختلفة حيث:
- مرتفعة في دول غرب أوروبا.
- منخفضة في دول قارة أفريقيا.



ج فئة كبار السن «غير منتجة»

- تضم السكان الذين وصلت أعمارهم ٦٥ عاماً فأكثر.
- نسبتهم في العالم: • مرتفعة في الدول المتقدمة.
- منخفضة في الدول النامية.



بم تفسر: ارتفاع نسبة فئة كبار السن في الدول المتقدمة عن النامية ؟
 كما بسبب: التقدم في مجالات الخدمات الصحية والتعليمية.



www.facebook.com/EL.Sulttan

للإجابة على أي سؤال
 تابعنا على صفحتنا



تطبيق مذكرات جاهزة للطباعة
 احصل عليه من
 App Store Google Play

حمل التطبيق على موبايلك الأندرويد أو الآيفون

موقع مذكرات جاهزة للطباعة - www.cryp2day.com



ثانياً خصائص السكان التعليمية

* ترتفع نسبة الأمية (عدم معرفة القراءة والكتابة) فوق سن ١٥ سنة في الدول النامية وتنخفض بنسبة كبيرة في الدول المتقدمة.

* تختلف نسبة المتعلمين في العالم:

- مرتفعة في الدول المتقدمة تصل إلى أكثر من ٩٥٪ مثل: (أستراليا - اليابان - روسيا) ودول أمريكا الشمالية ودول أوروبا.
- منخفضة في الدول النامية وتصل إلى:

■ نحو ٧٥٪ في دول أمريكا الجنوبية - الصين - جنوب أفريقيا.

■ نحو ٦٥٪ في مصر.

■ ما بين ٤٥ - ٦٠٪ في: معظم دول قارة أفريقيا - الهند.



بم تفسر: ارتفاع نسبة المتعلمين في مصر إلى ٦٥٪ ؟

كـ بسبب: (١) زيادة الاهتمام بالتعليم في مراحل المختلفة.

(٢) جهود الدولة في مجال محو الأمية وتحقيق مبدأ تكافؤ الفرص.

دلل: هناك عادات وتقاليد تؤثر في معدل التعليم خاصة الإناث ؟

كـ حيث: (١) حرمان المرأة من التعليم في بعض المناطق حفاظاً عليها أو بسبب المعتقدات الخاطئة.

(٢) تفضيل الزواج المبكر للإناث.

ثالثاً خائص السكان الصحية (الحالة الصحية)

دلل: يُعد عدد الأطباء مؤشر مهم على الرعاية الطبية في العالم ؟

كـ حيث: كلما زاد عدد الأطباء بالنسبة للسكان في دولة ما دل ذلك على زيادة الرعاية الطبية.

■ تنقسم الدول من حيث الرعاية الطبية إلى:

• دول ذات رعاية طبية فائقة مثل روسيا - معظم دول أوروبا - دول أمريكا الشمالية.

• دول ذات رعاية طبية مرتفعة مثل مصر - الأردن - الإمارات.

• دول ذات رعاية طبية منخفضة: - يقع معظمها في أفريقيا مثل (النيجر - إثيوبيا).

- نيبال في آسيا.



www.facebook.com/EL.Sulttan

للإجابة على أي سؤال

تابعنا على صفحتنا



تطبيق مذكرات جاهزة للطباعة

احصل عليه من App Store Google Play

حمل التطبيق على موبايلك الأندرويد أو الأيفون

موقع مذكرات جاهزة للطباعة - www.cryp2day.com

رابعاً خائص السكان الاقتصادية

* تختلف الخصائص الاقتصادية لسكان العالم وفقاً لـ :

(١) تنوع الأنشطة الاقتصادية التي يقوم بها السكان في كل دولة.

(٢) دخل السكان.

• **قارة أستراليا:** بها أعلى نصيب للفرد من الدخل القومي.

• **قارة أفريقيا:** بها أقل نصيب للفرد من الدخل القومي.

■ تنقسم الدول من حيث الدخل الاقتصادي إلى:

١ دول ذات دخل اقتصادي مرتفع

■ تتمثل في الدول الصناعية التي:

• تعتمد على الصناعة والخدمات.

• تستهلك كميات كبيرة من الطاقة.

• يتركز معظم سكانها في المدن في مستويات معيشة مرتفعة.

■ **من أمثلتها:** • دول غرب أوروبا ودول أمريكا الشمالية.

• دول الخليج العربي في آسيا (وهي تعتمد على استخراج البترول وتصديره إلى الخارج وتصنيع مشتقاته).



٢ دول ذات دخل اقتصادي فوق المتوسط

■ **تعتمد على:** التصنيع النامي والأنشطة التقليدية (الزراعة والأنشطة المرتبطة بها).

■ **من أمثلتها:** • تركيا: في آسيا.

• دول شرق أوروبا.

• المكسيك: في أمريكا الشمالية.

• جنوب أفريقيا.



٣ دول ذات دخل اقتصادي أقل من المتوسط

■ **تعتمد على:** التصنيع والتنمية الاقتصادية والأنشطة الأخرى.

■ **من أمثلتها:** • الصين: في آسيا.

• مصر والمغرب: في أفريقيا.

• هايتي: في أمريكا الشمالية.

• أوكرانيا: في أوروبا.

• البرازيل: في أمريكا الجنوبية.



٤ دول ذات اقتصاد زراعي منخفض

■ **تعتمد على:** الزراعة ويتركز معظم سكانها في الريف.

■ **من أمثلتها:** • باكستان: في آسيا.

• الكونغو: في أفريقيا.

• الدول ذات الدخل الاقتصادي المرتفع تعتمد على النشاط الصناعي.

• الدول ذات الدخل الاقتصادي المنخفض تعتمد على النشاط الزراعي.



* دول أفريقيا النامية والفقيرة إذا قامت بالاستفادة من ثرواتها المعدنية والزراعية في التصنيع بدلاً من تصديرها مواد خام لأصبحت من الدول ذات الدخل الاقتصادي المرتفع.

قوة العمل هي عدد الأفراد في سن العمل والقادرين عليه والذين يعملون فعلياً أو يبحثون عن عمل.

* يختلف توزيع قوة العمل في دول العالم حسب الأنشطة الاقتصادية التي توجد بها.

* تختلف نسبة العاملين في الأنشطة الاقتصادية المختلفة في الدول المتقدمة والنامية كما يلي:

• **في الدول المتقدمة:** - تزداد نسبة العاملين في الصناعة والخدمات المرتبطة بها.

- تقل نسبة العاملين في مجال الزراعة إلى أقل من ١٠٪ كما في:

دول (غرب أوروبا - أمريكا الشمالية) - أستراليا.

• **في الدول النامية والفقيرة:** - تقل نسبة العاملين في مجال الصناعة.

- تزداد نسبة العاملين في مجال الزراعة كما يلي:

← من ٣٠٪ إلى ٦٠٪: مصر في أفريقيا - تركيا في آسيا.

← من ٦٠٪ إلى ٨٠٪: السودان في أفريقيا - الهند في آسيا.

← ٨٠٪ إثيوبيا في أفريقيا.

لا حظ! * يعمل السكان في الدول النامية والفقيرة إلى جانب الزراعة بالأنشطة الأولية والثانوية مثل: الرعي - الصيد - قطع الغابات وغيرها...

أسئلة عامة علم الدرس

أكمل:

- (١) تتميز قارة بمعدل مواليد مرتفع بينما تتميز قارة بمعدل مواليد منخفض
- (٢) تتميز قارة بانخفاض معدل الوفيات وقارة بارتفاع معدل الوفيات.
- (٣) من الدول ذات الرعاية الطبية المرتفعة دولة بينما من الدول ذات الرعاية الطبية الفائقة
- (٤) من الدول ذات الدخل الاقتصادي المرتفع بينما من الدول ذات الدخل أقل المتوسط في أفريقيا
- (٥) يزداد نسبة العاملين بالزراعة في الدول بينما يزداد نسبة العاملين بالصناعة في دول

بم تفسر:

- (١) ارتفاع معدل الوفيات في أوروبا ؟
- (٢) قارة أفريقيا أولى دول العالم في معدل الوفيات ؟
- (٣) يقل معدل الزيادة الطبيعية في الدول المتقدمة ؟
- (٤) ارتفاع نسبة فئة كبار السن في الدول المتقدمة ؟
- (٥) وصول نسبة المتعلمين في مصر إلى ٦٥٪ ؟

ما النتائج المترتبة على:

- (١) تساوى معدلات المواليد مع معدلات الوفيات في قارة أوروبا ؟

صنف الدول الآتية من حيث مستوى الرعاية الصحية: روسيا - مصر - إثيوبيا - نيبال - الأردن.

ضع علامة (✓) أو (×) مع التصويب :

- () ١) تعد قارة آسيا أقل قارات العالم في متوسط دخل الفرد.
- () ٢) توجد أقل نسبة للفئة متوسطة العمر في قارة أوروبا.
- () ٣) تنخفض نسبة قوة العمل في مجال الزراعة في أستراليا.
- () ٤) ترتفع نسبة الأمية في الدول النامية وتنخفض في الدول المتقدمة.

اختر الإجابة الصحيحة:

- ١) تصل نسبة قوة العمل في الزراعة إلى ٨٠٪ في الدول .
 - ٢) أقل قارة في نصيب الفرد من الدخل القومي .
 - ٣) تعتبر أى من الدول الآتية ذات رعاية طبية مرتفعة.
 - ٤) يصل معدل الزيادة الطبيعية إلى صفر في قارة.
- (المتقدمة - المنخفضة - النامية - الفقيرة).
- (آسيا - أمريكا الجنوبية - أستراليا - أفريقيا)
- (فرنسا - ألمانيا - روسيا - مصر) .
- (أمريكا الشمالية - أوروبا - أستراليا - أمريكا الجنوبية).

الاختبار الأول



أكتب ما تشير إليه الأرقام الآتية:

- ١) جبال
- ٢) إقليم مناخى
- ٣) المحيط
- ٤) بحر

أكمل:

- ١) تنتشر السهول الصحراوية الرملية مثل سهل في ليبيا والذي يمتد في مصر ويعرف باسم
- ٢) تجرى أنهار أوب وينسى ولينا في سهول شمال آسيا وتصب في
- ٣) الكثافة السكانية في سهول البمباس.
- ٤) هُزم السلطان في موقعة مرج دابق ١٥١٦ م.
- ٥) أصدر السلطان العثماني فرمان في يونيو ١٨٧٩ م بعزل
- ٦) بدأ تاريخ المؤسسات النيابية في مصر بإنشاء مجلس

بم تفسر:

- ١) ارتفاع درجات الحرارة وغزارة الأمطار صيفاً بالهند ؟
- ٢) تدهور التجارة الداخلية لمصر أثناء الحكم العثماني ؟
- ٣) ارتفاع معدل المواليد في قارة أفريقيا ؟

أجب عما يأتى:

«إن نهضة البلاد لن تتحقق إلا من خلال بناء دولة تأخذ بالأساليب المدنية الحديثة»، في ضوء هذه العبارة أجب عما يأتى:

- ١) ما الأعمال الكبرى لعلماء الحملة الفرنسية؟
- ٢) ما الأساليب التى اتخذها محمد على للنهوض بالصناعة؟

دلي:

- ١) كانت النتائج النهائية لحروب اليونان في صالح مصر ؟
- ٢) اهتم الخديو إسماعيل بالتعليم ؟

مصر بين المماليك والعثمانيين

* في أواخر القرن الخامس عشر وأوائل القرن السادس عشر شهد العالم الإسلامي صراعاً بين ثلاث قوى هي:

الدولة المملوكية

- قامت في مصر وضمّت الشام والحجاز وجزء من ساحل أفريقيا الشرقي المطل على البحر الأحمر.
- تعرضت في أواخر القرن الـ ١٥ م لأزمات مالية وسياسية أدت إلى إضعاف قوتها العسكرية وانهارها.

بم تفسر: تعرض دولة المماليك لأزمة اقتصادية وتدهور اقتصادياً ؟

- (١) بسبب: اكتشاف البرتغاليين طريق رأس الرجاء الصالح عام ١٤٩٨ م.
- (٢) تحطم الأسطول المملوكي في معركة ديو البحرية عام ١٥٠٩ م.

بم تفسر: تعرض دولة المماليك لأزمات سياسية ؟

- (١) بسبب: كثرة الفتن والثورات الداخلية.
- (٢) اضطراب الأمن.
- (٣) الصراع المستمر بين المماليك على السلطة.

الدولة الصفوية

- مركزها: بلاد الفرس (إيران حالياً).
- عاصمتها: تبريز.

الدولة العثمانية

- في بداية القرن ١٦ اتجه السلطان العثماني **سليم الأول** بتوسعاته نحو الشرق واصطدم بكل من:
- **الدولة الصفوية**: هزمهم ودخل عاصمتهم تبريز بعد معركة جالديران عام ١٥١٤ م.
- **الدولة المملوكية**: هزمهم واستولى على مصر والشام.



السلطان سليم الأول

أسباب اتجاه العثمانيين للاستيلاء على مصر والشام

بم تفسر: اتجاه العثمانيين نحو مصر والشام ؟

- (١) بسبب: إدراك السلطان سليم الأول خطورة التوسع في أوروبا لتفوقها حضارياً وعسكرياً على العثمانيين.
- (٢) رغبة السلطان سليم الأول في توسيع ممتلكات الدولة العثمانية في الشرق والاستيلاء على مصر التي تمثل قلب العالم الإسلامي.

استيلاء العثمانيين على مصر والشام

* قام السلطان سليم الأول بالاستيلاء على إمارة ذى القادر التابعة لدولة المماليك وتقع على الحدود بين الدولتين المملوكية والعثمانية فخرج السلطان المملوكى قنصوة الغورى من مصر إلى الشام ودارت معركة مرج دابق.

معركة مرج دابق ١٥١٦م		معركة الريدانية ١٥١٧م	
الأطراف	العثمانيين	العثمانيين	ضد المماليك
	بقيادة (سليم الأول)	بقيادة (سليم الأول)	بقيادة (طومان باى)
المكان	في الشام عند مرج دابق.	في صحراء العباسية عند الريدانية.	
	(١) انتصار العثمانيين وهزيمة المماليك. (٢) أصبحت الشام ولاية عثمانية.	(١) هزيمة المماليك وانتصار العثمانيين ودخولهم القاهرة. (٢) انتهاء الدولة المملوكية وأصبحت مصر ولاية عثمانية.	
النتائج	* بعد ذلك اتجه سليم الأول إلى مصر والتقى بجيوش المماليك في صحراء العباسية ودارت معركة عند الريدانية.		



بم تفسر: هزيمة المماليك أمام العثمانيين ؟

- كـه بسبب: (١) عدم الاستقرار الداخلى للمماليك والصراع المستمر على السلطة.
(٢) التفوق العسكرى للجيش العثمانى واستخدام أساليب قتال حديثة وأسلحة متطورة.

ما النتائج المترتبة على: استيلاء العثمانيين على أراضى الدولة المملوكية ؟

- كـه ترتب على ذلك: (١) تحولت مصر من دولة مستقلة إلى ولاية عثمانية.
(٢) انتقال خلافة العالم الإسلامى السياسية والدينية إلى الدولة العثمانية.
(٣) إعلان سليم الأول نفسه الحامى الوحيد للحرمين الشريفين ولجميع رعاياه فى العالم الإسلامى.
(٤) سيطرة العثمانيين على العالم العربى فى الاتجاهين الآسيوى والإفريقى.

ملامح الحكم العثمانى لمصر

* استمرت مصر ولاية تابعة للدولة العثمانية نحو أربعة قرون متتالية وكان حكم العثمانيين لمصر جامداً راکداً حيث تحولت فيه مصر لولاية معزولة عن المؤثرات الحضارية الحديثة فى أوربا.

أولاً الحياة السياسية (نظام الحكم والإدارة فى مصر)

- * تكون نظام الحكم العثمانى لمصر من:
- ١) الوالى (الباشا)
 - ٢) الديوان (ديوان القاهرة)
 - ٣) الحامية العثمانية
 - ٤) إدارة الأقاليم

بم تفسر: حمل نظام الحكم العثماني في ثنياه عوامل ضعفه ؟
كـ بسبب: (١) قصر مدة حكم الوالي التي تتراوح ما بين سنة إلى ثلاث سنوات.
 (٢) زيادة سلطة الديوان والحامية العثمانية.

* نتيجة ضعف الدولة العثمانية تطلع البكوات المماليك (حكام الأقاليم) للانفراد بالحكم وأشهرهم **علي بك الكبير**.

حركة علم بك الكبير الاستقلالية



علي بك الكبير

- أعلن علي بك الكبير استقلاله بحكم مصر وأصبح الحاكم الفعلي لها عام ١٧٦٨م.
- تحالف مع الشيخ ظاهر العمر حاكم جنوب الشام.
- أخضع الحجاز.
- أرسل نائبه محمد بك أبو الذهب لغزو الشام واستطاع دخول دمشق.

* لكن في النهاية فشلت حركة علي بك الكبير.

بم تفسر: فشل حركة علي بك الكبير الاستقلالية ؟
كـ بسبب: انحياز محمد بك أبو الذهب للسلطان العثماني واتفاقه معه ضد علي بك الكبير وبذلك انتهى حكم علي بك الكبير وعادت مصر ولاية عثمانية تحت حكم شيخ البلد محمد بك أبو الذهب.

تدهورت الأوضاع الاقتصادية في مصر أثناء الحكم العثماني ومن مظاهر ذلك:

ثانياً الحياة الاقتصادية

١ الزراعة

- طبقت الدولة العثمانية في الزراعة:
- **حق الانتفاع:** يجعل الأرض الزراعية ملكاً للدولة العثمانية (السلطان العثماني) ويتم تكليف الفلاح بزراعتها وليس له حق التصرف فيها.
- **نظام الالتزام:** تم تطبيقه عندما ضعفت الدولة العثمانية في منتصف القرن الـ ١٧م.
- تدهورت أحوال الزراعة في مصر أثناء الحكم العثماني وتدهورت أحوال الريف بصفة عامة بسبب:
- معاناة الفلاح من كثرة الضرائب المفروضة على الأراضي الزراعية وتعسف وظلم الملتزمين في جمعها.
- إهمال الحكام تنظيم الري وحفر الترع وإقامة السدود.

٢ الصناعة

بم تفسر: تدهور الصناعة في مصر أثناء الحكم العثماني ؟
كـ بسبب: (١) تدهور الزراعة.
 (٢) إرسال أمهر الصناع والحرفيين المصريين إلى **الآستانة** عاصمة الدولة العثمانية فأصبحت الصناعات في مصر يدوية بسيطة وكانت رديئة.

٣ التجارة

■ التجارة الداخلية:

بم تفسر: كساد التجارة الداخلية في مصر أثناء الحكم العثماني ؟

كـ بسبب: (١) تدهور الزراعة والصناعة.

(٢) افتقاد الأمن.

(٣) إهمال الطرق البرية والإغارات المتلاحقة لبدو الصحراء عليها.

■ التجارة الخارجية:

بم تفسر: تدهور التجارة الخارجية في مصر أثناء الحكم العثماني ؟

كـ بسبب: (١) تحول طريق التجارة بين الشرق والغرب إلى طريق رأس الرجاء الصالح.

(٢) منح الدولة العثمانية الامتيازات الأجنبية للدول الأوروبية.

ثلاثاً الحالة الاجتماعية

* انقسم المجتمع المصري أثناء الحكم العثماني إلى طبقتين هما:

(١) طبقة الحكام: تكونت من الأتراك (العثمانيين) والمماليك.

وكان لها كافة السلطات في شئون الحكم والإدارة والجيش.

(٢) طبقة المحكومين: انقسمت إلى:

• طبقة وسطى (محدودة): تكونت من المشايخ وعلماء الأزهر ورجال الدين وكبار التجار.

• طبقة دنيا (أكثرية): تكونت من الفلاحين - صغار الحرفيين - عامة الناس.

وقد عانت من: الفقر والظلم وتفشى الأمراض والأوبئة.

رابعاً الحياة الفكرية والثقافية

* اتسمت الحياة الفكرية في مصر أثناء الحكم العثماني بالجمود والتخلف بسبب:

العزلة التي فرضها العثمانيون على مصر.

ما النتائج المترتبة على: تدهور الحياة الفكرية والثقافية في مصر أثناء الحكم العثماني ؟

كـ ترتب على ذلك: (١) اهتزاز مكانة الأزهر العلمية لاقتصار التعليم فيه على العلوم الشرعية

وإهمال العلوم العقلية والرياضية والطبيعية.

(٢) تدهور الحياة الأدبية.

(٣) انتشار الجهل والدجل والخرافات والشعوذة.



تطبيق مذكرات جاهزة للطباعة

احصل عليه من
App Store Google Play

حمل التطبيق على موبائلك الأندرويد أو الآيفون

موقع مذكرات جاهزة للطباعة - www.cryp2day.com



أ/ محمد فتحى

اختبار (١)

أكمل:

- (١) قامت الدولة المملوكية في بينما قامت الدولة الصفوية في وعاصمتها
- (٢) تعرض المماليك لأزمة مالية بعد اكتشاف البرتغاليين طريق عام
- (٣) تحولت مصر إلى ولاية عثمانية بعد موقعة عام
- (٤) تكون نظام الحكم في مصر العثمانية من والديوان و..... و.....
- (٥) حاول الاستقلال بمصر عام ١٧٦٨م ولكن عادت مصر عثمانية تحت حكم شيخ البلد
- (٦) طبق العثمانيون في الزراعة حق ونظام
- (٧) هزم السلطان سليم الأول الصفويين في معركة عام
- (٨) بعد استيلاء العثمانيين على أراضي الدولة المملوكية انتقلت العالم الإسلامى للعثمانيين.
- (٩) يحد المحيط الهندي من الغرب قارة
- (١٠) من الدول الجزرية في أمريكا الشمالية
- (١١) تقترب قارة آسيا من قارة أمريكا الشمالية عند مضيق
- (١٢) يحيط بالقارة القطبية الجنوبية المحيط من جميع الجهات.
- (١٣) تتصل قارتي آسيا وأفريقيا عند

بم تفسر:

- (١) اتجاه العثمانيون بغزواتهم نحو الشرق ؟
- (٢) هزيمة المماليك أمام العثمانيين في معركة الريدانية ؟
- (٣) حمل نظام الحكم العثماني لمصر في ثنياه عوامل ضعفه ؟
- (٤) تدهور الصناعة في مصر العثمانية ؟
- (٥) قارة أنتاركتيكا غير مأهولة بالسكان ؟
- (٦) سهولة إنشاء موانئ طبيعية في قارة أوروبا ؟

ما النتائج المترتبة على:

- (١) هزيمة المماليك في معركة الريدانية ؟
- (٢) فشل حركة على بك الكبير الاستقلالية ؟

ضع علامة (✓) أو (×) مع التصويب:

- () (١) انتصر المماليك على الصفويين في موقعة جالديران عام ١٥١٤م.
- () (٢) اقتضرت العلوم في الأزهر في العصر العثماني على العلوم العقلية والرياضية فقط.
- () (٣) تدهورت دولة المماليك اقتصادياً بسبب اكتشاف البرتغاليين طريق رأس الرجاء الصالح ١٤٩٨م.
- () (٤) تحطم الأسطول المملوكي في معركة مرج دابق البحرية ١٥٠٩م.
- () (٥) لجأت الدولة العثمانية إلى تطبيق نظام الاحتكار في الزراعة حينما ضعفت في منتصف القرن ١٧م.
- () (٦) يحد قارة أمريكا الجنوبية من الشمال البحر البلطى.

حدد إلى أى قارة ينتمى كل ما يأتى:

- | | | | |
|-------------------|--------------------|---------------------|-------------------|
| (١) جزيرة كوبا. | (٢) جزيرة مدغشقر. | (٣) جزيرة تسامانيا. | (٤) جزيرة صقلية. |
| (٥) جزر بريطانيا. | (٦) جزر إندونيسيا. | (٧) دولة البرازيل. | (٨) دولة المكسيك. |

اختبار (٢)

ما النتائج المترتبة على :

- (١) وقوع قارة أنتاركتيكا عند القطب الجنوبي ؟
- (٢) اتجاه العثمانيين بغزواتهم ناحية الشرق ؟
- (٣) تدهور الحياة الفكرية والثقافية في مصر أثناء الحكم العثماني ؟

أكتب ما تشير إليه الجمل الآتية:

- (١) معركة وقعت في الشام بين المماليك والعثمانيين وانتهت بانتصار العثمانيين عام ١٥١٦ م. (.....)
- (٢) بحر يفصل قارة أستراليا عن جزر إندونيسيا. (.....)
- (٣) نظام طبقه العثمانيون في الزراعة منتصف القرن ١٧. (.....)
- (٤) بحر يقع داخل اليابس ولا يتصل بأي بحار أخرى أو محيطات. (.....)

بم تفسر:

- (١) سهولة إنشاء موانئ طبيعية في قارة أوروبا ؟
- (٢) تدهور الزراعة في مصر أثناء الحكم العثماني ؟
- (٣) تدهور التجارة الخارجية لمصر أثناء الحكم العثماني ؟

قارن بين:

المقارنة	مرج دابق	الريدانية
الأطراف		
القادة		
النتائج		

صوب ما تحته خط:

- (١) قام العثمانيون بإرسال أمهر الصناع إلى عاصمتهم تبريز.
- (٢) تكونت طبقة الحكام في مصر أثناء الحكم العثماني من مشايخ وعلماء الأزهر.
- (٣) تقع جزيرة تسمانيا جنوب قارة أفريقيا.
- (٤) يمر خط جرينتش في قارة أمريكا الشمالية.

ماذا كان يحدث إذا:

- (١) لم يكتشف البرتغاليين طريق رأس الرجاء الصالح ؟
- (٢) هُزمت القوات العثمانية في معركة مرج دابق ؟
- (٣) نجحت حركة على بك الكبير ؟
- (٤) كان الجو معتدل طوال العام في قارة أنتاركتيكا ؟

أذكر عملاً واحداً لكل من:

- (١) على بك الكبير ؟
- (٢) طومان باي ؟
- (٣) سليم الأول ؟

الحملة الفرنسية (١٧٩٨ - ١٨٠١م)

* عندما بدأت الدولة العثمانية في الضعف بدأ التنافس الاستعماري بين إنجلترا وفرنسا أواخر القرن الـ ١٧ واستمر طوال القرن الـ ١٨ وتعد الحملة الفرنسية جزء من هذا التنافس.

أولاً الحملة الفرنسية على مصر (يوليو ١٧٩٨م)

* بدأ قنصل فرنسا في مصر بإرسال تقارير تفيد بسوء الأوضاع السياسية والداخلية في مصر، ويحث فيها حكومة الثورة الفرنسية على إرسال حملة عسكرية على مصر ومن هنا قررت فرنسا في إرسال حملتها عام ١٧٩٨م بقيادة نابليون بونابرت.

بم تفسر: إرسال الحملة الفرنسية إلى مصر ؟

كـ سبب: (١) تعويض فرنسا عن فقدان مستعمراتها بإنشاء مستعمرة فرنسية تكون قاعدتها مصر.
(٢) قطع الطريق بين إنجلترا ومستعمراتها في الهند.



نابليون بونابرت

إعداد الحملة

قام نابليون بونابرت بإعداد جيش الحملة واصطحب معه:

- مجموعة من العلماء في مختلف العلوم والفنون لدراسة أحوال مصر من جميع النواحي وكيفية استغلال مواردها.
- مطبعتين إحداهما فرنسية والأخرى عربية لطبع المنشورات للأهالي.

خط سير الحملة

* أبحرت الحملة سراً من ميناء طولون بفرنسا ثم أصدر نابليون أوامره بأن تتجه الحملة إلى مصر.



وصول الحملة مصر ودخولها الإسكندرية

• نزلت قوات الحملة الفرنسية مدينة الإسكندرية، فواجههم أهالي الإسكندرية بزعامة حاكمها السيد محمد كريم.

- استولت الحملة الفرنسية على الإسكندرية واعتقلت السيد محمد كريم وتم إعدامه رمياً بالرصاص في سبتمبر ١٧٩٨م.
- واصل الفرنسيين زحفهم إلى القاهرة وفي طريقهم التقوا بقوات المماليك ودارت بينهم معركة شبراخيت ثم معركة إمبابة.



معركة إمبابة	معركة شبراخيت	تاريخها
يوليو ١٧٩٨ م.	يوليو ١٧٩٨ م.	
بالقرب من القاهرة.	في البحيرة.	المكان
المماليك × الفرنسيين	المماليك × الفرنسيين	الأطراف
* هزيمة المماليك وفرار كل من: • مراد بك إلى الصعيد. • إبراهيم بك ومعه الوالي العثماني إلى الشام.	(١) هزيمة المماليك. (٢) فرار المماليك جنوباً للدفاع عن القاهرة ورابطوا عند إمبابة.	النتائج

بم تفسر: هزيمة المماليك أمام الفرنسيين ؟

كـ بسبب: اعتماد المماليك على الفروسية بينما استخدم الفرنسيون المدافع والمعدات الحديثة.

دخول الفرنسيين القاهرة



- دخل نابليون القاهرة في يوليو ١٧٩٨ م بعد أن آمن علماء ومشايخ الأزهر على الأرواح والأموال.
- بعد دخول الفرنسيين القاهرة أرسل نابليون قواته إلى باقي أجزاء مصر للسيطرة عليها وأثناء ذلك حدث أمراً أثر على بقاء الحملة في مصر وهو معركة أبو قير البحرية.

معركة أبو قير البحرية



- | | |
|---------|--|
| تاريخها | أغسطس ١٧٩٨ م. |
| الأطراف | الأسطول الإنجليزي × الأسطول الفرنسي بقيادة (نلسون) |
| النتائج | (١) تحطم وإغراق الأسطول الفرنسي.
(٢) القضاء على آمال فرنسا في السيطرة على البحر المتوسط.
(٣) محاصرة الأسطول الإنجليزي للشواطئ المصرية.
(٤) حرمان الحملة الفرنسية من أمدادات فرنسا لها.
(٥) شعر الجنود الفرنسيون بأنهم محاصرون داخل مصر.
(٦) توقف التجارة الخارجية لمصر. |



www.facebook.com/EL.Sulttan

للإجابة على أي سؤال
تابعنا على صفحتنا

مقاومة الشعب المصري للاحتلال الفرنسي: تمثلت في:



كانت في بداية

وصول الحملة

بزعامه السيد محمد كريم

مقاومة

رفض الشعوب للاحتلال
ومظاهره ودفعه عن البلاد
بمختلف الوسائل.

مقاومة أبناء الصعيد

بم تفسر: فشل الحملة الفرنسية في إخضاع أهالي الصعيد ؟
سبب: اتباع أهالي الصعيد حرب المناوشات والمعارك المتفرقة التي أنهكت
قوة الفرنسيين نظراً لطول الوادي.

* نتج عن مقاومة أبناء الصعيد: تعاظم الشعور الوطني ونمو الوعي القومي تجاه الاحتلال الفرنسي.

ثورة القاهرة الأولى

تاريخها أكتوبر ١٧٩٨ م.

مركزها الجامع الأزهر (كان مقر لقيادة الثورة ضد الاحتلال الفرنسي).

(١) فرض نابليون ضرائب فادحة على المصريين. (للحصول على التمويل بعد قطع الإمدادات من فرنسا عقب تحطم الأسطول الفرنسي)

(٢) قيام الجنود الفرنسيين بالآتي: • تفتيش البيوت بحثاً عن الأموال.

• هدم أبواب الحارات لمطاردة عناصر المقاومة.

• هدم الكثير من المباني والمساجد بحجة تحصين القاهرة.

• ثار الأهالي ضد الفرنسيين واشتدت الثورة وامتدت إلى الأقاليم المجاورة

وقُتل حاكم القاهرة الفرنسي ديوي.

• استخدم الفرنسيون الشدة والعنف لإخماد الثورة.

• دخل الفرنسيون الجامع الأزهر بخيولهم مما أثار الشعور

الديني لدى المصريين.

(١) إعدام الكثير من الأهالي والثوار.

(٢) فرض غرامات مالية على العلماء والتجار.

(٣) قيام القوات الفرنسية بتحصين مدينة القاهرة.



ثانياً الحملة الفرنسية على الشام (مارس ١٧٩٩م)

■ تحالفت الدولة العثمانية مع إنجلترا وروسيا لإخراج الفرنسيين من مصر بالقوة وأعدوا حملتين:

- حملة بحرية: تأتي لمصر من الشمال من البحر المتوسط عن طريق جزيرة رودس.
- حملة برية: تأتي لمصر من الشرق عن طريق الشام.



بم تفسر: الحملة الفرنسية على الشام ١٧٩٩م ؟

كـ بسبب: رغبة نابليون في القضاء على الجيش العثماني (الحملة البرية) في الشام قبل أن يصل إلى مصر.

■ خط سير الحملة:

- استولى نابليون في طريقه على العريش ثم غزة.
- حاصر نابليون يافا حصاراً شديداً وبعد استيلائه عليها أعدم جميع أفراد حاميتها رغم إنه أمتنهم على أرواحهم مرتكباً جريمة بشعة سميت بـ (مذبحة يافا البشرية).

ما النتائج المترتبة على: قيام نابليون بمذبحة يافا البشرية ؟

كـ ترتب على ذلك: استبسال أهالي عكا في الدفاع عن مدينتهم.

- ثم اتجه نابليون إلى عكا وحاصرها ولكنه فشل في دخولها.

بم تفسر: فشل نابليون في اقتحام مدينة عكا ؟

كـ بسبب: (١) مقاومة واستبسال أهالي عكا بقيادة أحمد باشا الجزار.

(٢) مساعدة الأسطول البريطاني وإمداده لعكا بالمؤن والذخائر.

■ نتائج الحملة:

ما النتائج المترتبة على: الحملة الفرنسية على الشام ؟

كـ ترتب على ذلك: (١) فشل الحملة الفرنسية على الشام لعدم دخولها عكا.

(٢) اضطر نابليون للعودة إلى مصر.

★ أثناء عودة نابليون من الشام وصل الأسطول العثماني القادم من جزيرة رودس (الحملة البحرية) إلى أبو قير

ودارت معركة أبو قير البرية.

■ معركة أبو قير البرية

تاريخها يوليو ١٧٩٩م.

الأطراف قوات الحملة الفرنسية × قوات الأسطول العثماني بقيادة (نابليون)

النتائج هزيمة القوات العثمانية.



رحيل نابليون من مصر

* أثناء معركة أبو قير البرية قرر نابليون العودة سرّاً إلى فرنسا بسبب تحالف الدول الأوروبية ضد فرنسا، تاركاً أمر قيادة الحملة لنائبه كليبر.

كليبر قائداً للحملة الفرنسية في مصر



الجنرال كليبر

دليل: تولى كليبر قيادة الحملة والأخطار تهددها من كل جانب ؟

كـ حيث: (١) تناقص عدد جنود الحملة الفرنسية بسبب المعارك الداخلية والخارجية.

(٢) إرسال الدولة العثمانية حملة جديدة إلى العريش ودمياط.

(٣) عودة المماليك للمقاومة.

(٤) تجدد ثورات المصريين في الشرقية وامتدادها لوسط الدلتا وغربها.

* لذلك تفاوض كليبر مع الدولة العثمانية فيما عرف بـ (معاهدة العريش).

معاهدة العريش

التاريخ ١٨٠٠ م.

الأطراف الفرنسيون × العثمانيون

الأسباب إدراك كليبر استحالة بقاء الحملة في مصر في ظل الأخطار التي تهدد وجودها.

الشروط خروج جنود الحملة الفرنسية من مصر إلى فرنسا على نفقة الدولة العثمانية.

فشلت المعاهدة بسبب:

- التائج
- رفض بريطانيا الاتفاق وطلبت استسلام الجيش الفرنسي كأسرى حرب.
 - فرض كليبر وقام بمهاجمة القوات العثمانية بعد أن سمح لها بدخول القاهرة فتقهقرت إلى الشام.

ثورة القاهرة الثانية

تاريخها مارس - أبريل ١٨٠٠ م.

مركزها حي بولاق.

أحداثها قامت الثورة بزعامة السيد عمر مكرم نقيب الأشراف واشتدت الثورة في حي بولاق.

نتائجها (١) قامت القوات الفرنسية بإخماد الثورة وتدمير حي بولاق.

(٢) قام كليبر بفرض المزيد من الضرائب ومصادرة الأموال.





مقتل كليبر

* بعد أن هدأت الأوضاع قام **سليمان الحلبي** وهو أحد طلاب الأزهر في يونيو ١٨٠٠م بقتل كليبر.



مينو

مينو قائداً للحملة الفرنسية في مصر

* بعد مقتل كليبر تولى **مينو** قيادة الحملة الفرنسية.
* كان مينو ينوي البقاء في مصر وتحويلها إلى مستعمرة فرنسية كبرى فقام بوضع خط إصلاحية في مجالات الزراعة والصناعة والتجارة والصحة والنظام القضائي.

جلاء الحملة الفرنسية عن مصر

جلاء

رحيل قوات الاحتلال عن البلد المحتل.

* أرسلت إنجلترا أسطول حربي إلى أبو قير في فبراير ١٨٠١م لإخراج الحملة الفرنسية من مصر، وانضم إليه الجيش العثماني فلم تستطع الحملة الفرنسية المقاومة واستسلمت.
وتم جلاء الحملة الفرنسية عن مصر في سبتمبر ١٨٠١م.

نتائج الحملة الفرنسية

* لم تكن الحملة الفرنسية مجرد حملة عسكرية للغزو والاحتلال حيث اصطحب نابليون معه مجموعة من العلماء في مختلف المجالات لذلك تركت الحملة نتائج بعيدة المدى تمثلت في:

حيث ظهر ذلك بعد خروج الحملة من مصر حيث تمسك المصريون بحقوقهم في الحرية واختيار من يحكمهم.

نمو الروح القومية لدى المصريين

خاصة إنجلترا لأهمية موقع مصر الجغرافي والاستراتيجي.

توجيه أنظار دول أوروبا

حيث قام نابليون بإنشاء (الديوان العام وديوان القاهرة ودواوين الأقاليم) بهدف تدريب العلماء والأعيان على نظام مجالس الشورى من حيث الاستشارة وتلقى الآراء فيما يعود على الأهالي بالنفع في المجالات المختلفة.

تطور نظام الحكم والإدارة

(١) محاولة شق قناة تربط بين البحرين الأحمر والمتوسط.

(٢) تأليف كتاب وصف مصر.

(٣) إنشاء المجمع العلمي المصري.

(٤) اكتشاف حجر رشيد (يوليو ١٧٩٩م)، ترتب على ذلك التعرف على تاريخ مصر القديم.

قام علماء الحملة بعدد من الأعمال مثل:

حيث اهتم الفرنسيون بوضع مشروعات للإصلاح في المجالات الآتية:

- **الزراعة:** تم تنويع المحاصيل الزراعية والاهتمام بمشاريع الري.
- **الصناعة:** تم إنشاء مصانع النسيج وبعض الصناعات الدقيقة والدباغة وصناعة حروف الطباعة.
- **التجارة:** تم فتح أسواق لمصر في بلاد البحر الأحمر ودارفور في السودان والحبشة وبلاد شمال أفريقيا.
- **الصحة العامة:** أنشأ الفرنسيون المحاجر الصحية في القاهرة والعديد من المدن.

آثار اقتصادية واجتماعية

أسئلة

أكمل:

- (١) أبحرت الحملة الفرنسية سرّاً من ميناء في فرنسا بقيادة
- (٢) قاوم أهالي الإسكندرية الاحتلال الفرنسي بقيادة حاكم الاسكندرية.
- (٣) بعد معركة إمبابة فر إلى الصعيد وفر إلى الشام.
- (٤) نجح الأسطول الإنجليزي بقيادة في تخطيط الأسطول في معركة
- (٥) فشل الفرنسيون في إخضاع أهالي الصعيد لأنهم اتبعوا والمعارك
- (٦) كانت ثورة القاهرة الأولى مركزها بينما ثورة القاهرة الثانية مركزها
- (٧) فشلت الحملة الفرنسية على بسبب فشلها في دخول مدينة
- (٨) تولى قيادة الحملة الفرنسية بعد رحيل نابليون وبعد مقتله تولى قيادة الحملة

بم تفسر:

- (١) الحملة الفرنسية على مصر ؟
- (٢) أثرت مذبحة يافا على حامية عكا ؟
- (٣) اصطحب نابليون معه في الحملة مجموعة من العلماء ؟
- (٤) قيام ثورة القاهرة الأولى أكتوبر ١٧٩٨ م ؟
- (٥) الحملة الفرنسية على الشام مارس ١٧٩٩ م ؟

ما المقصود بكل من :

- (١) مقاومة ؟
- (٢) جلاء ؟

إلى من تنسب الأعمال الآتية:

- (١) تصدى للفرنسيين في الإسكندرية حتى ألقى القبض عليه وأعدم ؟
- (٢) قاد الأسطول الإنجليزي في معركة أبي قير البحرية عام ١٧٩٨ م ؟
- (٣) ارتكب مذبحة بشرية ضد أهالي يافا عام ١٧٩٩ م ؟
- (٤) تزعم حركة المقاومة ضد نابليون في عكا ؟
- (٥) تزعم ثورة القاهرة الثانية ضد الفرنسيين عام ١٨٠٠ م ؟

ما النتائج المترتبة على:

- (١) هزيمة المهاليك في معركة إمبابة ؟
- (٢) معركة أبي قير البحرية ١٧٩٨ م ؟



تطبيق مذكرات جاهزة للطباعة



حمل التطبيق على موبايلك الأندرويد أو الأيفون

موقع مذكرات جاهزة للطباعة - www.cryp2day.com



أ/ محمد فلاح

اختبار



أكتب ما تشير إليه الأرقام الآتية:

- (١) المحيط
- (٢) جبال
- (٣) جبال
- (٤) هضبة
- (٥) هضبة
- (٦) نهر
- (٧) نهر
- (٨) نهر

ما النتائج المترتبة على:

- (١) ثورة القاهرة الأولى ؟
- (٢) اكتشاف البرتغاليين طريق رأس الرجاء الصالح ؟
- (٣) انحياز محمد بك أبو الذهب إلى السلطان العثماني ضد علي بك الكبير ؟

ضع علامة (✓) أو (×) مع التصويب:

- () (١) أول معركة التقى فيها الفرنسيون بالمماليك هي معركة إمبابة.
- () (٢) من جبال أفريقيا جبال أطلس وجبال البحر الأحمر وجبل كلمنجارو.
- () (٣) تمتد السلاسل الجبلية بقارة أوروبا باتجاه عام من الشرق إلى الغرب.
- () (٤) اقتضت الصناعة في مصر أثناء الحكم العثماني على الصناعات اليدوية البسيطة.
- () (٥) تمتد سلاسل جبال الإنديز من الشمال حتى الجنوب في غرب قارة أمريكا الشمالية.

اختر الإجابة الصحيحة مما بين الأقواس:

- (١) دخل الفرنسيون القاهرة عقب معركة .
 - (٢) قام بقتل كليبر.
 - (٣) فشلت الحملة الفرنسية في اقتحام مدينة .
 - (٤) قيام نابليون بإنشاء ديوان القاهرة يعتبر من نتائج الحملة.
 - (٥) تقع هضبة في شمال شرق أمريكا الشمالية.
 - (٦) يعد نهر أطول أنهار أوروبا ويصب في بحر قزوين.
- (شبراخيت - أبو قير البحرية - عكا - إمبابة)
- (السيد محمد كريم - سليمان الحلبي - عمر مكرم - محمد أبو الذهب)
- (القاهرة - الإسكندرية - عكا - يافا)
- (القومية - الاستراتيجية - السياسية - العلمية)
- (كلورادو - المكسيك - لبرادور - جيانا)
- (الدانوب - السين - اللوار - الفولجا)

ما المقصود بالمصطلحات الآتية:

- (١) حوض النهر؟
- (٢) دول جزرية؟

أذكر عملاً واحداً لكل من:

- (١) محمد كريم؟
- (٢) نلسون؟
- (٣) كليبر؟
- (٤) السيد عمر مكرم؟

ثورة الشعب المصري وتولية محمد علي

أحوال مصر قبل تولية محمد علي الحكم:

■ شهدت مصر بعد خروج الحملة الفرنسية وحتى تولي محمد علي الحكم فوضى واضطرابات **بسبب:** الصراع بين المماليك والعثمانيين وإنجلترا للسيطرة على مصر.

■ عندما استعادة الدولة العثمانية سيطرتها على البلاد قام الشعب المصري بالعديد من الثورات ضد الولاة العثمانيين وزعماء المماليك أهمها ثورة الشعب المصري في **مارس ١٨٠٤م بسبب:** فرض الضرائب والإتاوات على الأهالي.

■ **موقف محمد علي من الثورة:** خشي محمد علي أن تصيب الثورة جنوده فقام بالآتي:

• أعلن انضمامه إلى العلماء والمشايخ.

• اختلط بالأهالي الساخطين.

• تعهد للعلماء بأن يبذل قصارى جهده لرفع الضريبة عن الناس.

• اقترح تعيين **خورشيد باشا** والياً على مصر وتم تعيينه من قبل السلطان العثماني.

*** وبذلك كسب محمد علي عطف الشعب وثقة زعماء الذين نظروا إليه كرجل عادل يكره الظلم.**



محمد علي

تولية محمد علي حكم مصر

■ في **١٣ مايو ١٨٠٥م** اجتمع زعماء الشعب من علماء ونقباء طوائف بدار المحكمة «بيت القاضي» وقرروا:

• عزل خورشيد باشا والي العثماني وتعيين محمد علي بدلاً منه.

• أخذوا زعماء على محمد علي العهود بأن يسير بالعدل وألا يبرم أمراً إلا بمشورتهم.

■ **موقف السلطان العثماني من قرار زعماء الشعب:**

أصدر السلطان العثماني فرمان في **٩ يوليو ١٨٠٥م** تضمن:

• عزل خورشيد باشا.

• تعيين محمد علي والياً على مصر.

*** بذلك أصبح يوم ١٣ مايو ١٨٠٥م يوم مهم في تاريخ مصر الحديث حيث كانت**

أول مرة يعزل والي ويعين آخر بإرادة الشعب.

فرمان

أمر سلطاني يصدر من
قبل سلطان الدولة
العثمانية واجب التنفيذ.

توطيد/تثبيت سيادة محمد علي في الحكم

*** قبل أن يتفرغ محمد علي لبناء دولة مصر الحديثة كان عليه أولاً أن يطمئن لاستقرار الحكم في يده ويقضي على المشكلات التي اعترضت طريقه في بداية حكمه وهي:**



١ محاولة نقله من مصر فرمان يوليو ١٨٠٦م.

■ لم تقبل بريطانيا بتولية محمد علي حكم مصر حيث:

سعت لتولية محمد بك الألفي (الملوكي) ولاية مصر لتطمئن على مصالحها الإقتصادية في المنطقة، وحاولت إقناع السلطان العثماني بعزل محمد علي وتعيين محمد بك الألفي بدلاً منه أو أى والى عثماني آخر.

■ موقف السلطان العثماني:

استجاب السلطان لبريطانيا وأرسل أسطولاً يحمل فرماناً تضمن:

- نقل محمد علي والياً على سالونيك في مقدونيا.
- تسليم السلطة دون معارضة أو مقاومة إلى والى عثماني جاء مع الأسطول العثماني في يوليو ١٨٠٦م.

■ موقف الزعامة الشعبية:

وقفت الزعامة الشعبية بجانب محمد علي فتراجع السلطان وتخلي عن فكرة نقل محمد علي من ولاية مصر وقام بتثيته عليها.

٢ حملة فريزر (الحملة الإنجليزية) مارس ١٨٠٧م.

■ انتهزت بريطانيا فرصة تدهور الأوضاع بينها وبين السلطان العثماني وأرسلت

حملة عسكرية على مصر بقيادة فريزر في مارس ١٨٠٧م.

■ أهداف حملة فريزر:

- احتلال مصر.
- خلع محمد علي من الحكم.
- تولية محمد بك الألفي (الملوكي) حكم مصر.

■ نتائج حملة فريزر:

- (١) هزيمة حملة فريزر في رشيد والحماد.
- (٢) جلاء الحملة من مصر مقابل الإفراج عن الأسرى.
- (٣) دخل محمد علي الإسكندرية منتصراً.



السيد عمر مكرم

٣ الزعامة الشعبية

■ أراد محمد علي أن ينفرد بالحكم دون وصاية أو رقابة شعبية ويتخلص من الزعامة الشعبية الممثلة في السيد عمر مكرم بعد أن أدرك دورها في توليته الحكم والقيود التي فرضتها عليه عند قبوله الولاية.

■ ترقب محمد علي الوقت المناسب للتخلص من عمر مكرم مستغلاً انقسام القيادات الشعبية فيما بينها حول مكانة عمر مكرم بين الناس، فأخذ منافسوه يدسون له عند محمد علي فقام بالآتي:

- خلع عمر مكرم من نقابة الأشراف.
- إبعاد عمر مكرم «نفيه» إلى دمياط عام ١٨٠٩م.

٤ المماليك



مذبحة القلعة

- حرص محمد على منذ بداية حكمه على التخلص من المماليك لأنه كان يرى أنهم مصدر للقلق والفوضى.
- اتخذ محمد على عدة إجراءات للتخلص من المماليك وهي:
 - حرمانهم من تولي المناصب الرفيعة في الدولة مثل مشيخة البلد.
 - مطاردة المماليك في كل مكان.
 - قام بتدبير مذبحة القلعة في مارس ١٨١١م.

بذلك تمكن محمد على من الإنفراد بحكم مصر ليتفرغ ببناء مصر الحديثة.

أسئلة

أكمل:

- (١) بعد خروج الحملة الفرنسية من مصر تصارعت ثلاث قوى على حكم مصر هم المماليك و..... و.....
- (٢) اقترح محمد على تعيين والياً على مصر.
- (٣) أصدر السلطان العثماني فرمان يوليو ١٨٠٦م بنقل محمد على والياً على ولاية باليونان.
- (٤) كانت تسعى بريطانيا لتولية حليفها والياً على مصر.
- (٥) قام محمد على بعزل من نقابة الأشراف ونفيه إلى
- (٦) تخلص محمد على نهائياً من المماليك بتدبير مارس عام

بم تفسر:

- (١) نفى محمد على عمر مكرم إلى دمياط؟
- (٢) نجاح محمد على في كسب ثقة زعماء الشعب؟
- (٣) حملة فريزر على مصر مارس ١٨٠٧م؟
- (٤) ثورة الشعب المصري في مارس ١٨٠٤م؟

ما النتائج المترتبة على:

- (١) مذبحة القلعة مارس ١٨١١م؟
- (٢) حملة فريزر مارس ١٨٠٧م؟

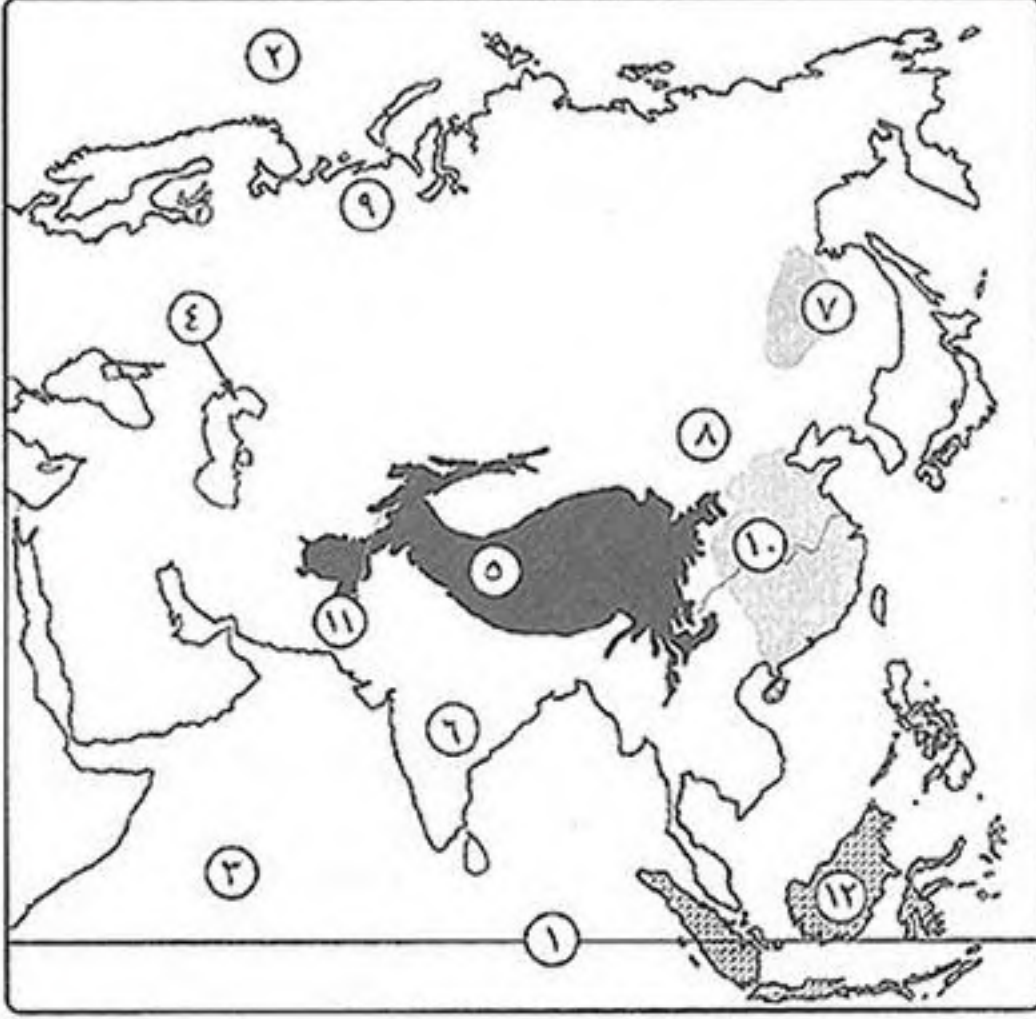
ضع علامة (✓) أو (×) مع التصويب:

- () (١) انضم محمد على هو وجنوده لثورة العلماء والشعب ضد الوالى العثماني.
- () (٢) تخلص محمد على من المماليك بنفيهم خارج البلاد.
- () (٣) لم ترضى بريطانيا بوجود محمد على في حكم مصر فأرسلت حملة نابليون على مصر.
- () (٤) أصدر السلطان العثماني فرمان يوليو ١٨٠٦م ليعزل محمد على من سالونيك ويثبته في حكم مصر.

أيد بالأدلة:

- (١) لعبت الزعامة الشعبية دوراً في تولية محمد على حكم مصر؟
- (٢) لم ترضى بريطانيا بتولية محمد على حكم مصر؟

اختبار



أكتب ما تشير إليه الأرقام الآتية:

- (١) دائرة (٧) سهل
 (٢) المحيط (٨) سهل
 (٣) المحيط (٩) سهول
 (٤) بحر (١٠) نهر
 (٥) جبال (١١) نهر
 (٦) هضبة (١٢) إقليم مناخر

ضع علامة (✓) أو (×) مع التصويب:

- () (١) تعرضت دولة المماليك لأزمات اقتصادية أواخر القرن ١٥ الميلادي.
 () (٢) انقسم المجتمع المصري أثناء الحكم العثماني إلى طبقتين حكام ومحكومين.
 () (٣) رحل الفرنسيون عن مصر في عهد كليبر.
 () (٤) يصب نهر المسيسيبي في البحر الكاريبي.
 () (٥) توجد جبال الحاجز الكبير شرق قارة أستراليا.
 () (٦) أصدر السلطان العثماني فرمان بعزل خورشيد وتعيين محمد على والي على مصر عام ١٨٠٥ م.

بم تفسر:

- (١) اتجاه العثمانيون بغزواتهم ناحية الشرق؟
 (٢) تدهور الزراعة في مصر أثناء الحكم العثماني؟
 (٣) قيام ثورة القاهرة الأولى أكتوبر ١٧٩٨ م؟
 (٤) تعرف هضبة التبت بسقف العالم؟
 (٥) أهمية هضبة الحبشة والبحيرات الاستوائية؟

أذكر مصبات الأنهار الآتية:

- (١) نهر اليانغتسى: (٢) نهر ليننا:
 (٣) نهر الفولجا: (٤) نهر المسيسيبي:
 (٥) نهر الأمازون: (٦) نهر النيجر:

اختر الإجابة الصحيحة مما بين الأقواس:

- (١) يوجد في قارة آسيا أكبر بحر مغلق في العالم هو
 (٢) جميع الهضاب الآتية تقع في قارة آسيا ما عدا هضبة
 (٣) تمتد سلاسل جبال في شرق أمريكا الشمالية.
 (٤) انتصر العثمانيون على الصفويين في معركة
 (٥) كان الفلاحين ينتمون للطبقة في عهد العثمانيين.
 (٦) رحل نابليون إلى فرنسا عقب معركة
 (بحر أرافورا - بحر اليابان - بحر قزوين - البحر الأسود)
 (التبت - شبه الجزيرة العربية - الميزيتا - الدكن)
 (روكي - الأبلاش - البرانس - الهيمالايا)
 (الريدانية - مرج دابق - جالديران - ديو)
 (الوسطى - الدنيا - الحاكمة - الأرستقراطية)
 (شبراخيت - أبوقير البحرية - إمبابة - أبوقير البحرية)

قارن بين:

- (١) السهول الساحلية في قارتى (آسيا - أفريقيا)؟
 (٢) معركتى مرج دابق والريدانية من حيث: (الأطراف - المكان - النتائج)؟

محمد على وبناء مصر الحديثة



محمد على باشا

* بعدما انفرد محمد على بحكم مصر أراد بناء دولة قوية تأخذ بأساليب المدنية الحديثة، فقام بإصلاحات شملت جميع نواحي الحياة خاصة القوة العسكرية.

السياسة الداخلية

مظاهر بناء الدولة الحديثة في عهد محمد على

أولاً البناء الاقتصادي

الاحتكار

نظام تقوم فيه الحكومة ممثلة في محمد على بتحديد:

- نوع الغلات التي تزرع.
- نوع الصناعات التي تنتج.
- تحديد ثمن بيع وشراء المنتجات في السوق.

* نظم محمد على مجالات الاقتصاد المصري (الزراعة - الصناعة - التجارة) على أساس الاحتكار.

بم تفسر: اعتماد (محمد على) على نظام الاحتكار؟
لكي: يضمن الدخول والمنافسة في سوق التجارة الدولية.

١ الزراعة

قام محمد على بنهضة زراعية حيث قام بالآتي:

- (١) إلغاء نظام الالتزام وتوزيع مساحات من الأراضي على الفلاحين.
- (٢) اتباع سياسة زراعية تهدف إلى توفير أكبر قدر من الإنتاج الزراعي وهي:
 - إنشاء مدرسة للزراعة واستقدم الخبراء الزراعيين من الخارج.
 - تزويد الفلاحين بكل ما يلزم الزراعة.
 - تحسين طرق الري وإنشاء العديد من القناطر على النيل وأهمها القناطر الخيرية.
 - إدخال أساليب زراعية حديثة وغللات زراعية جديدة.



القناطر الخيرية

* طبق محمد على نظام الاحتكار في الزراعة حيث:

قام بتحديد نوع الغلات التي تزرع وحدد ثمن بيعها وشرائها في السوق.

٢ الصناعة

قام محمد على بتطوير الصناعة عن طريق القيام بالآتي:

- (١) إقامة مصانع حكومية مثل مصانع: سكر - الورق - الغزل ونسيج.
- (٢) جمع الصبية للعمل في المصانع بأجور رمزية فأصبحت بمثابة مدارس صناعية.
- (٣) الاستعانة بالخبرات الأجنبية وإرسال البعثات للخارج وترجمة الكتب الخاصة بمختلف الصناعات.

* طبق محمد على نظام الاحتكار في الصناعة حيث قام:

- باتباع سياسة تهدف إلى السيطرة على الإنتاج الصناعي وتوزيعه من خلال:
- إمداد الصناع بالمواد الخام اللازمة للصناعة.
- شراء المنتجات الصناعية.

٣ التجارة

* نشطت التجارة الداخلية والخارجية بسبب: ازدهار الزراعة والصناعة.

* طبق محمد على نظام الاحتكار في التجارة حيث قام:

- تسويق جميع الحاصلات الزراعية والمنتجات الصناعية بعد شرائها وجمعها في مخازن الدولة.
- البيع للتجار الأجانب في مصر.
- البيع في الخارج لحساب الحكومة المصرية.
- احتكار تجارة الواردات.

٤ النقل والمواصلات

* اهتم محمد على بالنقل والمواصلات حيث قام بالآتي:

- تمهيد وتأمين الطرق البرية والبحرية.
- بناء أسطولين في البحرين الأحمر والمتوسط.
- تطهير البحر الأحمر من القرصنة.
- حفر الترعة والاهتمام بالموانئ المصرية.



ثانياً البناء الاجتماعي

دلل: كان لسياسة محمد على الاقتصادية أثر في تشكيل القوى الاجتماعية في مصر؟

ج: تدهورت واختفت طبقات اجتماعية وظهرت طبقات اجتماعية أخرى:

- انتهى نفوذ المماليك كطبقة حاكمة وحل محلها أسرة محمد على وبعض العناصر التركية.
- تضائل نفوذ علماء الأزهر والقيادات الشعبية وتدهورت طبقة التجار.
- ظهرت طبقة الأعيان وطبقة عمال الصناعة مع استمرار طوائف الحرف كوسطاء للحكومة.
- ظهر البدو كقوة اجتماعية مستقرة.

ثالثاً التعليم والثقافة

بم تفسر: اهتمام محمد على بالتعليم والثقافة؟

ج: بسبب حاجته إلى: • موظفين لسد حاجة المصالح الحكومية.

• فنيين ومتخصصين في مختلف الفروع لسد حاجة الجيش والأسطول.

* لذلك قام محمد على بالآتي:

١ إنشاء المدارس الحديثة مثل:

الطب - الصيدلة - الزراعة - المهندسخانة ... وغيرها.



تطبيق مذكرات جاهزة للطباعة

احصل عليه من
App Store Google Play

حمل التطبيق على موبايلك الأندرويد أو الآيفون

موقع مذكرات جاهزة للطباعة - www.cryp2day.com



أ / محمد فتحي

~٦٠~

01200028345



علي باشا مبارك



رفاعة رافع الطهطاوى

٢ إرسال البعثات العلمية إلى أوروبا:

* كان من أبرز أعضاء هذه البعثات: **رفاعة رافع الطهطاوى** - **علي باشا مبارك**. وأسهموا في استمرار النهضة التعليمية بعد عودتهما من أوروبا.

٣ الاستعانة ببعض الأساتذة الأجانب:

* **بهدف:** (١) التدريس في المدارس العليا.
(٢) المساهمة في الترجمة.

٤ إنشاء المطبعة الأميرية في بولاق:

* **بهدف:** (١) طبع الكتب اللازمة للمدارس.
(٢) طبع الكتب الأدبية والفنية.
(٣) إصدار صحيفة الوقائع المصرية.

رابعاً بناء القوة العسكرية

* أدرك محمد على إن نجاحه في بناء دولة حديثة يتوقف على بناء قوة عسكرية فكانت مشروعاته العمرانية والتعليمية بهدف سد حاجة الجيش، لذلك اهتم محمد على ببناء قوة عسكرية ذاتية نظامية على الطراز الأوروبي الحديث بدلاً من الفرق العسكرية غير النظامية **وذلك عن طريق:**

١ إعداد الضباط



الكولونيل سيف

• أنشأ المدارس العسكرية مثل: المدرسة العسكرية في أسوان.
• استقدام ضباط ومعلمين ذوي خبرة من أوروبا للمدارس العسكرية التي أنشأها
ومن أشهرهم **الكولونيل سيف** (أحد ضباط جيش نابليون).

٢ إعداد الجنود

* **في البداية** قام بتجنيد **السودانيين** ثم اتجه بعد ذلك لتجنيد **المصريين** الذين أثبتوا كفاءة في:
(١) الانتظام في التدريب. (٢) إطاعة الأوامر العسكرية. (٣) ميادين القتال الخارجية.

٣ إنشاء الأسطول

• أسس ترسانة بحرية لصناعة السفن في **بولاق** ثم في **إسكندرية** وزودها بكافة أنواع الأسلحة.
• أعد أماكن لتدريب وتعليم البحارة والجنود.

٤ إنشاء مصانع الأسلحة والذخيرة وتشديد القلاع

• اهتم محمد على بالتصنيع الحربي فأنشأ ترسانة لتصنيع الأسلحة في القلعة.
• أنشأ القلاع في **الإسكندرية** و**رشيد** و**دمياط** للدفاع عن البلاد.

خامساً البناء السياسي

* عندما تولى محمد على الحكم قام بإعادة تنظيم الإدارة حتى تكفل له السيطرة الكاملة على شئون البلاد وذلك عن طريق:

- (١) تقسيم مصر إدارياً إلى سبع مديريات وعلى رأس هذا النظام الإدارى الحكومة المركزية فى القاهرة التى تصدر منها جميع الأوامر واجبة التنفيذ.
- (٢) إنشاء عدة مجالس ودواوين مثل: • مجلس المشورة. • الديوان العالى.
- (٣) إصدار لائحة جديدة عام ١٨٣٧ م لإعادة تنظيم الإدارة إلى سبعة دواوين (وزارات) وحدد اختصاصاتها.

سياسة محمد على الخارجية

* سعى محمد على إلى الانفصال عن الدولة العثمانية والاستقلال بمصر، وخلال ذلك مرت العلاقة بينه وبين السلطان العثمانى بمرحلتين هما:

- مرحلة الاتفاق: تمثلت فى حروب الجزيرة العربية واليونان التى كانت بناء على طلب السلطان العثمانى.
- مرحلة الاختلاف: تمثلت فى حروب السودان والشام التى تمت بإرادة محمد على.

* الحروب التى قام بها محمد على:

١ حروب الجزيرة العربية ١٨١١م: ١٨١٩م بأوامر من السلطان العثمانى

* تعرف باسم الحروب الوهابية.

- أسبابها: القضاء على الحركة الوهابية التى تهدد نفوذ الدولة العثمانية فى الجزيرة العربية.
- نتائجها: سيطرة «محمد على» على الجزيرة العربية.



٢ ضم السودان ١٨٢٠م: ١٨٢٢م بإرادة محمد على

- أسبابها: رغبة محمد على فى تحقيق مكاسب سياسية واقتصادية وعسكرية.
- نتائجها: (١) امتداد النفوذ المصرى إلى جنوب السودان.
- (٢) إنشاء مدينة الخرطوم «عاصمة السودان».
- (٣) اكتشاف منابع النيل.

٣ حروب اليونان ١٨٢٢م: ١٨٢٨م بأوامر من السلطان العثمانى

- أسبابها: القضاء على ثوار اليونان فى المورة الذين طالبوا بالاستقلال عن الدولة العثمانية.
- نتائجها: (١) ضم جزيرة كريت لولاية مصر.

(٢) هزيمة الجيش وتحطيم الأسطول المصرى فى معركة نفاارين ١٨٢٧م.

(٣) علو مكانة مصر دولياً نتيجة تفاوض الدول الأوروبية مع محمد على مباشرة لإنهاء الحرب

دون الرجوع للسلطان العثمانى ترتب على ذلك: • توتر العلاقة بين محمد على والسلطان العثمانى.

• نمو فكرة الانفصال عن الدولة العثمانية وتحقيق استقلال مصر.

٤ حروب الشام ١٨٣١م : ١٨٣٩م بإرادة محمد علي

- * واجه محمد علي الدولة العثمانية في حروب الشام الأولى والثانية.
- أسبابها: (١) توتر العلاقة بين السلطان العثماني ومحمد علي بعد تفاوضه مع الدول الأوروبية لتأمين انسحاب الجيش المصري من المورة.
- (٢) تصميم «محمد علي» على الانفصال عن الدولة العثمانية والاستقلال بمصر.
- نتائجها: (١) وصول القوات المصرية إلى الشام وأعلى الفرات.
- (٢) امتداد النفوذ المصري في بلاد الشام.

التدخل الأوروبي ضد محمد علي

- * دخلت الدول الأوروبية في مفاوضات مع السلطان العثماني لفرض ما تراه من شروط على «محمد علي» انتهت بعقد معاهدة لندن الدولية ١٨٤٠م.
- أسبابها: إدراك الدول الأوروبية أن محمد علي أصبح يمثل خطراً على التوازن الدولي نتيجة انتصاراته وازدياد نفوذه.
- نتائجها: (١) إعادة بلاد الشام والجزيرة العربية إلى السلطان العثماني.
- (٢) تثبيت محمد علي في حكم مصر.
- (٣) إعلان خضوع محمد علي للسلطان العثماني.
- موقف محمد علي من معاهدة لندن: اضطر إلى القبول بشروط المعاهدة.

فرمانه ١٨٤١م

- * أصدر السلطان العثماني فرمانين عام ١٨٤١م هما:
- الأول: في شهر يونيو نص على «حق وراثه حكم مصر لأكبر أبناء محمد علي سناً من الذكور».
- الثاني: نص على «ولاية (محمد علي) على السودان».

أسئلة

أكمل:

- (١) اعتمد محمد علي في الاقتصاد على نظام
- (٢) قام محمد علي بالنهوض بالزراعة فقام بإلغاء نظام وأنشأ على نهر النيل وأهمها
- (٣) اختفت طبقة كطبقة حاكمة في عهد محمد علي وتضاءل نفوذ
- (٤) من أشهر أعضاء البعثات التعليمية التي أرسلها محمد علي و
- (٥) أنشأ محمد علي المطبعة الأميرية في وأصدر صحيفة
- (٦) استعان محمد علي بخبراء أجانب في المجال العسكري وأشهرهم الذي كان ضابطاً في جيش
- (٧) في البداية جند محمد علي ثم قام بتجنيد لكفاءتهم.
- (٨) قسم محمد علي مصر إدارياً إلى مديريات وعلى رأس النظام الإداري في القاهرة.
- (٩) من الحروب التي خاضها محمد علي بناء على طلب السلطان حروب وحروب

بم تفسر:

- (١) ازدهار الصناعة في عهد محمد على ؟
- (٢) اهتمام محمد على بالتعليم والثقافة ؟
- (٣) عقد معاهدة لندن ١٨٤٠ م ؟
- (٤) قيام محمد على بحروب الجزيرة العربية واليونان ؟
- (٥) تدهور العلاقة بين السلطان العثماني ومحمد على بعد حروب اليونان ؟
- (٦) استعانة محمد على ببعض الأساتذة الأجانب في مجال التعليم ؟

أختر الإجابة الصحيحة:

- (١) قام محمد على بتطهير البحر الأحمر من:
 - (٢) ظهرت طبقة كقوة اجتماعية في عهد محمد على.
 - (٣) من أشهر المدرسين الأجانب الذين استقدمهم محمد على:
 - (٤) أنشأ محمد على مدرسة عسكرية في لتدريب أبناء المماليك.
 - (٥) أنشأ محمد على ليعاونه في إدارة شئون البلاد.
 - (٦) من نتائج حروب اليونان ضم محمد على جزيرة.
 - (٧) تم تثبيت محمد على في حكم مصر وفقاً ل:
- (السفن - الفرنسيين - القرصنة - الإنجليز)
- (التجار - علماء الأزهر - البدو - المماليك)
- (الكولونيل سيف - رفاة الطهطاوى - كلوت بك)
- (بولاق - الإسكندرية - أسوان - القاهرة)
- (مديريات - الديوان العالي - مدارس - أقسام)
- (مالطة - قبرص - كريت - رودس)
- (فرمان يونيو ١٨٤١ - معاهدة لندن - اللائحة الجديدة)

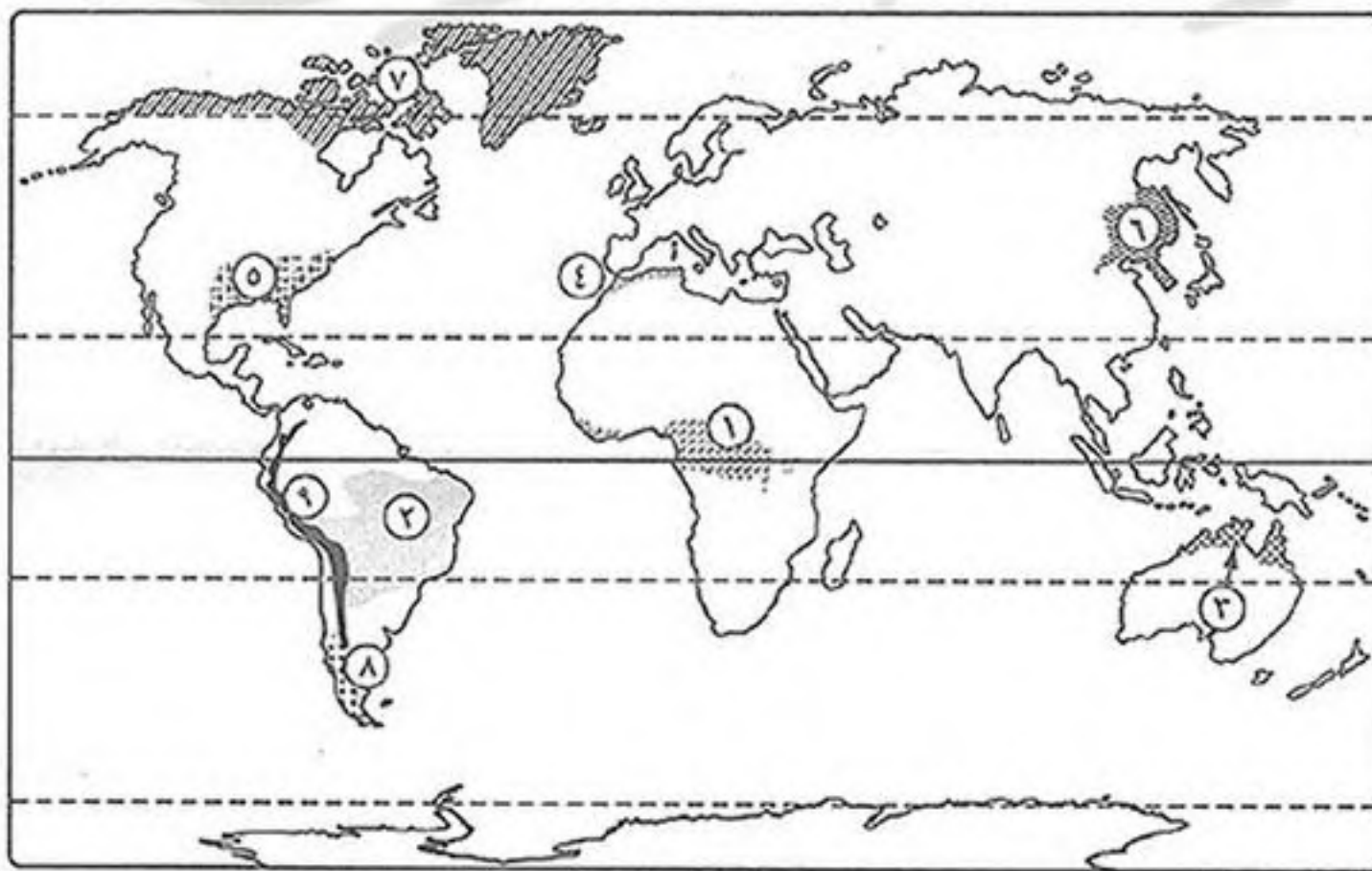
ما النتائج المترتبة على:

- (١) سياسة محمد على الاقتصادية من الناحية الاجتماعية ؟
- (٢) حروب محمد على في السودان ؟
- (٣) تفاوض الدول الأوروبية مع محمد على مباشرة في حرب اليونان ؟

دل:

- (١) ازدهار النقل والمواصلات في عهد محمد على ؟
- (٢) طبق محمد على نظام الاحتكار في التجارة ؟

أكتب ما تشير إليه الأرقام الآتية:



- (١) إقليم مناخ
- (٢) إقليم مناخ
- (٣) إقليم مناخ
- (٤) إقليم مناخ
- (٥) إقليم مناخ
- (٦) إقليم مناخ
- (٧) إقليم مناخ
- (٨) إقليم مناخ
- (٩) إقليم مناخ

أذكر موسم سقوط الأمطار في كل من:

- (١) الإقليم الصيني:
- (٢) إقليم البحر المتوسط:
- (٣) إقليم غرب أوروبا:
- (٤) الإقليم الاستوائي:

ما المقصود بكل من:

- (١) مقاومة ؟
- (٢) نظام الاحتكار ؟

خلفاء محمد علي وازدياد النفوذ الأجنبي

دليل: لم يكن خلفاء (محمد علي) على شاكلته من حيث القوة والوعى ؟

- كـ حيث:** (١) لم يشبوا كفاءتهم في حكم البلاد.
 (٢) تأرجحوا بين الميل لكل من فرنسا وبريطانيا والدولة العثمانية وكان ذلك على حساب مصر واستقلالها.
 (٣) دهمتهم الموجة الغربية ولم يمتلك أى منهم القدرة على مواجهتها فانفلت من أيديهم زمام الأمور.

*** أحوال مصر أثناء حكم بعض خلفاء محمد علي باشا:**

عهد عباس باشا الأول ١٨٤٨م : ١٨٥٤م

*** تولى عباس باشا الأول حكم مصر في نوفمبر عام ١٨٤٨م.**

أولاً مميزات عهد عباس باشا الأول



عباس باشا الأول

- أصلح الطريق البرى بين القاهرة والسويس.
- بدأ في إنشاء أول خط حديدى بين القاهرة والإسكندرية عام ١٨٥٢م.

ثانياً مساوئ عهد عباس باشا الأول

■ توقفت النهضة التى كانت في عصر محمد علي حيث:

- أغلقت معظم المدارس.
- أغلقت معظم المصانع التى أنشأها محمد علي.
- تم تخفيض حجم الجيش عطلت أعمال الترسانة البحرية.

عهد سعيد باشا ١٨٥٤م : ١٨٦٣م

*** تولى محمد سعيد باشا حكم مصر عقب وفاة عباس باشا الأول عام ١٨٥٤م.**



سعيد باشا

شهدت البلاد في عهده تقدماً في بعض المجالات مثل:

أولاً مميزات عهد سعيد باشا

١ الزراعة

- اهتم بتطهير ترعة المحمودية لتفنى بحاجة الري والزراعة.
- اهتم بإصلاح أحوال الفلاحين وأصدر «**اللائحة السعيدية**» أغسطس ١٨٥٨م وبموجبها أصبح للفلاح الحق في توريث الأرض الزراعية.

٢ النقل والمواصلات والاتصالات

- أتم الخط الحديدي بين القاهرة والإسكندرية (الذي بدأه عباس الأول).
- أنشأ خط حديدي بين القاهرة والسويس.
- مد الخطوط التلغرافية على الطريقة الحديثة بين (الإسكندرية والقاهرة والسويس).

٣ الجيش والبحرية

- جعل مدة الخدمة العسكرية سنة واحدة إجبارية للجميع.
- فتح باب الترقى أمام الضباط المصريين.
- اعتنى بالترسانة البحرية وبدأ في إصلاح السفن وتجديد الأسطول.

شهدت البلاد في عهده بعض المساوئ وظهر ذلك في:

ثانياً مساوئ عهد سعيد باشا

١ التعليم

- ألغى ديوان المدارس (وزارة التربية والتعليم حالياً) وفي نفس الوقت شجع البعثات الأجنبية في مصر على فتح مدارس لها بالقاهرة والإسكندرية.

٢ التدخل الأجنبي

- ١ القروض الأجنبية.
 - ٢ امتياز قناة السويس.
- * شهد عهد سعيد باشا بدايات التدخل الأجنبي في مصر عن طريق:

١ القروض الأجنبية

- اعتمد سعيد باشا على رءوس الأموال الأجنبية فاستدان من البنوك الأوروبية وعقد أول قرض في عام ١٨٦٢ م من أحد البنوك البريطانية.
- اندفع سعيد باشا في الاستدانة ولجأ للمرايين يستدين منهم مقابل سندات على حساب الخزانة المصرية.

٢ امتياز قناة السويس

* منح سعيد باشا فرديناند دليسبس عقدين لامتياز قناة السويس:

الامتياز الأول (نوفمبر ١٨٥٤م)

- يقضى بمنحه امتياز تأسيس شركة عامة لحفر قناة السويس واستثمارها لمدة ٩٩ عام ابتداءً من تاريخ فتح القناة للملاحة.



فرديناند دليسبس

معظم شروط الامتياز الثاني
لحفر قناة السويس
كانت مجحفة لمصر
والمصريين.
(أى ظالمة وأضاعت حقوقهم)

الامتياز الثاني (يناير ١٨٥٦م) أهم شروطه:

(١) تمنح الحكومة المصرية الشركة الحق في:

- إنشاء قناة السويس.
- حفر ترعة مياه للملاحة النيلية (سميت بترعة الإسماعيلية بعد ذلك).
- إنشاء فرعين للرى والشرب يستمدان مياههما من ترعة الإسماعيلية.
- تفرض الشركة ما تشاء من رسوم على السفن التى تمر فى القناة المالحة أو الترعة العذبة.

(٢) تتنازل الحكومة المصرية للشركة مجاناً عن جميع الأراضى المملوكة لها والمطلوبة

لإنشاء القناة المالحة وترعة المياه العذبة.

(٣) يكون أربعة أخماس العمال من المصريين (أى ٨٠٪).

(٤) تحصل مصر على ١٥٪ من صافى الأرباح مقابل الأراضى والامتيازات الممنوحة للشركة.

(٥) يصدق السلطان العثمانى على امتياز حفر قناة السويس شرطاً لصحته.

عهد الخديو إسماعيل ١٨٦٣م : ١٨٧٩م



الخديو إسماعيل

* تعتبر فترة حكم الخديو إسماعيل:

- أزهى الفترات وأكثرها تقدماً وعمراناً فى تاريخ مصر الحديث.
- أخطر الفترات التى تعرضت لها مصر بسبب الأخطاء التى سهلت للدول الأجنبية التدخل فى شئون مصر بعد أن تدهورت مالياً وانهار استقلالها السياسى.

أولاً مميزات عهد الخديو إسماعيل

١ الزراعة

- زادت مساحة الأراضى الزراعية.
- تم حفر العديد من الترعى وأهمها ترعة الإبراهيمية.
- أنشئت العديد من القناطر على النيل.

٢ الصناعة

- أعاد نشاط الكثير من المصانع وتوسع فى إنشاء مصانع السكر فى الوجه القبلى.

٣ التعليم والنهضة العلمية

- أعاد فتح ديوان المدارس.
- توسع فى إنشاء المدارس المختلفة.
- أنشأ دار الرصد بالعباسية ودار الكتب ومصلحة الإحصاء والمساحة والجمعية الجغرافية عام ١٨٧٥م.





تطبيق مذكرات جاهزة للطباعة

تحميل من

App Store

تحميل من

Google Play

حمل التطبيق على موبايلك الأندرويد أو الأيفون

موقع مذكرات جاهزة للطباعة - www.cryp2day.com

٤ الجيش والبحرية

- اهتم بتنظيم الجيش وتسليحه ومضاعفة قوته.
- اهتم بنهضة التعليم البحري.

٥ العمران

- * شهد عهد الخديو إسماعيل نهضة عمرانية كبيرة حيث:
- اهتم بإنشاء القصور مثل قصر عابدين.
- أنشأ دار الأوبرا.
- أقام الجسور والكبارى.

٦ وسائل الاتصال

- مد خطوط التلغراف بين مختلف محافظات مصر.
- أنشأ مصلحة بريد مصرية لها مكاتب في القاهرة والإسكندرية والأقاليم.

٧ الإصلاح النيابي

- * شهد عهد الخديو إسماعيل العديد من التطورات الدستورية حيث:
- أنشأ هيئات شبه نيابية مثل مجلس شورى النواب عام ١٨٦٦ م والذي يُعد بداية تاريخ المؤسسات النيابية في مصر الحديثة.
- أنشأ نظام الوزارة المسؤولة عام ١٨٧٨ م.
- وضع أول دستور لمصر عُرف باسم (اللائحة الأساسية) بهدف إقامة حياة دستورية سليمة.
- أنشأ نظام الوزارة المسؤولة عام ١٨٧٨ م.
- لكن أعاق تدخل الدول الأوروبية التطورات الدستورية في مصر.

٨ التوسع الخارجى

- * وجه الخديو إسماعيل عدة حملات حربية إلى الأقاليم الاستوائية في أفريقيا بهدف:
- منع تجارة الرقيق.
- التوسع في الجنوب و السيطرة على مياه نهر النيل.
- * ترتب على ذلك: مد النفوذ المصرى إلى ساحل البحر الأحمر بكامله عام ١٨٧٥ م.



www.facebook.com/EL.Sulttan

للإجابة على أى سؤال
تابعنا على صفحتنا



أدت سياسة الخديو إسماعيل إلى زيادة الأزمة

ثانياً مساومة عهد الخديو إسماعيل**أسباب وعوامل زيادة الأزمة المالية والتدخل الأجنبي في عهد الخديو إسماعيل****١ سياسة الاقتراض**

• اتبع الخديو إسماعيل سياسة الاقتراض من الدول الأجنبية للوفاء بالتزاماته ومشروعاته.

٢ افتتاح قناة السويس

• أقام الخديو إسماعيل العديد من الحفلات لافتتاح قناة السويس في ١٧ نوفمبر ١٨٦٩م ودعا إليها ملوك أوروبا وأنفق ببذخ على هذه الاحتفالات.



حفلة افتتاح قناة السويس

٣ علاقة الخديو إسماعيل بالدولة العثمانية

* اعتمد الخديو إسماعيل في علاقته بالسلطان العثماني على تقديم المال والهدايا:
من أجل الحصول على الفرمانات التي يوسع بها نطاق حكمه ومنها:
 • جعل وراثته العرش في أكبر أبنائه.
 • زيادة عدد الجيش المصري.

٤ الامتيازات الأجنبية

* منحت الدولة العثمانية رعايا بعض الدول الأوروبية العديد من الامتيازات (تسهيلات)، تشجيعاً لهم على الإقامة والتجارة، وتعهدت لهم بالمحافظة على أرواحهم وأموالهم وإعطائهم حق الرجوع لقناصلهم في شئونهم الشخصية والتجارية.

مظاهر ازدياد التدخل الأجنبي في شئون مصر**١ المحاكم القنصلية**

* ظهرت بعد أن زاد نفوذ القناصل الأجانب في مصر بمرور الوقت.
 • **اختصاصها:** النظر في الجرائم التي يرتكبها الرعايا الأجانب ضد المصريين وضد الحكومة المصرية.
 • **مساوئها:** أحكامها لا تستأنف إلا في الخارج مما كان يدفع المصريين للتنازل عن حقوقهم.

٢ المحاكم المختلطة

• **إنشائها:** أنشأها الخديو إسماعيل عام ١٨٧٥م للحد من مساوئ المحاكم القنصلية.
 • **قضاةها:** أجانب ومصريين.
 • **اختصاصها:** - الفصل في القضايا المدنية والمنازعات العقارية بين المصريين والأجانب.
 - الفصل في المنازعات التي تنشأ بين الأجانب والحكومة المصرية نفسها.
 • **مساوئها:** - رئاسة القضاة الأجانب لها **ما أدى إلى:** تدخلهم في سلطة القضاء التشريعي المصري.
 - انحيازها للأجانب.

٣ بعثة كيف (ديسمبر ١٨٧٥م)

- **أسباب قدومها:** اقترح الخديو إسماعيل على بريطانيا إرسال موظف كفء لدراسة أسباب سوء الأوضاع المالية في مصر وتقديم المقترحات لعلاجها فاستجابت بريطانيا وأرسلت بعثة برئاسة **المستر كيف**.
- **اقتراحاتها:** - إنشاء إدارة للمراقبة المالية يرأسها موظف إنجليزي.
- ألا يعقد الخديو قرصاً ما لم توافق عليه إدارة المراقبة المالية.

٤ صندوق الدين (مايو ١٨٧٦م)

- * أصدر الخديو إسماعيل مرسوم بإنشاء **صندوق الدين** وتولى إدارته مندوبون أجانب تتدبرهم الدول الدائنة.
- * **مهام صندوق الدين:** - تسلم المبالغ المخصصة للديون من المصالح المختلفة.
- الإشراف على تسديد الديون لأصحابها.
- * **لذلك يعتبر صندوق الدين بمثابة خزانة فرعية للخزانة المصرية.**

٥ المراقبة الثنائية (نوفمبر ١٨٧٦م)

- * اقترحت الدول الأوروبية فرض الرقابة الأوروبية على المالية المصرية، فأصدر الخديو إسماعيل مرسوم بتعيين مراقبين أجنيين على المالية المصرية، أحدهما بريطاني لمراقبة الإيرادات والآخر فرنسي لمراقبة المصروفات.
- * **لذلك عُرف هذا النظام بـ «المراقبة الثنائية».**

٦ لجنة التحقيق العليا الأوروبية (يناير ١٨٧٨م)

- **أسبابها:** بعد أن زادت الأحوال المالية سوءاً طالب المراقبين الأجنيين بتشكيل لجنة دولية للتحقيق في جميع الشؤون المالية والإدارية لمصر، فوافق الخديو إسماعيل وأصدر مرسوم بتشكيل اللجنة والموافقة على مطالبها.
- **أهم مطالبها:** (١) تنازل الخديو إسماعيل عن سلطته المطلقة لوزارة مسئولة عن الحكم في البلاد.
- (٢) تنازل الخديو إسماعيل عن أطيانه وأطيان عائلته ووضعها تحت الرقابة الدولية مقابل مخصصات مالية تصرف لهم.

٧ الوزارة المختلطة (أغسطس ١٨٧٨م)

- * **بناء على اتفاق بريطانيا وفرنسا** أصدر الخديو إسماعيل مرسوم بتشكيل الوزارة المسئولة برئاسة **نوبار باشا** وبها وزيران أجنيان أحدهما **إنجليزي للمالية** والآخر **فرنسي للأشغال** (بدلاً من المراقبة الثنائية).



نوبار باشا



تطبيق مذكرات جاهزة للطباعة

تحميل عليه من App Store Google Play

حمل التطبيق على موبايلك الأندرويد أو الأيفون

موقع مذكرات جاهزة للطباعة - www.cryp2day.com



عزل الخديو إسماعيل

* وجهت الحركة الوطنية الانتقادات للوزارة المختلطة **أدى ذلك إلى**: قيام الخديو إسماعيل بالآتي:

• إقصاء الوزيرين الأجبيين عن الوزارة.

• إصدار مرسوم في أبريل ١٨٧٩ م **بتسوية الديون** طبقاً لما قرره اللائحة الوطنية (اللائحة الأساسية).

* لذلك تدخلت الحكومتان البريطانية والفرنسية وضغطوا على السلطان العثماني فأصدر فرمان بخلع الخديو إسماعيل

وتولية ابنه **توفيق** في يونيو ١٨٧٩ م.

أسئلة**أكمل:**

- (١) منح امتياز حفر قناة السويس للمهندس الفرنسي
- (٢) أتم سعيد باشا الخط الحديدي بين
- (٣) اعتنى سعيد باشا بتطهير ترعة لتفنى بحاجة الري.
- (٤) تم الانتهاء من الخط الحديدي بين القاهرة وإسكندرية في عهد
- (٥) أصبح للفلاح الحق في توريث الأرض الزراعية في عهد بموجب
- (٦) أرسل الخديو إسماعيل عدة حملات عسكرية إلى الأقاليم الاستوائية لمنع
- (٧) تم في عهد الخديو إسماعيل تعيين مراقبين أجبيين أحدهما إنجليزي والآخر فرنسي
- (٨) كانت المحاكم المختلطة تفصل في القضايا بين المصريين والأجانب.
- (٩) تم تشكيل وزارة نوبار باشا المختلطة وفقاً لمقترحات لجنة

بم تفسر:

- (١) توقف حركة النهضة في عهد عباس الأول ؟
- (٢) يعتبر الامتياز الثاني لحفر قناة السويس مجحفاً للمصريين ؟
- (٣) افتتاح قناة السويس كان أحد عوامل الأزمة المالية في عهد الخديو إسماعيل ؟
- (٤) إرسال الخديو إسماعيل الحملات العسكرية للأقاليم الاستوائية ؟
- (٥) عزل الخديو إسماعيل وتولية ابنه توفيق في يونيو ١٨٧٩ م ؟

ضع علامة (✓) أو (×) مع التصويب:

- (١) أنشأ أول خط سكة حديد يربط بين القاهرة والإسكندرية عام ١٨٥٢ م سعيد باشا. ()
- (٢) أرسلت بريطانيا إلى مصر في عام ١٨٧٥ م لجنة برئاسة كيرزون. ()
- (٣) أصبح التجنيد إجبارياً في عهد سعيد باشا. ()

من هو:

- (١) منحه سعيد باشا امتياز حفر قناة السويس الأول والثاني ؟
- (٢) أنشأ دار الكتب المصرية ؟
- (٣) تولى أول وزارة مسئولة بها وزيران أجنيان ؟
- (٤) تولى الحكم بعد عزل الخديو إسماعيل ١٨٧٩ م ؟

دلي:

- (١) كان للمحاكم المختلطة عدة مساوئ ؟

اختبار

قارن بين: قارة أفريقيا وقارة أمريكا الشمالية من حيث (الموقع الجغرافي - الأنهار ومصباتها)

إلى أي قارة تنتمي الظاهرات الآتية:

- ١- جزيرة تسمانيا ؟ ٢- نهر السين ؟ ٣- الهضبة الغربية ؟
٤- شبه جزيرة الملايو ؟ ٥- صحراء كلهاري ؟ ٦- جزيرة كوبا ؟

صنف الأقسام الآتية حسب السلالات البشرية:

- ١- البانتو ؟ ٢- الإسكيمو ؟ ٣- جماعة التنجوس ؟
٤- المجموعة الألبية ؟ ٥- الأقزام ؟ ٦- سكان البحر المتوسط ؟

ما النتائج المترتبة على:

- (١) إصدار سعيد باشا اللائحة السعيدية ؟

بم تفسر:

- (١) قارة أنتاركتيكا غير مأهولة بالسكان ؟
(٢) افتتاح قناة السويس كان أحد عوامل الأزمة المالية في عهد الخديو إسماعيل ؟
(٣) في الوقت الحالي لا توجد سلالات نقية إلا في المجتمعات البدائية ؟
(٤) وجود عدد كبير من الزوج في الأمريكتين ؟
(٥) تدهور الزراعة في العهد العثماني لمصر ؟

أكتب ما تشير إليه الأرقام الآتية:



- (١) المحيط
(٢) هضبة
(٣) إقليم مناخ
(٤) السلالة
(٥) السلالة

دل:

- (١) يعتبر عهد الخديو إسماعيل بداية الإصلاح النيابي في مصر ؟
(٢) بذل سعيد باشا جهداً كبيراً للنهوض بالجيش ؟

اختر الإجابة الصحيحة:

- (١) أطول أنهار أوروبا نهر
(٢) تقع هضبة في جنوب أمريكا الشمالية.
(٣) يمتد الإقليم الاستوائي عبر دائرة عرض.
(٤) يسود الإقليم الموسمي في
(٥) يسود إقليم مناخ غرب أوروبا في
(٦) من دول البرزخ الأمريكي
(٧) دخل الفرنسيون القاهرة عقب معركة
(٨) تم إنشاء المطبعة الأميرية في
- (السين - المسيسيبي - الفولجا - الراين)
(البرازيل - بافاريا - لبرادور - المكسيك)
(عشر - عشرون - ثلاثون - أربعون)
(الهند - التبت - بافاريا - لبرادور)
(اليونان - رومانيا - تركيا - بريطانيا)
(بيرو - كوبا - كوستاريكا - شيلي)
(الريدانية - شبراخت - مرج دابق - إمبابة)
(الإسكندرية - دمياط - العريش - بولاق)

الحركة الوطنية والثورة العربية

أحوال مصر قبل الثورة العربية



الخديو توفيق

* تولى الخديو توفيق الحكم بعد عزل والده الخديو إسماعيل في يونيو ١٨٧٩م وأدرك من بداية حكمه مدى قوة وتسلط النفوذ الأجنبي في مصر.

دلل: أدت سياسة الخديو توفيق إلى زيادة التدخل الأجنبي في شئون مصر ؟
 (حيث: ١) أعاد نظام المراقبة الثنائية.

(٢) رفض اللائحة الأساسية (الدستور) الذي أصدره مجلس شورى النواب.

(٣) وضع نفسه تحت حماية إنجلترا وفرنسا وذلك بإسناد الوزارة إلى رياض باشا.

* أدت سياسة الخديو توفيق إلى قيام «الثورة العربية».

الثورة العربية

أسباب وعوامل قيام الثورة العربية

- (١) ازدياد التدخل الأجنبي في شئون مصر (الذي بدأ منذ عهد سعيد باشا وزاد في عهد الخديو إسماعيل) نتيجة للقروض الأجنبية وفقدان مصر نصيبها من أسهم شركة قناة السويس.
- (٢) المؤثرات الفكرية الغربية التي أدت إلى نمو الوعي القومي والمطالبة بالدستور والحكم النيابي.
- (٣) سوء أحوال مصر الاقتصادية في عهد وزارة رياض باشا.
- (٤) اضطهاد عثمان رفقي باشا ناظر الجهادية (وزير الحرية) للضباط المصريين وعدم ترقيتهم.

مراحل الثورة العربية

١ حادثة قصر النيل (منتصف يناير ١٨٨١م)



أحمد عرابي

- **أسبابها:** تقدم أحمد عرابي وزملائه بشكوى إلى رياض باشا رئيس مجلس الوزراء، طالبوا فيها بإقالة عثمان رفقي ناظر الجهادية، فأمر الخديو توفيق باعتقالهم في سجن قصر النيل وتقديمهم للمحاكمة أمام مجلس عسكري.
- **أحداثها:** تحرك بعض رجال الجيش إلى قصر النيل وأخرجوا أحمد عرابي وزملائه من السجن بالقوة ثم تحركوا لمقابلة الخديو توفيق لعرض مطالبهم.
- **نتائجها:** استجاب الخديو توفيق لمطالبهم وعزل عثمان رفقي وعين بدلاً منه محمود سامي البارودي وزيراً للحرية.



تطبيق مذكرات جاهزة للطباعة

احصل عليه من

App Store

احصل عليه من

Google Play

حمل التطبيق على موبايلك الأندرويد أو الأيفون

موقع مذكرات جاهزة للطباعة - www.cryp2day.com



٢ مظاهرات عابدين (٩ سبتمبر ١٨٨١م)

■ **أحداثها:** • خرج أحمد عرابي على رأس الجيش ومعه الآلاف من الوطنيين في مظاهرة إلى ساحة ميدان عابدين لمقابلة الخديو توفيق وتقديم مطالب الأمة.

• نزل الخديو توفيق إلى الميدان وبرفقته بعض الضباط الأتراك والقنصل البريطاني والمراقب المالي البريطاني.

■ **مطالبها:** (١) إسقاط وزارة رياض باشا المستبد.

(٢) تشكيل مجلس نواب على النسق الأوروبي.

(٣) زيادة عدد الجيش إلى ١٨ ألف جندي.

■ **نتائجها:** • وافق الخديو توفيق مضطراً على مطالب الأمة.

• أسند الخديو توفيق الوزارة إلى **شريف باشا**.



٣ وزارة شريف باشا

■ أجرت الحكومة الانتخابات لاختيار أعضاء مجلس النواب الجديد الذي أفتتح في **ديسمبر ١٨٨١م**.

■ عرض شريف باشا على مجلس النواب اللائحة الأساسية (الدستور) ولم تتضمن حق المجلس في مناقشة الميزانية وإقرارها **لأنه رأى** تأجيل مناقشة مجلس النواب للميزانية لتجنب الصدام مع الدول الأوروبية.

■ ثار جدل وحدث خلاف بين شريف باشا والنواب حول حق المجلس في مناقشة الميزانية، فقامت بريطانيا وفرنسا بإرسال **المذكرة المشتركة الأولى**.



شريف باشا

المذكرة المشتركة الأولى يناير ١٨٨٢م

• **سببها:** رغبة بريطانيا وفرنسا في تقوية مركز الخديو توفيق في مواجهة الحركة الوطنية.

• **أبدت فيها بريطانيا وفرنسا:** • رغبتها في حل مجلس النواب.

• تأييدهما التام للخديو توفيق ومساندته ضد الحركة الوطنية.

بم تفسر: استقالة وزارة شريف باشا ؟

كـ بسبب: إصرار مجلس النواب على مناقشة الميزانية.

٤ وزارة محمود سامي البارودي (وزارة الثورة) فبراير ١٨٨٢م

• تم تعيين **محمود سامي البارودي** رئيساً للوزارة وأسندت وزارة الجهادية والبحرية لأحمد عرابي.

• أصدر الخديو توفيق مرسوم بتأييد وزارة البارودي.

• أصدرت الوزارة اللائحة الأساسية ونصت على: - مبدأ مسئولية الوزارة أمام مجلس النواب.

- حق المجلس في مناقشة الميزانية وإقرارها.



محمود سامي البارودي

مؤامرة الضباط الشراكسة

• **هدفها:** اغتيال عرابي والضباط الوطنيين للإطاحة بوزارة محمود سامي البارودي، لكن تم اكتشاف المؤامرة.

* **ترتب على ذلك:** - تم محاكمة المشتركين في المؤامرة وصدر الحكم عليهم بالنفى إلى أقصى السودان.
- رفض الخديو التصديق على الحكم الذي صدر عليهم مما أدى إلى زيادة التوتر بين الوزارة والخديو.

* استغلت بريطانيا وفرنسا الأحداث وأرسلوا قطعاً من أسطولهما إلى مياه الإسكندرية وأرسلوا المذكرة المشتركة الثانية.

المذكرة المشتركة الثانية مايو ١٨٨٢م

- **سببها:** رغبة إنجلترا وفرنسا في مساندة الخديو توفيق ضد العسكريين.
- **طالبت فيها بريطانيا وفرنسا:** • إقالة وزارة البارودي.
- **إبعاد عرابي وزملائه خارج البلاد.**

الاحتلال البريطاني لمصر

* وجدت بريطانيا الفرصة لاحتلال مصر فاستغلت بعض الأحداث الداخلية ومن أهمها:

(١) **حدوث خلاف في الإسكندرية ١١ يونيو ١٨٨٢م** بين أحد الأجانب وأحد الأهالي وأدى إلى نشوب معركة راح ضحيتها عدد من القتلى من الجانبين.
ترتب على ذلك: - اجتماع قناصل الدول الأجنبية بالإسكندرية.
- سفر الخديو توفيق إلى الإسكندرية بحجة تهدئة الأوضاع.

(٢) **بقاء البلاد بدون وزارة لمدة اسبوعين** عقب استقالة وزارة البارودي، إلى أن كلف الخديو توفيق **راغب باشا** بتشكيل الوزارة في ٢٠ يونيو ١٨٨٢م.

* **عقد ممثلوا الدولة العظمى مؤتمر بالآستانة** للنظر في المسألة المصرية وقرر المؤتمر:

- إرسال الدولة العثمانية قوة لإعادة الأمن والنظام في مصر.
- عدم تدخل أى من الدول الأجنبية منفردة في المسألة المصرية.

* **لكن بريطانيا كانت تستعد لضرب الإسكندرية بالقنابل تمهيداً لاحتلال مصر.**

احتلال

الاستيلاء على أرض
الغير بالقوة.

بم تفسر: الاحتلال البريطاني لمصر ؟

- كـ سبب:** (١) حماية الخديو وتدعيم سلطته.
(٢) القضاء على الثورة العرابية.
(٣) تأمين حياة الأجانب في مصر.



تطبيق مذكرات جاهزة للطباعة

احصل عليه من

App Store

Google Play

حمل التطبيق على موبايلك الأندرويد أو الآيفون

موقع مذكرات جاهزة للطباعة - www.cryp2day.com



/ محمد فتحى



تطبيق مذكرات جاهزة للطباعة

تحميل عليه من
App Store Google Play

حمل التطبيق على موبيلك الأندرويد أو الآيفون

موقع مذكرات جاهزة للطباعة - www.cryp2day.com

خط سير القوات البريطانية

١ احتلال مدينة الإسكندرية من الإسكندرية وحتى القاهرة

- أرسل قائد الأسطول البريطاني إنذاراً إلى الحكومة المصرية يطلب فيه تسليم بعض المدافع المنصوبة في الحصون على ساحل الإسكندرية لكن الحكومة المصرية رفضت الإنذار.
- أعطى قائد الأسطول البريطاني إشارة بدء الضرب في يوليو ١٨٨٢ م.
- قام أهالي الإسكندرية والجنود المصريون يدافعون عن المدينة ورغم ذلك نزلت القوات البريطانية شواطئ الإسكندرية.
- **النتائج:**
 - احتلال القوات البريطانية مدينة الإسكندرية.
 - انسحاب العرابيون من الإسكندرية إلى كفر الدوار لمواجهة زحف الجيش البريطاني.
 - قرر الخديو توفيق عدم مغادرة سراي رأس التين بالإسكندرية هو وأسرته.



٢ معركة كفر الدوار

- أقام العرابيون الاستحكامات لمواجهة زحف الجيش البريطاني.
- أرسل الخديو إلى أحمد عرابي في كفر الدوار في يوليو ١٨٨٢ م يأمره بـ:
 - الكف عن الاستعدادات الحربية.
 - الحضور لسراي رأس التين لتلقى تعليماته.
- رفض عرابي طلبات الخديو واتهمه بمحاباة البريطانيين **وترتب على ذلك:**
 - أصدر الخديو أمراً بعزل عرابي من وزارة الحربية في يوليو ١٨٨٢ م وحذر المصريين من الانضمام إليه وأظهر عرابي بمظهر العاصي لأوامره، إلا أن ازداد تمسك المصريين بالزعيم أحمد عرابي وصمموا على مقاومة المعتدين.
- أثناء ذلك دارت المعركة بين القوات البريطانية والقوات المصرية وتمكن العرابيين من صد هجمات القوات البريطانية.
- **نتائج المعركة:** هزيمة القوات البريطانية وانسحابها من كفر الدوار وتعقبها العرابيون حتى مداخل الإسكندرية.

٣ اختراق البريطانيين لقناة السويس

- بعد هزيمة القوات البريطانية في كفر الدوار تحركت نحو قناة السويس، فعقد **أحمد عرابي** مجلس عسكري للنظر في أمر القناة.
- قرر المجلس ضرورة تعطيل الملاحة في قناة السويس وفقاً للاتفاقيات الدولية (التي تمنع استخدام القناة للأغراض العسكرية) وأكد لهم **ديليسيبس** على حيادية القناة.
- تواطئت إدارة شركة قناة السويس مع الإنجليز وسمحت للسفن البريطانية بالمرور في قناة السويس دون مراعاة لوضعها بالنسبة للملاحة الدولية.
- وصلت البريطانية إلى الإسماعيلية واحتلتها واتخذتها قاعدة لتقدمهم داخل البلاد، ثم تقدموا نحو **مدينة القصاصين**.

٤ معركة القصاصين أغسطس ١٨٨٢ م

- نجحت القوات البريطانية في احتلال **مدينة القصاصين** وأصبحت على مقربة من **التل الكبير**.



٥ معركة التل الكبير



- أقامت القوات المصرية التحصينات لصد القوات البريطانية وانضم الكثير من المتطوعين إلى القوات المصرية.
- نجحت بريطانيا في إقناع السلطان العثماني بإصدار منشور بإعلان عصيان عرابي وترتب على ذلك: إضعاف الروح المعنوية للمقاتلين المصريين.
- في سبتمبر ١٨٨٢م هاجمت القوات البريطانية خطوط الدفاع المصرية في التل الكبير، وشهد ميدان القتال بطولات مصرية منها بطولات الضابط محمد عبيد الذي صمد بقواته أمام القوات البريطانية وقاتلهم قتالاً شديداً حتى استشهد هو ومعظم رجاله.
- نتائج المعركة: • هزيمة الجيش المصري رغم المقاومة الباسلة للعرابيين. • اتجاه القوات البريطانية للقاهرة لاحتلالها.

٦ دخول القوات البريطانية القاهرة سبتمبر ١٨٨٢م

- اتجه عرابي إلى القاهرة في محاولة للدفاع عنها إلا أن روح اليأس تسربت إلى العديد من أنصاره وطلبوا منه عدم الاستمرار في المقاومة والاستسلام للقوات البريطانية.
- تقدمت القوات البريطانية نحو القاهرة واحتلتها في سبتمبر ١٨٨٢م.

محاكمة العرابيين



عبدالله النديم

- أُعتقل زعماء الثورة العرابية والضباط والأعيان الذين أيدها ماعدا خطيب الثورة عبدالله النديم الذي لم تستطع الحكومة أن تصل إليه.
- أصدرت المحكمة العسكرية في ديسمبر ١٨٨٢م حكمها بإعدام قادة الثورة العرابية.
- ★ لكن عدل حُكم الإعدام إلى النفي المؤبد ومصادرة أملاكهم، وتم نفيهم إلى جزيرة سيلان بالهند.

أسباب فشل الثورة العرابية

- (١) عدم تكافؤ القوة العسكرية بين قوات الاحتلال البريطاني والقوات المصرية.
- (٢) تواطؤ إدارة شركة قناة السويس الأجنبية (ديليسبس) مع الجيش البريطاني.
- (٣) إصدار السلطان العثماني منشور بإعلان بعصيان عرابي.
- (٤) عدم إدراك قيادة الثورة العرابية لأهمية التعبئة الشعبية لمساندة القوات المصرية في معاركها.
- (٥) ميول بعض عناصر القوات المصرية للخديو والبريطانيين.
- (٦) الظروف الدولية في عام ١٨٨٢م لم تكن في صالح الحركات الوطنية.

من هنا بدأ الاحتلال البريطاني لمصر والذي ظل لأكثر من ٧٠ عام



أسئلة

أكمل:

- (١) أدرك الخديو توفيق منذ بداية حكمه ازدياد قوة في مصر.
- (٢) طالبت إنجلترا وفرنسا في المذكرة المشتركة الأولى بحل
- (٣) قامت إنجلترا في ١١ يوليو ١٨٨٢ م بضرب مدينة
- (٤) احتلت القوات البريطانية مدينة واتخذتها قاعدة لها.
- (٥) تم الحكم على قادة الثورة العربية بـ ثم خفف الحكم للنفي إلى
- (٦) نجحت مظاهرة عابدين ٩ سبتمبر ١٨٨١ م في إسقاط وزارة
- (٧) اتخذ الخديو توفيق عدة إجراءات عند توليه الحكم منها إعادة نظام ورفض
- (٨) طالب أحمد عرابي وزملائه بإقالة ناظر الجهادية.
- (٩) استجاب الخديو لمطالب الأمة في مظاهرة عابدين وأقال وزارة وعين بدلاً منه
- (١٠) عقب استقالة وزارة البارودي ظلت البلاد لمدة بدون وزارة ثم كلف الخديو بتشكيل الوزارة.
- (١١) تأمر الضباط لقتل عرابي والإطاحة بوزارة البارودي.

بم تفسر:

- (١) إصرار شريف باشا على عدم مناقشة مجلس النواب للميزانية ؟
- (٢) فشل الثورة العربية ؟
- (٣) هزيمة العربيين في معركة التل الكبير ؟
- (٤) قيام الثورة العربية ؟
- (٥) استقالة وزارة شريف باشا ؟
- (٦) إرسال إنجلترا وفرنسا المذكرة المشتركة الأولى ؟

ما النتائج المترتبة على:

- (١) صد هجمات العربيين على مدينة كفر الدوار ؟
- (٢) معركة التل الكبير ؟
- (٣) خيانة ديليسبس لعرابي ؟

من هو:

- (١) أعاد المراقبة الشائنة ووضع نفسه تحت حماية إنجلترا وفرنسا ؟
- (٢) وزير الجهادية الذي عزله الخديو توفيق وعين بدلاً منه البارودي ؟
- (٣) شكل الوزارة في فبراير ١٨٨٢ م وسميت وزارته بوزارة الثورة ؟
- (٤) عين وزيراً للجهادية والبحرية في وزارة البارودي ؟
- (٥) أصدر منشوراً بعصيان عرابي ؟
- (٦) تصدى هو وقواته للقوات البريطانية حتى استشهد في معركة التل الكبير ؟
- (٧) خطيب الثورة العربية الذي لم تستطع الحكومة الوصول إليه ؟

دل على صحة العبارات الآتية :

- (١) اتبع الخديو توفيق سياسة أدت إلى زيادة النفوذ الأجنبي في مصر ؟
- (٢) كانت مطالب مظاهرة عابدين في صالح الأمة ؟

اختبار



أكتب ما تشير إليه الأرقام الآتية:

- (١) بحر
- (٢) هضبة
- (٣) جبال
- (٤) منطقة تركيز سكاني

انسب الأشجار الآتية إلى أقاليمها المناخية:

- (١) جو الهند ؟
- (٢) الزان ؟
- (٣) البلوط ؟

قارن بين: ثورة القاهرة الأولى وثورة القاهرة الثانية من حيث: (النتائج) ؟

اختر الإجابة الصحيحة:

- (١) تشغل هضبة معظم مساحة إسبانيا.
 - (٢) من أقسام السلالة الصفراء
 - (٣) دخل الفرنسيون القاهرة عقب موقعة
 - (٤) انتهت حرب المورة بضم جزيرة إلى مصر.
- (بافاريا - الميزيتا - الأناضول - التبت)
(البانتو - الأقزام - البوشمن - الإسكيمو)
(إمبابة - شبراخيت - أبو قير البحرية - مرج دابق)
(سيلان - مالطة - مقدونيا - كريت)

من هو:

- (١) تحالف مع الشيخ ظاهر العمر ولقب بسلطان مصر؟
- (٢) تولى قيادة الحملة البريطانية على مصر عام ١٨٠٧ م؟
- (٣) وضع دستور ١٨٧٩ م في أواخر عهد الخديو إسماعيل؟

ما النتائج المترتبة على:

- (١) تجدد الأنهار في سهول سييريا شتاء؟

ضع علامة (✓) أو (×) مع التصويب:

- () (١) تتسع السهول الفيضية وسط أمريكا الشمالية وتمتد من الشمال إلى الجنوب.
- () (٢) تنمو الغابات المخروطية وسط قارة آسيا.
- () (٣) من نماذج السلالة النقية شعب الإسكيمو شمال كندا.
- () (٤) توقفت تجارة مصر الخارجية بعد موقعة أبو قير البرية ١٧٩٨ م.
- () (٥) ثار الشعب المصري في مارس ١٨٠٤ م ضد الضرائب الباهظة التي فرضها الوالي العثماني.

أجب عما يأتي: «أدرك محمد على أن طموحاته لن تتحقق إلا من خلال قوة عسكرية نظامية»، في ضوء هذه العبارة أجب عما يأتي:

- (١) سبب إنشاء مدرسة عسكرية في أسوان؟
- (٢) ما النتائج التي ترتبت على ضم محمد على للسودان؟

بم تفسر:

- (١) فشل حركة على بك الكبير؟
- (٢) اصطحب نابليون معه في الحملة على مصر مجموعة من العلماء؟
- (٣) هزيمة المهاليك أمام العثمانيين؟

الكفاح الوطنى ضد الاحتلال البريطانى

مصر تحت الاحتلال البريطانى

* عمل الإنجليز منذ احتلالهم لمصر على فرض سيطرتهم على البلاد كما يلى:

الحكم والإدارة

- **السلطة الفعلية:** أصبحت للمعتمد البريطانى وهو ممثل سلطة الاحتلال فى مصر.
- **سلطة الخديو:** انحصرت فى التصديق على قرارات سلطات الاحتلال.

الحياة النيابية

- ألغت سلطات الاحتلال مجلس النواب الذى أُنْتُخِب عام ١٨٨١ م، وأنشأ مجالس صورية لا سلطة لها مثل: مجلس شورى القوانين والجمعية العمومية ثم الجمعية التشريعية.

الجيش

- أنشأ الإنجليز جيشاً مصرية لا يتجاوز عدده ٦ آلاف جندي ويتولى قيادة الجيش ضابط إنجليزي وانحصرت مهمة هذا الجيش فى حفظ الأمن والنظام.

الاقتصاد

- **عمل الإنجليز على فرض سياسة اقتصادية تخدم مصالحهم فقاموا بالآتى:**
 - التوسع فى زراعة القطن لتوفير المادة الخام اللازمة للمصانع البريطانية.
 - محاربة الصناعة المصرية عن طريق تسويق المنتجات البريطانية والأوروبية فى السوق المصرية.
- **ترتب على لك:** ظهور طبقة من الأعيان وكبار الملاك تستفيد من هذه السياسة الاقتصادية ويرتبط نموها الاقتصادي باستمرار بقاء الاحتلال فى مصر.

التعليم

- **أهمل الاحتلال البريطانى التعليم حيث:** جعله بمصروفات مرتفعة حصره فى فئة قليلة **بهدف** تخريج مجموعة من الموظفين للعمل فى الإدارات والمصالح الحكومية.

- * استمر المصريون فى مواصلة كفاحهم ضد الاحتلال البريطانى وضد الحكام المستبدين من أسرة محمد على من أجل:
 - تحقيق الاستقلال.
 - إقامة حكومة دستورية.
- * فظهر زعماء وطنيون مثل مصطفى كامل ومحمد فريد.

مصطفى كامل «باعت الحركة الوطنية»



مصطفى كامل

- ولد مصطفى كامل عام ١٨٧٤م.
- قاد مصطفى كامل الحركة الوطنية أواخر القرن ١٩ وكانت سلطات الاحتلال قد تمكنت من:
 - إحكام سيطرتها على البلاد.
 - إشاعة روح اليأس في نفوس المصريين.

كفاح مصطفى كامل خارج مصر

الاتفاق الودي ١٩٠٤م

اتفاق بين إنجلترا وفرنسا ينص على: أفراد إنجلترا بحكم مصر مقابل أفراد فرنسا بحكم مراكش (المغرب حالياً).

- دعا إلى رفض اتفاقية الحكم الثنائي للسودان والتي عقدت في يناير ١٨٩٩م.
- عرف الرأي العام الأوروبي وخاصة فرنسا بحق مصر في الاستقلال، لكن تخلت فرنسا عن مساندة مصطفى كامل لعقدها الاتفاق الودي مع بريطانيا عام ١٩٠٤م.
- استغل مصطفى كامل حادثة دنشواي ١٩٠٦م لفضح سياسة الاحتلال البريطاني القمعية.

كفاح مصطفى كامل داخل مصر

- وجه خطبه ومقالاته للمصريين ليحثهم على:
 - التمسك بالوحدة الوطنية والإخلاص لمصر.
 - محاربة اليأس واستثارة روح الكرامة في ذمهم.
- طالب بوضع دستور.
- أسس جريدة اللواء عام ١٩٠٠م.
- أسس الحزب الوطني عام ١٩٠٧م.
- دعا إلى إنشاء الجامعة المصرية والتي أنشئت عام ١٩٠٨م «جامعة القاهرة حالياً».



جامعة القاهرة

وفاة مصطفى كامل

* توفي مصطفى كامل عام ١٩٠٨م وخلفه في زعامة الحزب الوطني محمد فريد.

ما النتائج المترتبة على: كفاح مصطفى كامل؟

- ١) ترتب على ذلك: اشتداد الحركة الوطنية في مواجهة الاحتلال.
- ٢) استقالة اللورد كرومر أول وأقوى معتمد بريطاني في مصر نتيجة التنديد بحادثة دنشواي.

محمد فريد



محمد فريد

- دلل:** تولى محمد فريد رئاسة الحزب الوطني في ظروف صعبة؟
- كـ حيث:** تحول الخديو عباس حلمي الثاني من تأييد الحركة الوطنية إلى موالة الاحتلال فاتجه محمد فريد إلى الجهاد ضد الاحتلال البريطاني والخديو في وقت واحد والمطالبة بالجلاء والدستور.

كفاح محمد فريد

■ ظل محمد فريد يجاهد لتحقيق مطالبه حيث:

- طالب بإنشاء مجلس نيابى له سلطات واسعة.
- طالب بإنشاء نقابات للعمال.
- دعا إلى إنشاء مدارس الشعب الليلية لتعليم العمال والفقراء مجاناً.
- دعا إلى جعل التعليم إلزامياً وبالمجان فى المرحلة الابتدائية.
- نجح بتأييد من رأى العام فى إجبار الحكومة المصرية على دعوة مجلس شورى القوانين والجمعية العمومية لمناقشة طلب شركة قناة السويس فى مد الامتياز أربعين عام أخرى مما أدى إلى رفض الحكومة طلب الشركة.

وفاة محمد فريد

* توفي محمد فريد فى نوفمبر ١٩١٩م.

أسئلة

أكمل:

- (١) بعد الاحتلال البريطانى لمصر أصبحت السلطة الفعلية فى يد
- (٢) بعد الاحتلال البريطانى انحصرت سلطة الخديو توفيق فى على قرارات سلطات الاحتلال.
- (٣) أنشأ الاحتلال جيشاً مصرية لا يتجاوز عدده جندى وتولى قيادته
- (٤) توسع الاحتلال البريطانى فى زراعة لتوفير المواد الخام للمصانع
- (٥) حارب الاحتلال البريطانى الصناعة عن طريق تسويق المنتجات
- (٦) تخلت فرنسا عن مصطفى كامل بعد عقد ١٩٠٤م مع بريطانيا.
- (٧) بموجب الاتفاق الودى انفردت بريطانيا باحتلال مقابل انفراد فرنسا باحتلال
- (٨) تولى الزعيم قيادة الحركة الوطنية أواخر القرن التاسع عشر.
- (٩) دعا محمد فريد إلى إنشاء للعمال.
- (١٠) أسس مصطفى كامل جريدة عام
- (١١) ألغت سلطات الاحتلال البريطانى مجلس وأنشأت بدلاً منه و
- (١٢) دعا محمد فريد لإنشاء مدارس لتعليم و مجاناً.

ضع علامة (✓) أو (×) مع التصويب:

- () شجع الاحتلال البريطانى الصناعة المصرية.
- () كانت الوزارة المختلطة فى مصر عام ١٨٧٨م برئاسة شريف باشا.
- () استغل مصطفى كامل حادثة دنشواى للتنديد بالاحتلال البريطانى.

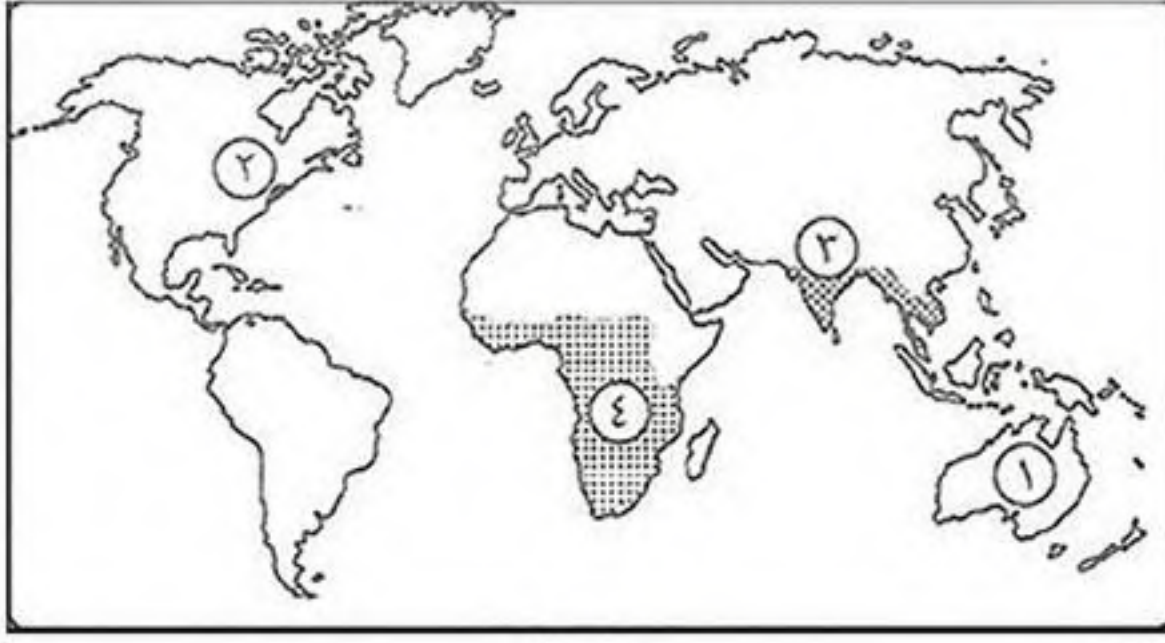
ما النتائج المترتبة على:

- (١) الاتفاق الودى عام ١٩٠٤م ؟

دل:

- (١) للاستعمار البريطانى سلبياته فى مجال التعليم ؟
- (٢) تولى محمد فريد رئاسة الحزب الوطنى فى ظروف صعبة ؟

اختبار



أكتب ما تشير إليه الأرقام الآتية:

- (١) قارة
 (٢) جبال
 (٣) إقليم المناخ
 (٤) السلالة

ضع علامة (✓) أو (×) مع التصويب:

- () (١) كانت الوزارة المختلطة في مصر عام ١٨٧٨م برئاسة شريف باشا.
 () (٢) تعتبر مصر من الدول ذات الرعايا الطبية المرتفعة .
 () (٣) يتركز سكان أستراليا على السواحل الغربية.
 () (٤) تعد سهول لابلاتا أوسع السهول النهرية في أمريكا الجنوبية.

أجب عما يأتى:

«بعد أن انصهرت السلالات واختلطت الصفات الطبيعية التي تميز كل سلالة عن الأخرى لا يوجد في الوقت الحاضر ما يعرف بالسلالة النقية»، في ضوء العبارة أجب عن الآتى:

- (١) إلى أى سلالة ينتمى سكان كل من: الصين وجنوب شرق آسيا وغالبية سكان المنطقة العربية ؟
 (٢) أذكر أسباب تركيز نسبة كبيرة من سكان العالم في المدن الكبرى ؟
 (٣) ما المقصود بالزيادة الطبيعية ؟

دلل:

- (١) شهدت مصر فترة عصيبة بعد خروج الحملة الفرنسية وحتى تولية محمد على الحكم ؟

ما النتائج المترتبة على:

- (١) ضم محمد على لبلاد السودان ؟
 (٢) تخطيط الأسطول الفرنسى في معركة أبو قير البحرية أغسطس ١٧٩٨م ؟
 (٣) ارتفاع درجة الحرارة وسقوط الأمطار طوال العام في الإقليم الاستوائى ؟
 (٤) إهمال الدولة العثمانية للحياة الفكرية والثقافية بمصر ؟

بم تفسر:

- (١) إدراك كليبر استحالة بقاء الحملة في مصر ؟
 (٢) كثرة الموانئ الطبيعية في قارة أوروبا ؟
 (٣) ضيق السواحل الغربية لقارة أمريكا الجنوبية ؟

اختر الإجابة الصحيحة:

- (١) أكبر بحر مغلق في العالم هو ويوجد بقارة آسيا.
 (٢) يحد أستراليا من الشمال
 (٣) نهر من أطول أنهار قارة أوروبا.
 (٤) تقع هضبة شمال أمريكا الجنوبية.
 (٥) فر مراد بك بعد هزيمته في معركة إمبابة إلى
 (٦) من الطبقات الاجتماعية التي تدهورت في عهد محمد على
 (البحر المتوسط - البحر الأحمر - البحر الكاريبي - بحر قزوين)
 (المحيط الهندي - المحيط الأطلنطى - المحيط الهادى - بحر آرافورا)
 (السين - الراين - الفولجا - البو)
 (جيانا - البرازيل - بتاجونيا - الحبشة)
 (القاهرة - الشام - الصعيد - الإسكندرية)
 (الأعيان - التجار - عمال الصناعة - البدو)

مصر من الحماية البريطانية حتى ثورة يوليو ١٩٥٢م

* مرت مصر بمراحل من الصدام بين الحركة الوطنية وسلطات الاحتلال البريطانى من عام ١٩١٤م وحتى قيام ثورة ٢٣ يوليو ١٩٥٢م.

ثورة ١٩١٩م

مقدمات ثورة ١٩١٩م



سعد زغلول

الحماية البريطانية

خضوع مصر المطلق للاحتلال البريطانى.

■ عقب انتهاء الحرب العالمية الأولى فى نوفمبر ١٩١٨م تألف الوفد المصرى من أعضاء الجمعية التشريعية برئاسة **سعد زغلول** ومعه آخرون.

■ توجه أعضاء الوفد المصرى لمقابلة المندوب السامى البريطانى فى مصر **السير ونجت** للمطالبة بالآتى:

(١) إلغاء الحماية البريطانية التى أعلنتها بريطانيا على مصر فى ديسمبر ١٩١٤م.

(٢) إلغاء الرقابة على الصحف والمطبوعات.

(٣) إنهاء الأحكام العرفية.

(٤) الاستقلال التام.

(٥) السماح لهم بالسفر إلى باريس لعرض المطالب الوطنية على **مؤتمر الصلح** هناك.

■ **الصدام بين أعضاء الوفد المصرى وسلطات الاحتلال:**

• اعترض المندوب السامى البريطانى على الصفة التى تعطى أعضاء الوفد التحدث باسم الأمة، ومن هنا بدأت فكرة

جمع التوكيلات من الأمة للوفد المصرى و**نتيجة لذلك** أصبح الوفد المصرى بزعامة **سعد زغلول** يمثل الأمة.

• رفضت سلطات الاحتلال البريطانى مطالب الوفد المصرى وقامت فى **مارس ١٩١٩م** بالقبض على سعد زغلول

وزملائه ونفيهم إلى **جزيرة مالطة**.

عوامل قيام ثورة ١٩١٩م

(١) ازدياد نمو الوعي القومى لدى المصريين.

(٢) الإجراءات العنيفة التى اتخذتها سلطات الاحتلال البريطانى أثناء الحرب العالمية الأولى (١٩١٤: ١٩١٨م).

(٣) ادعاء إنجلترا وحلفاءها بأنها تحارب من أجل حرية الشعوب واستقلالها.

(٤) إعلان الرئيس الأمريكى **ولسن** مبادئه الأربعة عشر ومنها حق الشعوب فى تقرير مصيرها.

أحداث ثورة ١٩١٩م

• امتدت الثورة من القاهرة إلى كافة المدن والأقاليم.

• شارك فى الثورة جميع فئات وعناصر الشعب المصرى **كما أكد على:**

الوحدة الوطنية بين أبناء الأمة المصرية.





سعد زغلول في مؤتمر الصلح

نتائج ثورة ١٩١٩م

- انزعجت بريطانيا من الثورة والأوضاع التي تترتب على سياستها وقامت:
- بعزل السير ونجت المندوب السامي البريطاني وتعيين الجنرال اللنبي.
- الإفراج عن سعد زغلول وزملائه في أبريل ١٩١٩م والسماح لهم بالسفر إلى باريس لعرض المطالب الوطنية على مؤتمر الصلح.

الوفد المصري في باريس

- * صُدم أعضاء الوفد المصري بعد وصولهم باريس بسبب اعتراف كل الدول الموجودة بالمؤتمر والرئيس الأمريكي ولسن بالحماية البريطانية على مصر.

المفاوضات المصرية البريطانية بعد ثورة ١٩١٩م حتى تصريح ٢٨ فبراير ١٩٢٨م

- * تجددت الثورة مرة أخرى فتم إلقاء القبض على سعد زغلول ونفيه للمرة الثانية إلى جزيرة سيشل فاشتدت الثورة وقاطع الشعب المصري البضائع الإنجليزية فاضطرت الحكومة البريطانية للإفراج عن سعد زغلول.

لجنة ملنر

- أرسلت الحكومة البريطانية لجنة برئاسة اللورد ملنر وزير المستعمرات البريطانية في ديسمبر ١٩١٩م لإقناع الشعب المصري بقبول الحماية البريطانية.
- رفض الشعب المصري التفاوض مع لجنة ملنر وقاطعها، لأن التفاوض معها يعنى تنازل الشعب المصري عن الوكالة للوفد المصري.

مفاوضات سعد - ملنر

- * تفاوض ملنر مع الوفد المصري وانتهى التفاوض بمشروع معاهدة رفضها الشعب المصري لأنها كانت ستؤدي إلى استقلال مصر صورياً.

مفاوضات عدلي كيرزون

- تولى عدلي يكن الوزارة في مارس ١٩٢١م وكان يرجوا أن يوفق في الاتفاق مع البريطانيين بوضع دستور يحقق آمال ومطالب المصريين ودارت المفاوضات.
- أطرافها: عدلي يكن رئيس الحكومة المصرية، وكيرزون وزير خارجية بريطانيا.
- نتائجها: فشلت المفاوضات ولم تصل إلى نتيجة مما أدى إلى:
- استقالة عدلي يكن باشا من الوزارة.
- رفض رجال السياسة تشكيل حكومة (وزارة) جديدة.



عدلي يكن

بعد فشل مفاوضات (عدلي - كيرزون) قامت بريطانيا بإصدار تصريح ٢٨ فبراير ١٩٢٢م.

دستور ١٩٣٠م

- في يونيو ١٩٣٠م شكل **إسماعيل صدقي باشا** وزارة جديدة، قامت بإلغاء دستور ١٩٢٣م ووضع **دستور ١٩٣٠م** حيث:
 - أعطى الملك مزيد من السلطات.
 - أهدر سلطة الأمة وحقوقها في مواضع كثيرة.
- موقف الشعب من دستور ١٩٣٠م عارض الشعب هذا الدستور، وقام بالعديد من المظاهرات للمطالبة بإلغاء **فاطر الملك فؤاد** إلى الرضوخ لمطالب الأمة وإعادة دستور ١٩٢٣م.

تعدد الأحزاب

- تعددت الأحزاب في مصر منذ دستور ١٩٢٣م، ولكن تعددها لم يؤدي لإثراء الحياة النيابية **لأن الأحزاب** كانت أداة للقصر الملكي ولبريطانيا لتحقيق مصالحها دون النظر لمصالح الشعب المصري.

معاهدة ١٩٣٦م



مصطفى النحاس باشا

- اضطرت بريطانيا لعقد معاهدة مع مصر لتخوفها من قيام ثورة جديدة في الوقت الذي ستخوض فيه بريطانيا حرب عالمية جديدة.
- دارت المفاوضات بين **مصطفى النحاس باشا** والإنجليز وانتهت بتوقيع معاهدة في **أغسطس ١٩٣٦م**.
- **نصوص المعاهدة:**

- (١) جلاء القوات البريطانية عن القاهرة وجميع الجهات الأخرى عدا منطقة قناة السويس.
- (٢) تقوم مصر بوضع موانئها ومطاراتها وطرق مواصلاتها تحت تصرف بريطانيا في حالة الحرب.
- (٣) تتعهد الحكومة المصرية ببناء الثكنات والمعسكرات والطرق والكبارى اللازمة للقوات البريطانية وصيانتها.
- (٤) مساعدة بريطانيا لمصر للانضمام لعصبة الأمم.
- (٥) استمرار إدارة السودان وفقاً لاتفاقية الحكم الثنائي يناير ١٨٩٩م مع عودة القوات المصرية إلى السودان.
- (٦) تسرى المعاهدة لمدة ٢٠ عام.

ما النتائج المترتبة على: معاهدة ١٩٣٦م؟

كما ترتب على ذلك:

- (١) انتهاء احتلال مصر عسكرياً مع بقاء القوات البريطانية في قناة السويس.
- (٢) إلغاء الامتيازات الأجنبية وفقاً لمؤتمر مونترال ١٩٣٧م.
- (٣) حرية مصر في عقد المعاهدات السياسية مع الدول الأجنبية بشرط ألا تتعارض مع معاهدة ١٩٣٦م.
- (٤) تقوية الجيش المصري لكي يتمكن من الدفاع عن قناة السويس بمفرده وبالتالي تجلو القوات البريطانية عن مصر.
- (٥) انضمام مصر إلى عضوية عصبة الأمم باعتبارها دولة مستقلة ذات سيادة.
- (٦) عودة الجيش المصري إلى السودان واعتراف بريطانيا بالإدارة المشتركة مع مصر للسودان.

المتغيرات الداخلية والدولية بعد معاهدة ١٩٣٦م



الملك فاروق

- تحولت العلاقة بين مصر وبريطانيا من احتلال إلى تحالف.
- ازداد نفوذ القصر وسيطرته منذ تولى **الملك فاروق** الحكم.
- تغيرت العلاقات بين مصر وبريطانيا عقب اندلاع الحرب العالمية الثانية في **سبتمبر ١٩٣٩م** نتيجة الخلافات بينهما حيث قامت بريطانيا بالضغط على **الملك فاروق** لتشكيل حكومة برئاسة **مصطفى النحاس باشا**.

• وأصرّت بريطانيا على أن تعلن مصر الحرب على دول المحور أثناء الحرب العالمية الثانية وهو ما كانت ترفضه الحكومة المصرية لاتباعها (سياسة تجنب ويلات الحرب) ونتيجة لمحاولة **الملك فاروق** أرسلت بريطانيا الإنذار الشهير **بحادثة ٤ فبراير ١٩٤٢م**.

حادث ٤ فبراير ١٩٤٢م



مصطفى النحاس

- **أسبابه:** محاكمة **الملك فاروق** في تعيين **مصطفى النحاس باشا** رئيساً للوزارة.
- **أحداثه:**
 - قامت بريطانيا بتوجيه إنذار للملك فاروق.
 - قامت الدبابات البريطانية بمحاصرة قصر عابدين وهددت بخلع الملك فاروق عن العرش.
- **نتائجه:** قبل الملك فاروق الإنذار البريطاني وعرض على **مصطفى النحاس باشا** رئيس حزب الوفد تشكيل الوزارة فقبل ذلك.

قضية الجلاء الكامل للقوات البريطانية

- في عام **١٩٤٧م** عرضت الحكومة المصرية على مجلس الأمن قضية جلاء القوات البريطانية الكامل عن مصر، ووحدة وادى النيل ولكن لم يتخذ مجلس الأمن أى قرار في القضية وتركها معلقة.
- في أكتوبر **١٩٥١م** أعلن **مصطفى النحاس باشا** رئيس الوزراء إلغاء معاهدة **١٩٣٦م** وبذلك أطلق الحرية للشعب في النضال المسلح ضد القوات البريطانية الموجودة في منطقة قناة السويس **وترتب على ذلك:** قيام **جماعات الفدائيين** بمهاجمة المعسكرات البريطانية.
- قامت الحكومة المصرية بزيادة عدد جنود الشرطة لمساعدة **الفدائيين** فقامت القوات البريطانية بحصار مبنى المحافظة بالإسماعيلية لنزع سلاح جنود الشرطة، فرفض جنود الشرطة المصرية التسليم لقوات الاحتلال البريطاني ووقع بينهما صدام في **٢٥ يناير ١٩٥٢م** واستشهد الكثير من المصريين.
- في يوم **٢٦ يناير ١٩٥٢م** وقع **حريق القاهرة** فكان ذلك نهاية النظام الملكي وقيام ثورة **٢٣ يوليو ١٩٥٢م**.



تطبيق مذكرات جاهزة للطباعة

تحميل من

App Store

Google Play

حمل التطبيق على موبايلك الأندرويد أو الآيفون

موقع مذكرات جاهزة للطباعة - www.cryp2day.com



أسئلة

أكمل:

- (١) طالب الوفد المصرى بعد الحرب العالمية الأول بإلغاء وإنها وإلغاء على الصحف.
- (٢) نتيجة ثورة ١٩١٩م قامت بريطانيا بعزل المندوب السامى البريطانى وتعيين
- (٣) أرسلت الحكومة البريطانية لجنة برئاسة لإقناع الشعب المصرى بقبول الحماية البريطانية.
- (٤) عقب تصريح ٢٨ فبراير أعلن نفسه ملكاً على مصر.
- (٥) فى ١٩ نوفمبر ١٩٢٤م تم اغتيال القائد العام للجيش المصرى والحاكم العام
- (٦) عقب استقالة وزارة سعد زغلول تشكلت وزارة برئاسة
- (٧) وضع دستور ١٩٢٣م فى عهد وزارة بينما وضع دستور ١٩٣٠م فى عهد وزارة
- (٨) من نصوص معاهدة ١٩٣٦م مساعدة بريطانيا لمصر للانضمام إلى
- (٩) تم إلغاء الامتيازات الأجنبية وفقاً لمؤتمر عام

بم تفسر:

- (١) قيام ثورة ١٩١٩م؟
- (٢) لم يحقق تصريح ٢٨ فبراير للمصريين أمانهم؟
- (٣) استقالة وزارة سعد زغلول فى ١٩٢٤م؟
- (٤) قيام الشعب برفض دستور ١٩٣٠م؟
- (٥) قيام بريطانيا بالتدخل لتشكيل وزارة جديدة فى ٤ فبراير ١٩٤٢م؟

النتائج المترتبة على:

- (١) ثورة ١٩١٩م؟
- (٢) صدور تصريح ٢٨ فبراير ١٩٢٢م؟
- (٣) معاهدة ١٩٣٦م؟
- (٤) اغتيال السير لى ستاك؟
- (٥) فشل مفاوضات عدلى - كيرزون؟
- (٦) حادث ٤ فبراير ١٩٤٢م؟

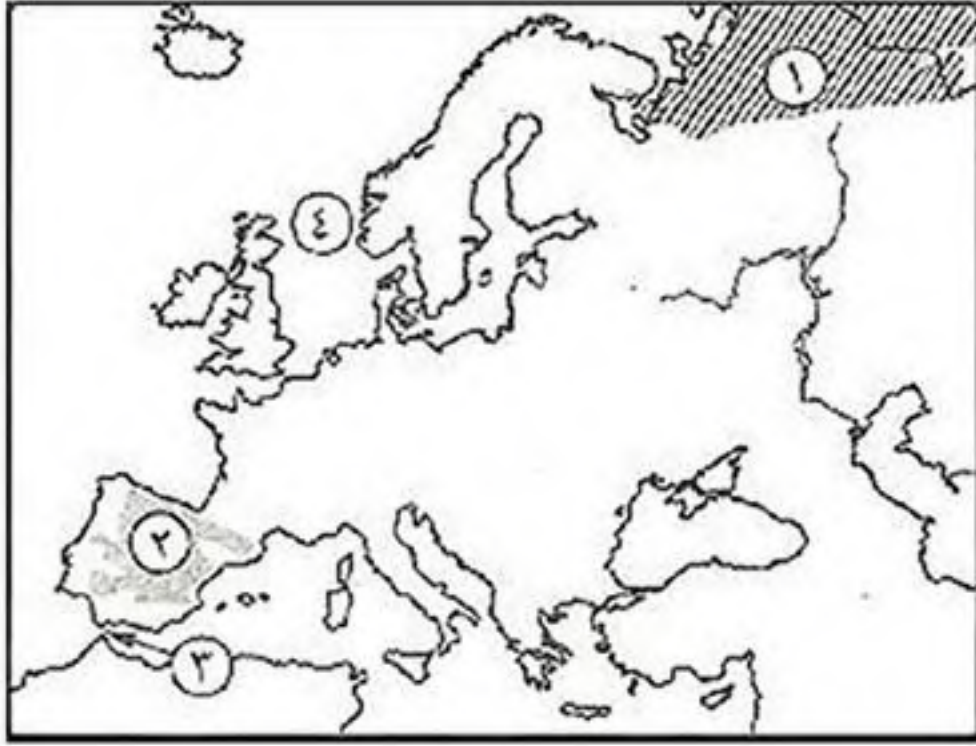
قارن بين:

- (١) مفاوضات (سعد - ملنر) و (عدلى - كيرزون) من حيث: الأطراف والنتائج.
- (٢) دستور ١٩٢٣م ودستور ١٩٣٠م.

ضع علامة (✓) أو (×) مع التصويب :

- () (١) فرضت فرنسا الحماية على مصر أثناء الحرب العالمية الأولى.
- () (٢) عزلت بريطانيا السير ونجت وعينت الجنرال اللبى بدلاً منه.
- () (٣) وافق الشعب المصرى على مشروع المعاهدة التى توصلت إليها مفاوضات سعد - ملنر.
- () (٤) أكد دستور ١٩٣٠م على أن الأمة هى مصدر السلطات.
- () (٥) شكل عدلى يكن أول وزارة برلمانية ١٩٢٤م وعرفت بوزارة الشعب.
- () (٦) ترتب على معاهدة ١٩٣٦م دخول مصر عصبة الأمم.
- () (٧) تحولت العلاقات بين مصر وبريطانيا عقب معاهدة ١٩٣٦م من تحالف إلى احتلال.

اختبار



أكتب ما تشير إليه الأرقام الآتية:

- (١) إقليم مناخ
 (٢) هضبة
 (٣) مضيق
 (٤) بحر

بم تفسر:

- (١) قيام ثورة القاهرة الأولى ؟
 (٢) ارتفاع معدل المواليد في قارة أفريقيا ؟
 (٣) تدهور التجارة الخارجية في العصر العثماني لمصر ؟
 (٤) تعرف هضبة التبت بسقف العالم ؟
 (٥) كثرة الموانئ الطبيعية على سواحل أوروبا ؟
 (٦) قلة عدد السكان في سيبيريا ؟

حدد في أي المناطق الآتية تتوقع أن يقل فيها السكان مع ذكر السبب:

(المناطق الاستوائية في أفريقيا - السهل الأوربي العظيم - سهول سيبيريا - سهول المسيسيبي - سهول نهرى مري ودارلنج).

دل:

- (١) يعد تولية محمد على حكم مصر انتصاراً للإرادة الشعبية ؟
 (٢) لا توجد سلالة أكثر ذكاء من سلالة أخرى ؟
 (٣) كان لسياسة محمد على الاقتصادية أثرها في ظهور قوى اجتماعية جديدة في مصر ؟

النتائج المترتبة على:

- (١) موقعة نغارين ١٨٢٧م ؟
 (٢) زيادة عدد السكان في معظم قارة آسيا ؟
 (٣) الرعاية الطبية الفائقة في الدولة المتقدمة ؟
 (٤) إهمال الدول العثمانية الحياة الفكرية بمصر ؟

في أي الدول توجد الظواهر التضاريسية الآتية:

- (١) هضبة الدكن. (٢) سهل كلنشو؟ (٣) سهول نهر لابلاتا ؟

ذكر موسم سقوط المطر لكل إقليم مناخ:

- (١) غرب أوروبا؟ (٢) البحر المتوسط ؟ (٣) الموسمي.

قارن بين:

- (١) قارة أفريقيا وقارة أمريكا الشمالية من حيث: الموقع الجغرافي - مناطق تركيز السكان.

ضع علامة (✓) أو (×) مع التصويب:

- () (١) أشجار الصفصاف من أشجار الغابات الاستوائية.
 () (٢) تمتد جبال الأورال بين قارتى آسيا وأفريقيا.
 () (٣) يصب نهر الفولجا في البحر الأسود.
 () (٤) قررت الزعامة الشعبية بدار المحكمة في مايو ١٨٠٥م تعيين خورشيد باشا والياً.
 () (٥) أصدرت إنجلترا وفرنسا المذكرة المشتركة الثانية تطالبان بإقالة وزارة شريف باشا.

فهرس الموضوعات

الصفحة

أولاً: الجغرافيا

الوحدة الأولى: الجغرافيا الطبيعية للعالم

٢	الدرس الأول: قارات العالم (الموقع والمساحة)
٨	الدرس الثاني: تضاريس العالم
١٧	الدرس الثالث: المناخ والنبات الطبيعي في العالم

الوحدة الثانية: جغرافيا سكان العالم

٢٥	الدرس الأول: السلالات البشرية في العالم
٢٩	الدرس الثاني: توزيع السكان في العالم
٣٥	الدرس الثالث: خصائص سكان العالم

الوحدة الثالثة: مصر تحت الحكم العثماني

٤١	الدرس الأول: مصر بين المماليك والعثمانيين
٤٧	الدرس الثاني: الحملة الفرنسية (١٧٩٨م - ١٨٠١م)
٥٥	الدرس الثالث: ثورة الشعب المصري وتولية محمد علي
٥٩	الدرس الرابع: محمد علي وبناء مصر الحديثة

الوحدة الرابعة: مصر والزحف الاستعماري ومحاولات التحرر الوطني

٦٥	الدرس الأول: خلفاء محمد علي وازدياد النفوذ الأجنبي
٧٣	الدرس الثاني: الحركة الوطنية والثورة العرابية
٨٠	الدرس الثالث: الكفاح الوطني ضد الاحتلال البريطاني
٨٤	الدرس الرابع: مصر من الحماية البريطانية حتى ثورة يوليو ١٩٥٢م



مذكرات السلطان

www.facebook.com/EL.Sulttan



تابعنا على صفحتنا



تطبيق مذكرات جاهزة للطباعة

تحميل من App Store

احصل عليه من Google Play

حمل التطبيق على موبايلك الأندرويد أو الأيفون

موقع مذكرات جاهزة للطباعة - www.cryp2day.com

إهداء إلى الجمعيات الخيرية

السلطان



012 000 28 345



www.facebook.com/EL.Sulttan